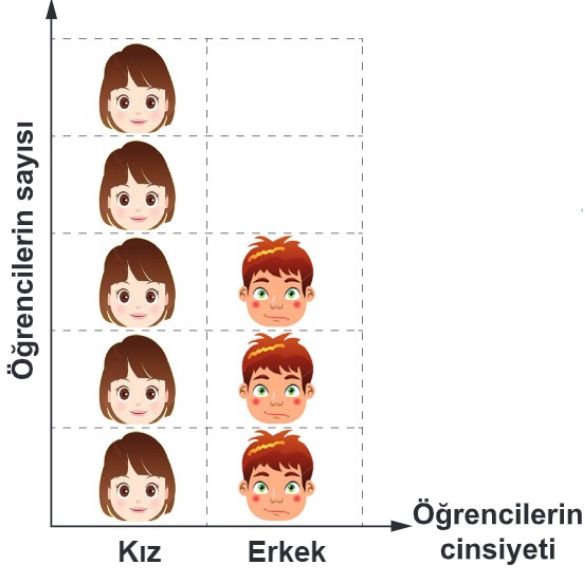


MEB KAZANIM DEĞERLENDİRME

1. 1. Grafik: 3/A Sınıfındaki Kız ve Erkek Öğrencilerin Dağılımı

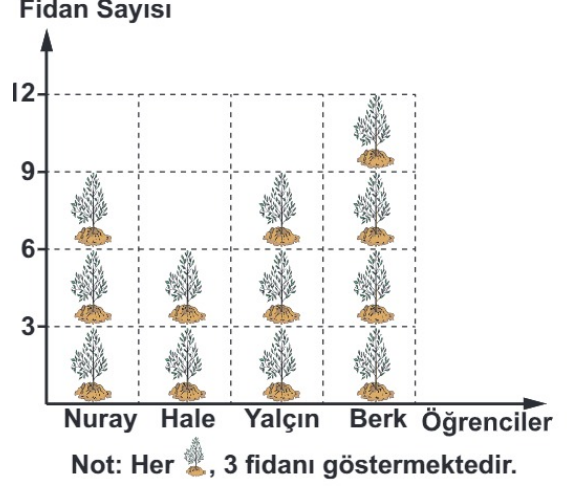


Yukarıda bir okulun 3/A sınıfına ait öğrencilerin cinsiyetlerine göre dağılım grafiği verilmiştir. Bu sınıftaki kız öğrencilerin sayısı, erkek öğrencilerin sayısından 6 fazladır.

Grafiğe göre, bu sınıfın öğrenci mevcudu kaçtır?

- A) 8 B) 16 C) 24 D) 32

2. Grafik: Öğrencilerin Diktiği Fidan Sayıları



Yukarıdaki grafik dört öğrencinin okul bahçesine diktiği fidan sayılarını göstermektedir. Grafiğe göre, aşağıdakilerden hangisi yanlıştır?

- A) Hale 6 tane fidan dikmiştir.
B) En çok fidanı Berk dikmiştir.
C) En az fidanı Yalçın dikmiştir.
D) Nuray ve Yalçın eşit sayıda fidan dikmiştir.

- 3.

Gezi Yeri ile İlgili Çetele Tablosu	
GEZİ YERİ	ÖĞRENCİ SAYISI
Anıtkabir	### ### ###
Çanakkale	### ### ////
İstanbul	### ### //
Pamukkale	### ////

Gezilere toplam kaç öğrenci gidecektir?

- A) 49 B) 50 C) 51 D) 48

4. Bir çiçekçi 18 tane gül, 12 tane karanfil ve 6 tane lale satmıştır. Satılan bu çiçeklerin sayılarının çetele tablosu aşağıdakilerden hangisidir?

A) Tablo: Satılan Çiçekler

Çiçekler	Sayıları
Gül	HHH HHH HHH III
Karanfil	HHH HHH II
Lale	HHH I

B) Tablo: Satılan Çiçekler

Çiçekler	Sayıları
Gül	HHH HHH III
Karanfil	HHH HHH II
Lale	I

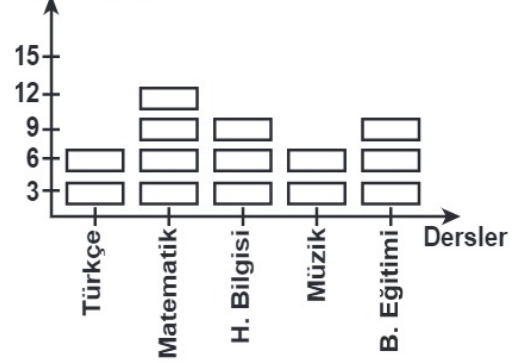
C) Tablo: Satılan Çiçekler

Çiçekler	Sayıları
Gül	HHH HHH HHH
Karanfil	HHH HHH II
Lale	HHH I

D) Tablo: Satılan Çiçekler

Çiçekler	Sayıları
Gül	HHH HHH HHH III
Karanfil	HHH HHH I
Lale	HHH

5. Öğrenci Sayısı

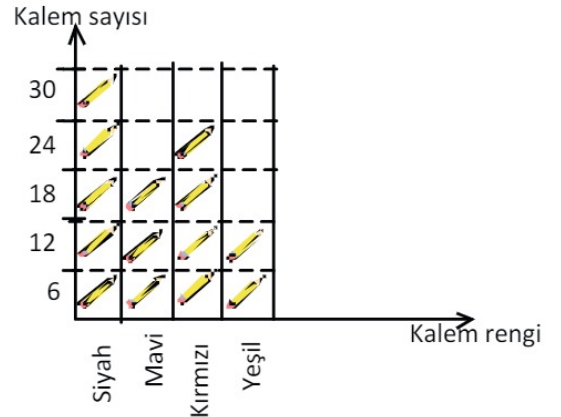


Her şekil 3 (üç) öğrenciyi göstermektedir.

Türkçe, Hayat Bilgisi ve Matematiği seven öğrenci sayısı, Müzik ve Beden Eğitimi seven öğrenci sayısından kaç fazladır?

- A) 7 B) 8 C) 9 D) 12

6. Grafik: Sınıfa dağıtılan kalemler



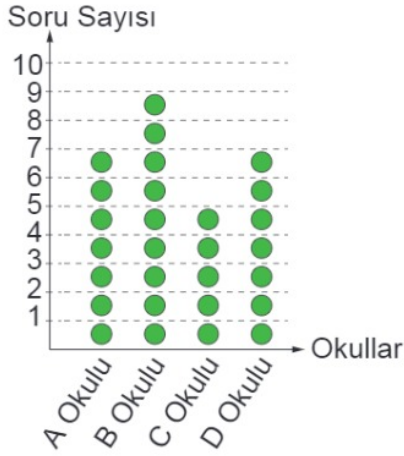
(Not: Her şekil 6 kalemi göstermektedir.)

Yukarıdaki grafik, bir sınıfın öğrencilerine dağıtılan kalemlerin renklerini ve sayılarını göstermektedir. Sınıftaki her öğrenciye 4 kalem dağıtılmış ve hiç kalem artmamıştır.

Buna göre bu sınıf kaç kişidir?

- A) 84 B) 64 C) 32 D) 21

7. **Grafik:** Bilgi Yarışmasında Okulların Doğru Cevapladığı Soru Sayıları



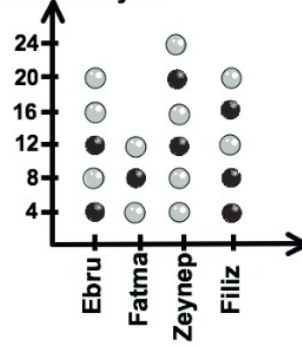
Not: Her ● 4 puanı göstermektedir.

Yukarıdaki grafik, dört okul arasında yapılan bilgi yarışmasında okulların doğru cevapladığı soru sayısını göstermektedir.

Grafiğe göre, aşağıdakilerden hangisi yanlıştır?

- A) Yarışmada B okulu 36 puanla birinci olmuştur.
 B) A okulu ile D okulu aynı puanı almıştır.
 C) C ve D okullarının aldığı puanların toplamı B okulunun puanına eşittir.
 D) C okulu 3 soru daha doğru cevaplasaydı ikinci olurdu.

8. **Boncuk sayısı**



Her şekil 4 boncuğu göstermektedir.

● → siyah boncuk

○ → beyaz boncuk

Verilen şekil grafiği, Ebru, Fatma, Zeynep ve Filiz'in satın aldıkları boncukları göstermektedir.

Grafiğe göre, aşağıdakilerden hangisi yanlıştır?

- A) Zeynep Fatma'dan 8 beyaz boncuk fazla almıştır.
 B) Ebru ile Filiz toplam 40 boncuk almıştır.
 C) Ebru ile Zeynep'in aldığı siyah boncukların sayıları eşittir.
 D) Fatma Filiz'den 4 boncuk az almıştır.

9.

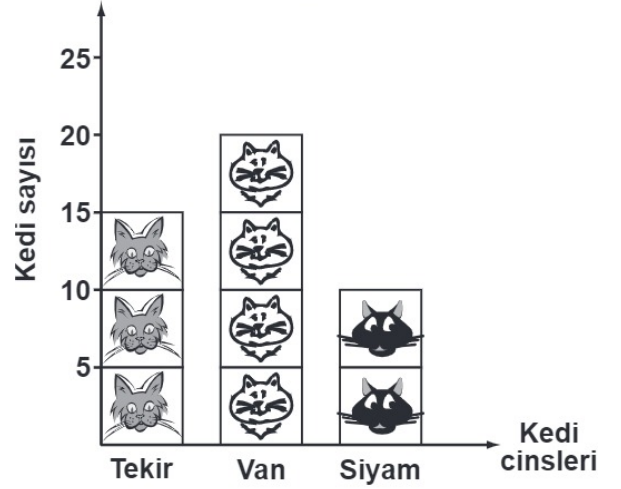
Basketbol	### ### //
Voleybol	### ///
Futbol	### ### ///
Yüzme	### ### //

Yukarıdaki çetele tablosu bir sınıftaki öğrencilerin hangi sporlarla ilgilendiğini göstermektedir.

Tabloya göre, aşağıdakilerden hangisi yanlıştır?

- A) Voleybolla ilgilenenlerin sayısı futbolla ilgilenenlerin sayısından fazladır.
- B) Yüzme ve basketbolla ilgilenen öğrenci sayıları eşittir.
- C) En az voleybolla ilgilenilmektedir.
- D) En çok futbolla ilgilenilmektedir.

10. Grafik: Kedi Çiftliğindeki Kedilerin Cinsleri ve Sayıları

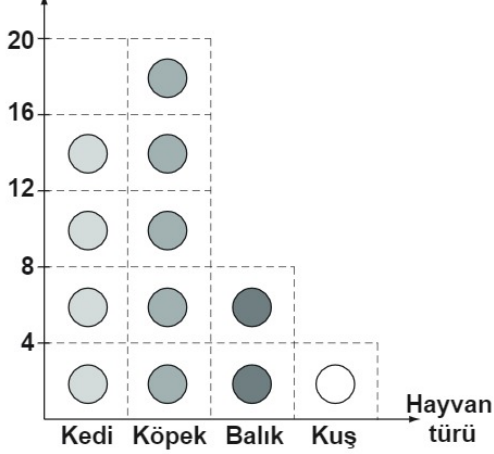


Not: Her şekil 5 kediyi göstermektedir.

Verilen şekil grafiğine göre, aşağıdakilerden hangisi doğrudur?

- A) Van kedilerinin sayısı, tekirlerin sayısından 5 fazladır.
- B) Van kedilerinin sayısı, tekir ve siyamların toplam sayısı kadardır.
- C) Toplam 40 tane kedi vardır.
- D) Çiftlikte 4 cins kedi vardır.

11. Öğrenci sayısı



Not: Her şekil 4 öğrenci göstermektedir.

Bir okuldaki öğrencilerin sevdiği hayvanlar yukarıdaki grafikte gösterilmiştir.

Grafiğe göre, aşağıdakilerden hangisi doğrudur?

- A) Kuş seven 1 öğrenci vardır.
- B) Balık seven 8 öğrenci vardır.
- C) Kedi sevenlerin sayısı en fazladır.
- D) Köpek seven 16 öğrenci vardır.

12. Bir pastanede gün içinde; 12 muzlu, 4 kestaneli, 8 kakaolu pasta satılmıştır. Satılan pastaların sayılarının çetele tablosu olarak gösterimi aşağıdakilerden hangisidir?

A) Tablo: Pasta Sayısı Çetelesi

Pasta çeşidi	Satış sayısı
Muzlu	### ## //
Kestaneli	////
Kakaolu	### //

B) Tablo: Pasta Sayısı Çetelesi

Pasta çeşidi	Satış sayısı
Muzlu	### //
Kestaneli	////
Kakaolu	### //

C) Tablo: Pasta Sayısı Çetelesi

Pasta çeşidi	Satış sayısı
Muzlu	### //
Kestaneli	////
Kakaolu	////////


D) Tablo: Pasta Sayısı Çetelesi

Pasta çeşidi	Satış sayısı
Muzlu	### ### //
Kestaneli	###
Kakaolu	### ##

13. Bir mağazada üç ayda satılan bisikletlerin sayıları aşağıdaki grafikte verilmiştir.

Grafik: Üç Ayda Satılan Bisiklet Sayıları



NOT: Her  6 bisikleti göstermektedir.


Grafiğe göre, aşağıdakilerden hangisi doğrudur?

- A) En çok bisiklet temmuz ayında satılmıştır.
 B) Haziran ayında 18 bisiklet satılmıştır.
 C) Üç ayda toplam 60 bisiklet satılmıştır.
 D) Haziran ve temmuz aylarında toplam 36 bisiklet satılmıştır.

14. Bir çiçekçide salı günü satılan güllerin renklerine göre sayıları grafikte verilmiştir.

Grafiğe göre, aşağıdakilerden hangisi doğrudur?

Grafik: Salı Günü Satılan Güllerin Sayısı



Not: Her şekil, 8 gülü göstermektedir.

- A) En çok pembe gül satılmıştır.
 B) 16 tane sarı gül satılmıştır.
 C) Toplam 88 gül satılmıştır.
 D) 32 tane kırmızı gül satılmıştır.

15. Sevim Öğretmen, öğrencilerine en çok sevdikleri hayvanları sormuştur. 13 öğrenci kedi, 10 öğrenci köpek, 8 öğrenci maymun ve 4 öğrenci de papağan cevabını vermiştir.

Öğrencilerin en çok sevdikleri hayvanların çetele tablosu aşağıdakilerden hangisidir?

- A) Tablo: En Çok Sevilen Hayvanlar

Hayvanlar	Sayıları
Kedi	### ### III
Köpek	### ###
Maymun	### III
Papağan	IIII

- B) Tablo: En Çok Sevilen Hayvanlar

Hayvanlar	Sayıları
Kedi	### ###
Köpek	### ###
Maymun	### II
Papağan	III

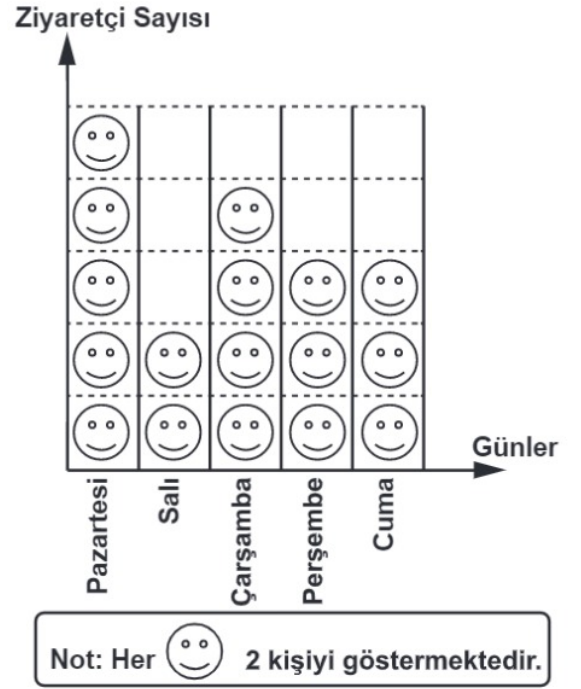
- C) Tablo: En Çok Sevilen Hayvanlar

Hayvanlar	Sayıları
Kedi	### ### II
Köpek	### ###
Maymun	### I
Papağan	IIII

- D) Tablo: En Çok Sevilen Hayvanlar

Hayvanlar	Sayıları
Kedi	### ### III
Köpek	### ###
Maymun	###
Papağan	III

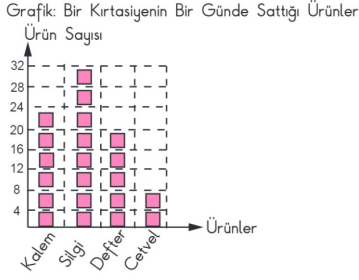
16. Grafik: Müzeyi Ziyaret Eden Kişi Sayısı



Verilen grafiğe göre aşağıdaki sorulardan hangisi yanıtlanabilir?

- A) Müze hafta içi en fazla hangi gün ziyaret edilmiştir?
 B) Müzeyi hafta sonu ziyaret eden kişi sayısı kaçtır?
 C) Müzede her gün kaç görevli çalışmaktadır?
 D) Müze hangi gün daha uzun süre açık kalmaktadır?

17. Grafik: Bir kırtasiyenin Bir Günde sattığı Ürünler



Not: Her 4 ürünü göstermektedir.

Grafikte bir kırtasiyenin bir günde sattığı ürünlerin sayısı verilmiştir. Buna göre aşağıdakilerden hangisi yanlıştır?

- A) Satılan toplam ürün sayısı 84'tür.
 B) Satılan silgi sayısı, satılan cetvel sayısından 24 fazladır.
 C) Satılan cetvel sayısı, satılan defter sayısından 12 eksiktir.
 D) Satılan cetvel ve defter sayılarının toplamı, satılan kalem sayısına eşittir.

18. Tabloda ocak ayında bir fabrikada üretilen araçların türleri ve sayıları verilmiştir. Üretilen otobüs sayısı tablodan silinmiştir.

Tablo: Üretilen Araçların Türlerine Göre Sayıları

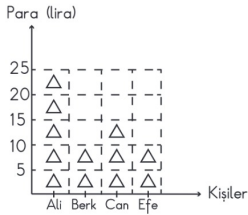
Araç Türü	Araç Sayısı
Otobüs	
Kamyon	###
Minibüs	### #
Tır	###

Ocak ayında bu fabrikada en çok üretilen araç minibüstür.

Buna göre üretilen otobüs sayısı tır sayısından en çok kaç fazladır?

- A) 5 B) 4 C) 3 D) 2

19. Grafik: 4 Kişinin Ceplerindeki Paraların Miktarı



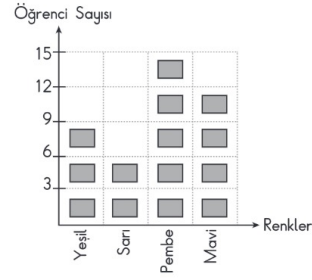
Not: Her şekli 5 lirayı göstermektedir.

Yukarıdaki grafik, dört kişinin ceplerindeki paraların miktarını göstermektedir. Grafığe göre bu dört kişinin paralarının eşit miktarda olması için aşağıdakilerden hangisi yapılmalıdır?

- A) Ali, Berk'e 5 lira ve Efe'ye 10 lira vermelidir.
 B) Ali, Berk'e 5 lira ve Can, Efe'ye 5 lira vermelidir.
 C) Ali, Berk'e 5 lira ve Efe'ye 5 lira vermelidir.
 D) Ali, Berk'e 10 lira ve Can'a 5 lira vermelidir.

20. Bir sınıftaki öğrencilerin en sevdiği renkleri aşağıdaki şekil grafiğinde gösterilmiştir.

Grafik : En Sevilen Renkler



Not : Her , 3 kişiyi göstermektedir.

Bu grafiğe ait çetele tablosu aşağıdakilerden hangisidir?

A) Tablo : En Sevilen Renkler

Yeşil	
Sarı	
Pembe	###
Mavi	

B) Tablo : En Sevilen Renkler

Yeşil	###
Sarı	###
Pembe	###
Mavi	### ##

C) Tablo : En Sevilen Renkler

Yeşil	### ## #
Sarı	### ##
Pembe	### ## ## ##
Mavi	### ## ## ##

D) Tablo : En Sevilen Renkler

Yeşil	###
Sarı	###
Pembe	### ## ##
Mavi	### ##