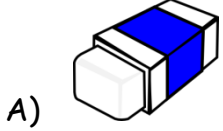


2. SINIFLAR DENEME SINAVI 1

1) Aşağıda verilen resimlerdeki nesnelerin isimlerini sözlük sırasına göre dizdiğimizde hangisi ilk önce gelir?



dengeli - olmak - beslenmeliyiz - için - düzenli - sağlıklı - ve

5) Yukarıdaki sözcüklerden kurallı bir cümle oluşturulduğunda baştan üçüncü sözcük hangisi olur?

A) olmak

B) için

C) sağlıklı

"Gazete, Ördek, Ayakkabı"

2) Yukarıdaki hangi kelime sessiz harfle başlayıp ,sesli harfle bitmiştir?

A) gazete

B) Ördek

C) Ayakkabı

6) Aşağıdaki çizgi film kahramanlarının söylediği cümlelerden hangisinde satır sonuna sığmayan sözcük yanlış yazılmıştır?

A) Okulumu çok sev-
iyorum.

B) Öğretmenimi çok sevi-
yorum.

C) Arkadaşlarımı çok se-
viyorum.

3) "Öğrenci-talebe" sözcükleri arasındaki ilişkiye benzer bir ilişki aşağıdakilerden hangisinde yoktur?

A) mektep-okul

B) siyah-kara

C) yarar-zarar

Aykut: Bugün tırafik çok yoğundu.

Berk: Sedat 'ın öğretmenini gördüm.

Tülin: Bahçede çalışırken çok eylendik.

7) Hangi öğrencinin yazdığı cümlede yazım yanlışı yoktur?

A) Aykut

B) Berk

C) Tülin

"Aynur okulda kitabını unutmuş."

4) Yukarıdaki Mırmır'ın söylediği cümlede hangi sorunun cevabı yoktur?

A) Ne zaman?

B) Kim?

C) Nerede?

8) Aşağıdaki seçeneklerde verilen Mustafa Kemal Atatürk'ün kişisel özelliklerinden hangisinin yazılışında en çok sesli (ünlü) harf kullanılmıştır?

A) çalışkan

B) disiplinli

C) sabırlı

ÇAM AĞACI

Eski zamanlarda, büyük bir ormanda bir çam ağacı yaşarmış. Hani şu yaprakları diken diken olan ama diken kokan çamdan. Yalnız bu çam ağacı durumundan hiç memnun değilmiş." Öteki ağaçların ne güzel kocaman yaprakları var. Benimkiler ise diken diken, kuşlar bile konmaya korkar. Öteki ağaçlardan bir ayrıcalığım olsa ormandaki ağaçlar ve hayvanlar beni fark etseler ne iyi olur." dermiş.**9.ve 10. soruları metne göre cevaplayınız.**

9) Çam ağacı nerede yaşarmış?

- A) Eski zamanlarda
B) Bahçede
C) Büyük bir ormanda

10) Çam ağacı durumundan neden memnun değilmiş?

- A) Kocaman yaprakları olduğu için
B) Kuşlar yapraklarına konduğu için
C) Yaprakları diken diken olduğu için

Merve: Şiir yazmayı çok seviyorum.

11) Merve'nin sözlerinde aşağıdaki sorulardan hangisinin cevabı vardır?

- A) Ne? B) Nerede? C) Ne zaman?

12) Aşağıdaki cümlelerin hangisinde zıt anlamlı sözcükler bir arada kullanılmıştır?


- A) Ali bugün çok mutlu ve huzurluydu.
B) Bu hatan ilk ve son olsun.
C) Ela sütün sıcak mı, ılık mı?

"Şila, beraber golcülük oynayalım mı"**13) Pepee'nin Şila'ya söylediği cümlenin sonuna hangi noktalama işareti koymalıyız?**




- A) Nokta B) Ünlem C) Soru işareti

Akrabalarınız nereden geldi 

Mete'nin arabası yeşildir 

Eyvah, süt taştı 

14) Yukarıdaki cümlelerin sonundaki şekillerin yerine gelecek noktama işaretleri hangi şıkta doğru sırayla verilmiştir?

			
A)	.	?	!
B)	?	.	!
C)	?	!	.

Bir zamanlar, yavrularıyla beraber mutlu bir hayat süren bir tarla kuşu varmış.
Yumurtalarından yeni çıkardığı yavrularına uçma dersleri veriyor, onları en güzel şekilde yetiştirmeye çalışıyormuş.

15) Yukarıdaki sayfada yer alan metnin başlığı aşağıdakilerden hangisi olabilir?

- A) Tilki ile Karga
B) Tarla Kuşu ile Yavruları
C) Okulda Bir Gün

MATEMATİK

1) Aşağıdaki kalemi hangisi ile ölçmek uygun olur?



- A) kulaç
B) karış
C) ayak

" Sınıfın duvarını ölçmeliyim."

2) Sizce Necat sınıfın duvarını en kolay şekilde ölçmek için standart olmayan ölçme birimlerinden hangisini kullanmalıdır?

- A) Ayak B) Karış C) Kulaç

3) Aşağıdaki doğal sayıların hangisinde diğerlerinden fazla onluk vardır?

A)




B)



C)



4) Aşağıdaki standart olmayan birimlerle yapılan ölçümlerden hangisi doğrudur?





8 birlik
4 onluk




8 onluk
4 birlik

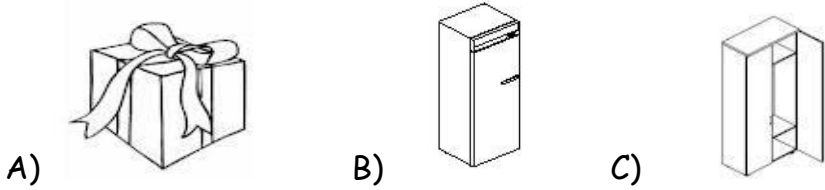


80 onluk
4 birlik


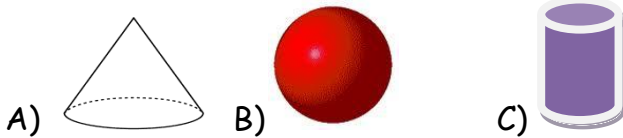
5) Yukarıdaki üç kuştan hangisi 48 sayısını söylemektedir?




6) Aşağıdaki cisimlerin hangisinin bütün yüzeyleri karedir?



7) Aşağıdaki geometrik şekillerden hangisi düz bir yüzeye sahip değildir?



8) Ali ile Ayşe pikniğe gittiler. Çaylarını içerlerken küp şekerin üzerine gelen karıncaları gördüler. Ali, Ayşe'ye hangi karıncanın küpün ayrıtı üzerinde olduğunu sordu. Yukarıdaki resme göre hangi karınca ayrıtın üzerindedir?



Hasan : Ben 1 yarım 6 çeyrek elma yedim.

Tipitip : Ben 2 yarım 4 çeyrek elma yedim.

Aysel : Ben 1 bütün 3 yarım elma yedim.

9) Yukarıda hangi çocukların yedikleri elma miktarı eşittir?

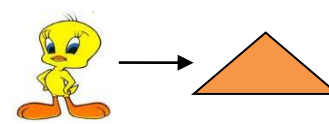
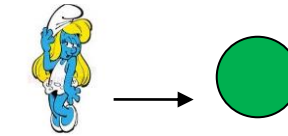
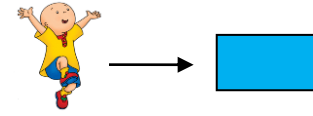
A) Aysel ile Hasan

B) Tipitip ile Aysel

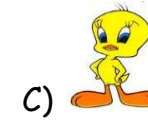
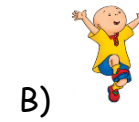
C) Hasan ile Tipitip



10) Hakan yukarıdaki şeklin simetriğini bulamıyor. Hakan'ın baktığı şeklin simetriği aşağıdakilerden hangisidir?



12) Yukarıdaki resme göre hangi çizgi film kahramanının çizdiği geometrik şeklin köşesi yoktur?



Ayşe: Herkesin adım, kulaş, parmak, ayak ve karışının uzunluğu aynı olmadığı için.

Murat: Bir uzunluğu ölçerken herkesin aynı sonucu bulması için.

Mine: Herkesin kulacı aynı uzunlukta olduğu için.

11) "Standart ölçme birimlerini neden kullanıyoruz?" sorusuna hangi öğrenci yanlış cevap vermiştir?

A) Ayşe

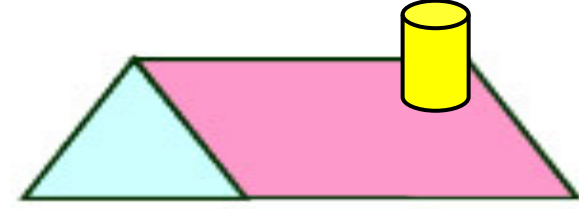



B) Murat

C) Mine

13) Mesut ile Necat bahçede mandalina topluyorlar. Kasalarındaki mandalinaları saydıklarında Mesut 2 onluk 1 birlik ; Necat 1 onluk 2 birlik olarak söylemişlerdir. **Mesut ile Necat'ın mandalina sayıları kaçtır?**

	<u>Mesut</u>	<u>Necat</u>
A)	12	21
B)	20	10
C)	21	12

14) Aşağıdaki kalplerden hangisine **6 kalp** daha eklersem **iki düzine** kalp çizmiş olurum?



15) Selen, yukarıdaki cismi oluştururken **hangi iki geometrik cismi** birleştirmiştir?

- A) Üçgen prizma ve dikdörtgen prizma
B) Kare prizma ve silindir
C) Üçgen prizma ve silindir



1) Yukarıdaki çiçeğin yapraklarında boş bırakılan yere yere aşağıdakilerden hangisi yazılabilir?

- A) Ödevlerimi yaparım.
- B) Saçlarımı tararım.
- C) Sınıfımı temizlerim.

3) Aşağıdakilerden hangisi trafikte yapılan yanlış davranışlardandır?

- A) Yeşil ışıkta geçmek.
- B) Kırmızı ışıkta durmak.
- C) Karşıya geçişlerde üst geçitleri kullanmamak.

İFADELER	Doğru -Yanlış
Sınıfın en başarılı öğrencisi sınıf başkanı olur.	
Seçimde en çok oyu alan sınıf başkanı olur.	
Sınıf başkanını öğretmen seçer.	

2) Yukarıdaki tabloda yazılı ifadelerden doğru olanlara D, yanlış olanlara Y yazılırsa tablonun "Doğru- Yanlış" kısmı aşağıdakilerden hangisi gibi olur?

- A)

D
D
Y

 B)

Y
D
Y

 C)

Y
D
D

4) Bayrağımız bizim için neden önemlidir ?

- A) Rengi güzel olduğu için
- B) Bağımsızlığımızı temsil ettiği için
- C) Üzerinde ay ve yıldız olduğu için



Ben Merve, ıspanak ve havuç sevmem.




Ben Ayşe, her yemekten yeteri kadar yerim ve düzenli beslenirim.



Ben Ahmet, sadece çikolata yerim.

5) Yukarıdaki çocuklardan hangisi **dengeli ve düzenli** beslenmektedir?

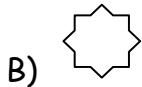
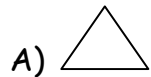


Kurallar sınıfın düzeni içindir.

Kurallar öğretmen istediği içindir.

Kurallara uymazsak sınıfın düzeni bozular.

6) Yukarıdaki cümlelerden hangisi **yanlıştır**?



"Milli bayramlarımızın hangisinde sınıfları süsleyemeyiz?"

7) Ahmet uzun süredir düşünüyor ama cevabı bulamıyor. Milli bayramlarımızın hangisinde sınıfları **süsleyemeyiz**?

A) Cumhuriyet Bayramı

B) Kurban Bayramı

C) 23 Nisan Ulusal Egemenlik ve Çocuk Bayramı

CAN: ben tek başıma yapacağım.

ELİF: Benim istediklerim olacak.

EMRE: Bu ödevi ortak kararlar alarak beraber yapmalıyız.

8) Elif, Can ve Emre'ye öğretmen birlikte yapacakları bir ödev vermiştir. Yukarıda söylediklerine göre hangisinin davranışı

doğrudur?

A) Emre

B) Can

C) Elif

Kerem : Atatürk 1981 yılında Selanik'te doğmuştur.

Merve: Atatürk'e Mustafa adını matematik öğretmeni vermiştir.

Canan : Atatürk'ün annesinin adı Zübeyde Hanım, babasının adı Ali Rıza Bey'dir.

9) Yukarıdaki öğrencilerden hangisi ya da hangileri Atatürk'le ilgili **yanlış** bir cevap vermiştir?


A) Kerem

B) Kerem ve Merve

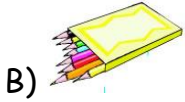
C) Canan

Ders Saati	Perşembe
1.Ders	Havat Bilaisi
2.Ders	Türkce
3.Ders	Türkce
4.Ders	Matematik
5.Ders	Resim
6.Ders	Serbest Etkinlik

10) Yukarıda Beril'in Perşembe günkü ders programı verilmiştir. Buna göre Beril, çantasına aşağıdakilerden hangisini koymasına **gerek yoktur?**



Cetvel



Boya
Kalemleri



Flüt

11) Öğretmeni Esra'dan **karayolu** ulaşım araçlarının bulunduğu çiçek yapraklarını boyamasını istemiştir. Buna göre Esra **kaç numaralı** çiçek yapraklarını boyamalıdır?



A) 3 ve 5

B) 1 ve 2

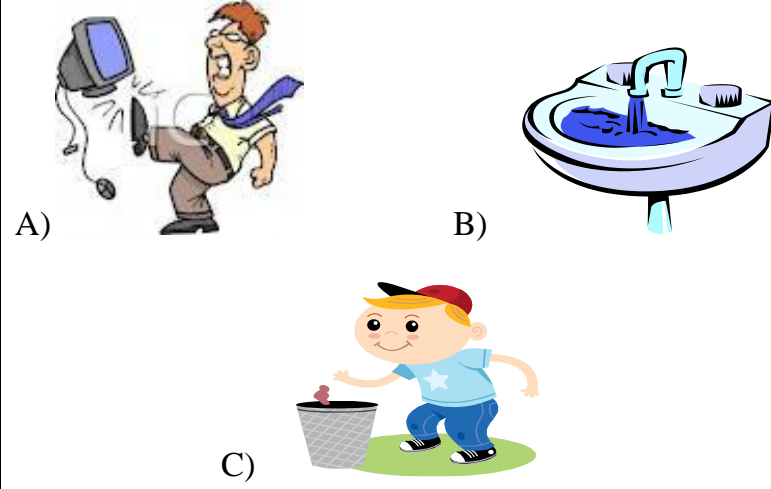
C) 1 ve 4

- Merdivenlerden sağdan inip sağdan çıkmak.
- ▲ Derslere zamanında girip çıkmak.
- ★ Derste yanlış cevap veren arkadaşlarımızı uyararak.

12) Yukarıdakilerden hangisi okul kuralı değildir?

- A) ● B) ▲ C) ★

13) Aşağıdaki davranışlardan hangisi doğrudur?



DENEME BİTTİ...

CEVAPLARINIZI KONTROL EDİNİZ...