




1. Etkinlik : Aşağıda özellikleri verilen öğrendiğimiz geometrik şekilleri yan tarafa çizin.

- ☼ Dört kenarı vardır.
- ☼ Dört köşesi vardır.
- ☼ Kenar uzunlukları birbirine eşittir.





- ☼ Dört kenarı vardır.
- ☼ Dört köşesi vardır.
- ☼ Karşılıklı iki kenarın uzunlukları birbirine eşittir.
- ☼ İki uzun, iki kısa kenarı vardır.

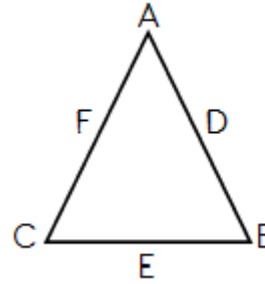


- ☼ Üç kenarı vardır.
- ☼ Üç köşesi vardır.

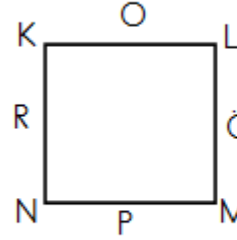
☼ Kenarı ve köşesi yoktur.



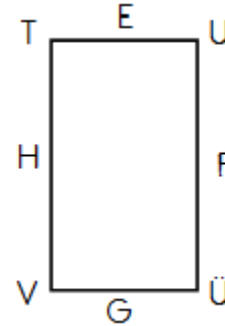
2. Etkinlik: Aşağıdaki şekillerin harflerle gösterilen bölümlerinin adlarını yazalım. Tabloda noktalı yerlere uygun sayıları yazalım.



A : ..... D : .....  
B : ..... E : .....  
C : ..... F : .....



K : ..... O : .....  
L : ..... Ö : .....  
M : ..... P : .....  
N : ..... R : .....



T : ..... E : .....  
U : ..... F : .....  
Ü : ..... G : .....  
V : ..... H : .....

ŞEKLİN ADI	KENAR SAYISI	KÖŞE SAYISI
Üçgen		
Kare		
Dikdörtgen		
Çember		