

05 MAYIS 2020

**ÖĞRENCİ
GÖREVLERİ**

😊Sizin Başarınız Benim Mutluluğumdur😊



nihalkaralikorkmaz

ÜLKEMİZDE HAYAT TEKRAR ÇALIŞMAMIZ

Hayat bilgisi defterinize aşağıdaki tarihlerde kutladığımız
milli bayramları yazalım.

19 MAYIS

29 EKİM

23 NİSAN

30 AĞUSTOS

Boşlukları uygun kelimelerle dolduralım.

- 1- Atatürk'e ailesinin verdiği ad 'dır.
- 2- Okuduğu tüm okulları derece ile bitiren Mustafa Kemal
ve bir öğrenciydi.
- 3- İstiklal Marş'ımızı ayakta hazır ol vaziyette, dinleriz
ve söyleriz.
- 4- Mustafa Kemal'e Atatürk soyadını vermiştir.
- 5- Bir topluma ait gelenek görenek, yöresel oyunlar, ahlaki
kurallar, giyim, yeme alışkanlığı vb. tümü
oluşturur.
- 6- Kurtuluş Savaşı'nda Türk halkı Atatürk'ün önderliğinde büyük bir
..... içine girdi.
- 7- Ramazan ayı sonunda yapılan üç günlük dini bayram
.....'dır.



milli Kültürü

Mustafa

TBMM

çalışkan

saygıyla

dayanışma

disiplin

Ramazan Bayramı

PARALARIMIZ ÇALIŞMAMIZ

Çocukların paralarının toplamalarını kutucuğa yazın.

Soruları cevaplandırın.

Furkan



Aleyna



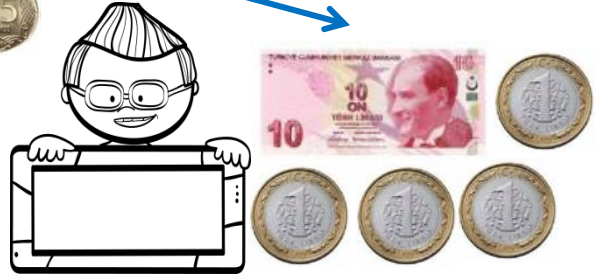
nihalkaralikorkmaz

Instagram

Ebru





Barış



- 1 En az parası olan kimdir? Kaç lirası vardır?
.....
- 2 En çok parası olan kimdir? Kaç lirası vardır?
.....
- 3 Çocukların paralarını en çok olandan en az olana doğru sıralayınız?
.....
- 4 Çocukların paralarını en az olandan en çok olana doğru sıralayınız?
.....
- 5 Furkan'ın parası Ebru'nun parasından kaç lira fazladır?
.....
- 6 Furkan kaç lira daha biriktirirse parası Aleyna'nın parasına eşit olur?
.....

PARALARIMIZ PROBLEMLER ÇALIŞMAMIZ

Aşağıda bazı ürünlerin fiyatları verilmiştir.
Problemleri verilenlere göre cevaplayalım.



PROBLEM 1: Valiz ve iki futbol topu alan bir kişi kaç TL ödeme yapar?



PROBLEM 2: 80 TL'si olan Ayşe ayakkabı alırsa, kaç TL para üstü alır?



PROBLEM 3: Bir oyuncak davul, bir futbol topu aldım. Satıcıya 50 TL verdim. Kaç tane para üstü alırım?



PROBLEM 4: Bir valiz almak istiyorum ama sadece 35 liram var. Kaç TL'ye daha ihtiyacım var?



PROBLEM 5: Kendime ayakkabı ve kardeşime oyuncak davul almak istiyorum ama 60 TL var. Kaç TL'ye daha ihtiyacım var?

😊 Saatler Kısa Tekrar 😊

Aşağıda verilen dijital saatleri, analog saat üzerinde gösterin ve okunuşlarını yazın.

05:45

18:15

03:30

00:00

22:45



nihalkaralikorkmaz