



EVDEKİ SORUMLULUKLARIM

☼ Aşağıdaki işlerden hangilerini bir çocuk yapabilir ? İşaretleyelim.

- Pazar alışverişinde anne veya babaya yardım etmek.
- Çamaşırları yıkamak.
- Yemek masası hazırlanırken yardım etmek.
- Odamızı toplamak.
- Çalışıp , para kazanmak.
- Yemek pişirmek.
- Zil çalınca kapıya bakmak.
- Babamıza su getirmek.
- Kanepelerin yerini değiştirmek.
- Okul çantasını hazırlamak.
- Ütü yapmak.
- Çiçekleri sulamak.



☼ Resimlerden yararlanarak evdeki görev ve sorumluluklarımızı yazalım.



.....
.....

.....
.....

.....
.....



.....
.....

.....
.....

.....
.....



KULLANDIĞIMIZ ALET VE TEKNOLOJİK ÜRÜNLER

Evimizde kullandığımız aşağıdaki teknolojik ürünlerin kullandıkları alanları "temizlik , mutfak , iletişim" şeklinde altlarına yazalım.



















Aşağıdaki açıklamalarla uygun teknolojik ürünü eşleştirelim.

A. Benim sayemde yiyecekler bozulmadan saklanır.

B. Benim sayemde çivi duvara çakarsınız.

C. Benim sayemde zamanı öğrenirsiniz.

Ç. Benim sayemde serinler veya ısınırsınız.

D. Benim sayemde ağırlığınızı öğrenirsiniz.

E. Benim sayemde tahta veya odun kesersiniz.
















MADDEYİ NİTELEYEN ÖZELLİKLER

Verilen bilgiye göre aşağıdakilerden madde olanları işaretleyelim.



Yer kaplayan,
ağırlığı olan her
şey maddedir.

masa

taş

korku

elektrik

defter

dolap

vazo

ışık

hava

rüya

hayvanlar

biber

ses

şeker

su

ısı

elma

çiçek

Verilen maddenin özellikleri dikkate alınarak uygun olanı işaretleyelim.

karpuz
 pürüzlü pürüzsüz

portakal
 pürüzlü pürüzsüz

ceviz
 pürüzlü pürüzsüz

yay
 esnek kırılğan

cam bardak
 esnek kırılğan

balon
 esnek kırılğan

bisiklet tekeri
 pürüzlü pürüzsüz

mermer
 Pürüzlü pürüzsüz

cam
 pürüzlü pürüzsüz

sünger
 esnek kırılğan

fayans
 esnek kırılğan

porcelain tabak
 esnek kırılğan

ceviz
 pürüzlü pürüzsüz

plastik eldiven
 esnek kırılğan

boyalı demir
 pürüzlü pürüzsüz



NOKTA

☘ Aşağıdaki cümlelerde noktanın doğru kullanıldıkları cümlelere "D" , yanlış kullanıldığı cümlelere "Y" yazalım..

- Yarın dedemin yanına gideceğiz.
- Tuğçe 16.09.2008 tarihinde doğmuş.
- Annem her sabah erkenden.
- Pastaneden simit. poğaç. börek aldık.
- Çok yorulduk.



- Poyraz duvar kenarın 4. sırada oturuyor.
- Amcam P.T.T.'de çalışıyor.
- Ablamın kırmızı renkli tokası.
- Yüzdük.
- Dr. Fatma Erdiç'in odası nerede?

- Eyvah , ocağı açık unuttum.
- Cumhuriyet 29. Ekim. 1923 tarihinde ilan edildi.
- Bahçeden domates , biber , salatalık topladık.
- Ablamın dersi saat 9.30'da başlayacak.
- Taner yarışmada 2. olmuş.





TÜRKÇESİNİ KULLANILIM

⊗ Aşağıda yabancı dillerden Türkçeye geçen bazı kelimeler verilmiştir. Bu kelimeleri Türkçe karşılıklarıyla eşleştirelim.

mouse

A

computer

B

adaptör

C

animasyon

Ç

online

D

skor

E

orijinal

F

alternatif

G

metot

H

aktivite

I

reyting

İ

antrenör

J

final

K

ofis

L

bariyer

M

e-mail

N

özgün

...

izlenme

...

çalıştırıcı

...

seçenek

...

uyarlayıcı

...

fare

...

engel

...

yöntem

...

iş yeri

...

elektronik posta

...

canlandırma

...

son

...

sonuç

...

bilgisayar

...

etkinlik

...

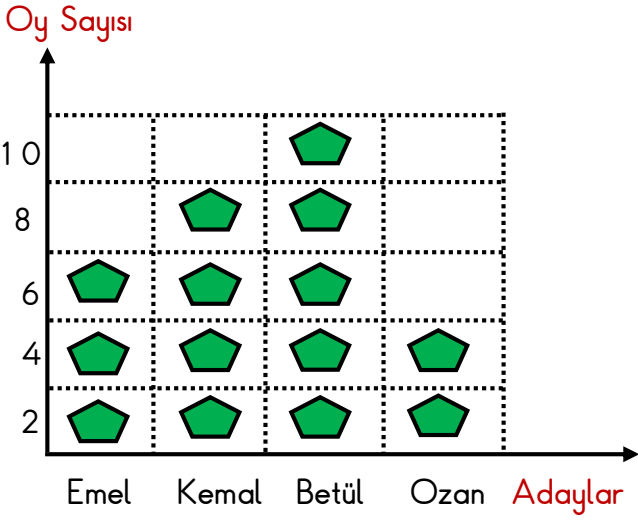
çevrimiçi

...

VERİ TOPLAMA VE DEĞERLENDİRME

1. Etkinlik: Aşağıdaki grafikteki bilgilere bakarak soruları cevaplayalım.

Grafik: Başkanlık Seçimi



Grafikte her  2 oyu göstermektedir.

1. Seçime kaç aday katılmıştır?
.....
2. En az oyu kim almıştır ? Kaç tane ?
.....
3. Kim başkan seçilmiştir ?
.....
4. Betül Emel'den kaç fazla oy almıştır ?
.....
5. Sınıfta kaç öğrenci oy kullanmıştır ?
.....
6. Erkek adaylar toplam kaç oy almıştır?
.....
7. Betül' sonra en fazla oyu kim almıştır?
Kaç tane ?
.....
8. Kız adaylar toplam kaç oy almışlardır?
.....

2. Etkinlik: Aşağıdaki çetele tablosundaki bilgilere bakarak soruları cevaplayalım.

Tablo: Sevilen Dersler

Dersler	Kişi Sayısı
Matematik	+++ III
Görsel Sanatlar	+++ +++
Türkçe	+++ I
Beden Eğitimi	+++ +++ +++ I

1. En çok sevilen ders hangisidir? Kaç kişi sevmektedir?
.....
2. En az sevilen ders hangisidir? Kaç kişi sevmektedir?
.....
3. Sınıfta toplam kaç öğrenci vardır ?
.....
4. Matematik ve Türkçe dersini toplam kaç kişi sevmektedir ?
.....
5. İkinci sırada sevilen ders hangisidir ? Kaç kişi sevmektedir ?
.....
6. Beden eğitimi dersini sevenler Türkçe dersini sevenlerden kaç fazladır ?
.....
7. Görsel sanatlar dersini sevenler matematik dersini sevenlerden kaç fazladır ?
.....

VERİ TOPLAMA VE DEĞERLENDİRME

1. Etkinlik: Aşağıdaki sıklık tablosundaki bilgilere bakarak soruları cevaplayalım.

Tablo: Kitaplıktaki Kitaplar

Kitaplar	Kitap Sayısı
Şiir	6
Hikaye	42
Masal	27
Roman	15

1. Kitaplıkta en çok hangi kitap var ? Kaç tane?

.....

2. Kitaplıkta en az hangi kitap var ? Kaç tane?

.....

3. Kitaplıkta toplam kaç kitap var ?

.....

4. Hikaye kitapları romanlardan kaç tane fazladır ?

.....

5. En fazla sayıda olan iki kitabın toplamı kaç tane ?

.....

6. En az sayıda olan iki kitabın toplamı kaç tane ?

.....

7. Masal kitapları şiir kitaplarından kaç tane fazladır ?

.....

2. Etkinlik: Aşağıdaki çetele tablosundaki bilgilere bakarak soruları cevaplayalım.

Tablo: Kursa Giden Çocuklar

Kurs	Sayısı
Futbol	+++ +--- +--- II
Voleybol	+++ IIII
Yüzme	+++ +--- +--- +--- I
Tenis	+++ +--- III

1. Çocuklar en çok hangi kursa gitmektedir ? Kaç tane ?

.....

2. Çocuklar en az hangi kursa gitmektedir ? Kaç tane ?

.....

3. Yüzmeye giden çocuklar tenise gidenlerden kaç tane fazladır ?

.....

4. Yüzme ve futbola toplam kaç kişi gitmektedir ?

.....

5. Futbola giden çocuklar voleybola gidenlerden kaç tane fazladır ?

.....

6. Top kullanılan spor dallarına toplam kaç kişi gitmektedir ?

.....

7. Yüzme kursunu 8 kişi gelmeyi bırakırsa kaç kişi kalır ?

.....

VERİ TOPLAMA VE DEĞERLENDİRME

1. Etkinlik: Aşağıdaki sıklık tablosundaki bilgilere bakarak soruları cevaplayalım.

Tablo: Kantinde Satılan Besinler

Besinler	Sayısı
Meyve suyu	26
Poğaç	62
Ayran	46
Tost	34

1. En çok satılan besin hangisidir? Kaç kişi almıştır ?

.....

2. En az satılan besin hangisidir? Kaç kişi almıştır?

.....

3. Poğaç meyve suyundan kaç tane fazla satılmıştır ?

.....

4. En az satılan iki besin toplam kaç tane satılmıştır ?

.....

5. Poğaç 17 tane daha az satılmış olsaydı kaç tane satılmış olurdu ?

.....

6. Tost meyve suyundan kaç tane fazla satılmıştır ?

.....

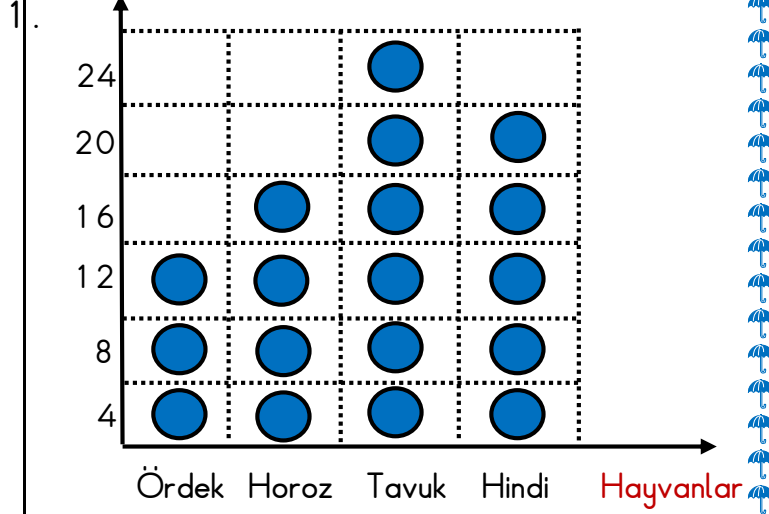
7. Tost ve ayran toplam kaç tane satılmıştır ?


.....

2. Aşağıdaki grafikteki bilgilere bakarak soruları cevaplayalım.

Grafik: Kümesteki Hayvan Sayıları

Hayvan Sayısı



Grafikte her  4 hayvanı göstermektedir.

1. Kümeste en çok hangi hayvan vardır? Kaç tanedir?

.....

2. Kümeste en az hangi hayvan vardır? Kaç tanedir?

.....

3. Tavuklar ördeklerden kaç tane fazladır ?

.....

4. Hindiler ve ördeklerin toplamı kaç tanedir ?

.....

5. Tavuklar 8 tane eksik olsaydı kaç tane tavuk olurdu ?

.....

6. Tavuk ve horozların toplamı kaçtır ?

.....