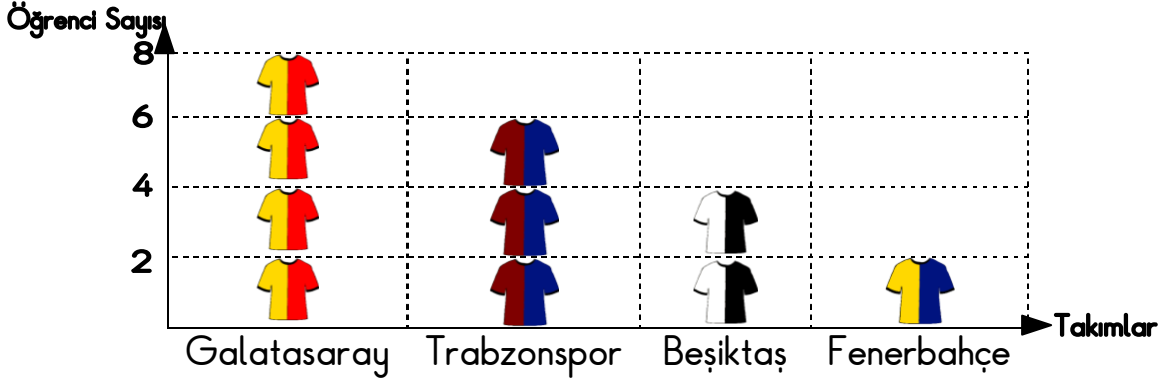


**GÖREV-1 :** Aşağıda verilenleri inceleyin ve Matematik defterinize yazın.

## NESNE GRAFIĞI

- Araştırma sonucunda elde edilen bilgilerin nesnelere gösterildiği grafiklerdir.

**Grafik:** 2/D sınıfındaki taraftar listesi



(Her bir forma 2 öğrenciyi temsil etmektedir)

## ŞEKİL GRAFIĞI

- Araştırma sonucunda elde edilen bilgilerin şekillerle gösterildiği grafiklerdir.

**Grafik:** 2/D sınıfındaki taraftar listesi



(Her bir şekil 2 öğrenciyi temsil etmektedir)

✓ Şimdi de yukarıda grafikte verilenlere göre Sıklık ve Çetele tablolarını oluşturalım. Nesne ve şekil grafiğinde öncelikle bir resmin kaç taneyi temsil ettiğine bakmalıyız. Tablodaki her bir şekil 2 öğrenciyi temsil ettiğinden dolayı 2'şer 2'şer sayıp öğrenci sayılarını buluyoruz.

### SIKLIK TABLOSU

**Tablo:** 2/D sınıfındaki taraftar

Galatasaray	8
Trabzonspor	6
Beşiktaş	4
Fenerbahçe	2

### CETELE TABLOSU

**Tablo:** 2/D sınıfındaki taraftar

Galatasaray		
Trabzonspor		I
Beşiktaş		
Fenerbahçe		


- Sınıfta en çok taraftarı olan takım Galatasaray'dır ve 8 taraftarı vardır.
- Sınıfta en az taraftarı olan takım Fenerbahçe'dir ve 2 taraftarı vardır.
- Sınıfta toplam 20 öğrenci vardır.

**GÖREV-2:** Aşağıda grafikleri inceleyin .Grafikleri deftere çizmeden,grafikteki bilgilere göre sıklık ve çetele tablolarını Matematik defterinize çizip soruları cevaplayın.

Aşağıdaki tabloda sınıfımızdaki öğrencilerin en sevdiği sebzelerin sayıları verilmiştir.

**Grafik:** Sınıfımızda sevilen sebzeler

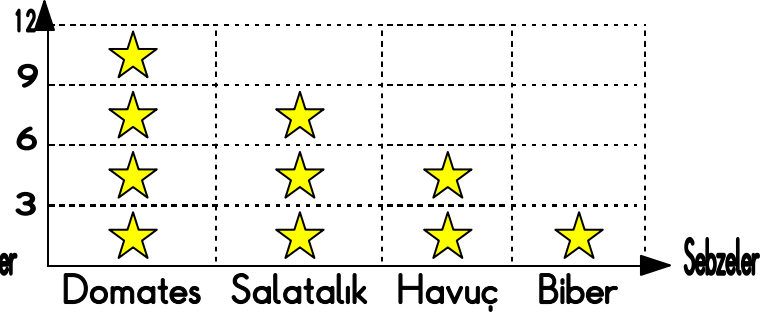
Öğrenci Sayısı



(Her bir sebze 3 öğrenciyi temsil etmektedir)

**Grafik:** Sınıfımızda sevilen sebzeler

Öğrenci Sayısı



(Her bir şekil 3 öğrenciyi temsil etmektedir)

### SIKLIK TABLOSU

**Tablo:** Sınıfımızda sevilen sebzeler

Domates	
Salatalık	
Havuç	
Biber	

### ÇETELE TABLOSU

**Tablo:** Sınıfımızda sevilen sebzeler

Domates	
Salatalık	
Havuç	
Biber	

## SORULAR

1. Sınıfta en çok sevilen sebze hangisidir ve kaç kişi seviyor?
2. Sınıfta en az sevilen sebze hangisidir ve kaç kişi seviyor?
3. Domatesi sevenler biberi sevenlerden ne kadar fazladır?
4. Sınıfta toplam kaç öğrenci vardır?