

Kitap içeriklerini Youtube izleyebilir ya da sitemizde inceleyebilirsiniz.

 Youtube İzlemek için **TIKLA**

 Sitede görmek için **TIKLA**

FUFUK İLE TÜRKİYE MACERASI



7 KİTAP

22TL

✓ 1.Sınıf ✓ 2.Sınıf
✓ 3.Sınıf ✗ 4.Sınıf

Bulmacalı Türkiye Haritası Hediye

 Hediye

 **WHATSAPP SİPARİŞ**
0 552 252 83 85

 KARGO BEDAVA

★ Fiyatlar toplu alım için geçerlidir.

FufukYayinlari.Com

Kitap içeriklerini Youtube izleyebilir ya da sitemizde inceleyebilirsiniz.

 Youtube İzlemek için **TIKLA**

 Sitede görmek için **TIKLA**

FUFUK İLE DEYİM VE ATASÖZÜ BOYUYORUM



5 KİTAP

18TL

✓ 1.Sınıf ✓ 2.Sınıf
✓ 3.Sınıf ✓ 4.Sınıf

Her kitaba özel Değerlendirme Kitapçığı



 **WHATSAPP SİPARİŞ**
0 552 252 83 85

 KARGO BEDAVA

Fiyatlar Toplu Alım İçin Geçerlidir.

HAYAT BİLGİSİ



1



7 yaşında çalışkan ve zeki bir kızım.

Eli

Fufuk



En sevdiğim şey bisiklete binmek.

Miki



Kahverengi saçlı ve uzun boyluyum.

Yukarıdaki çocuklardan hangisi fiziksel özelliklerini söylemiştir?

- A** Eli **B** Fufuk **C** Miki

2

N saygı

E tembel

B yaramaz

C hoşgörü

A dürüst

M bencil

Grup çalışmasında önem verilmesi gereken değerleri bulunuz. Bulduğunuz bu değerlerin başındaki harfleri kullanarak aşağıdaki sözcüklerden hangisini yazabilirsiniz?

- A** CAM **B** CAN **C** BEN

3

1

2

3

4



Atatürk'ün akrabalarının olduğu resimleri almak isteyen Fufuk hangi numaradaki resimleri seçmelidir?

- A** 1-2-3-4 **B** 1-2-4
C 1-3-4

4

Atatürk'e Kemal ismini matematik öğretmeni vermişti.

Buna göre matematik öğretmeni Atatürk'e neden yeni bir isim verdi?

- A** Matematik dersinde çok çalışkan olduğu için.
B Matematik öğretmeni ile isimleri aynı olduğu için.
C Matematik öğretmeni Atatürk'ü çok sevdiği için.

www.ufukkoca.com

FUFUK Türkiye Geneli Online Deneme 5

www.etkinlikburada.com



5



Bilgin Eli'nin evini arıyorum ama verdiği adreste eksiklik var. Nasıl bulacağımı bilmiyorum.

Bilgin Eli'nin verdiği adreste eksiklik ne olabilir?

- A** Mahalle adı eksik olabilir.
- B** Telefon numarası eksik olabilir.
- C** İmzası eksik olabilir.

6



Evde yapmam gereken görevlerim var. Sorumluluklarımın bilincindeyim.

Buna göre Fufuk, aşağıdaki davranışlardan hangisini **yapmaz**?

- A** Annemin yemek hazırlamasına yardım ederim.
- B** Odadaki oyuncaklarımı anneme toplatırım.
- C** Derslerime çalışırım.

7



Artık evde gereksiz yanan tüm ampulleri kapatıyorum. Hatta suyu kullanırken bile boşa akmaması için gayret gösteriyorum.

Fufuk'un anlattığına göre evde nasıl bir karar alınmış olabilir?

- A** Bundan sonra bilinçli bir tüketici olma kararı alınmış olabilir.
- B** Herkes ödevlerini yapma kararı alınmış olabilir.
- C** Kaynakları tasarruflu kullanma kararı alınmış olabilir.

8



Yukarıda Ahmet'in günlük planı görselleri verilmiştir. Buna göre Ahmet'in planının doğru sıralanışı hangi seçenekte verilmiştir?

- A** 1-3-4-2
- B** 1-3-2-4
- C** 1-4-3-2

HAYAT BİLGİSİ



9



Güneş gözlüklerimi beğenmiyorum. Bu yüzden yenisini alacağım.

Pantolonum eskidiği için yenisini alacağım.



Bu ayakkabılar artık bana küçük geliyor. Yenisini alacağım.

Yukarıda çocuklar istek ve ihtiyaçlarını belirtmiştir. Bu istek ve ihtiyaçları öncelik sırasına göre sıraladığımızda hangi çocuğun söylediği en sonda olur?

A



B



C



10

Teyze çocukları → kuzen

Halamin çocukları → kuzen

Anneannemin oğlu → amca

Yukarıdaki eşleştirmelerden kaç tanesinde yanlışlık yapılmıştır?

A 1

B 2

C 3

11

Neden dengeli ve düzenli beslenmeliyiz?

Yukarıdaki sorunun cevabı hangi seçenekte doğru verilmiştir?

A Çalışkan olmak için.

B Sağlıklı olmak için.

C Zengin olmak için.

www.ufukkoca.com

FUFUK Türkiye Geneli Online Deneme 5

www.etkinlikburada.com

12

B	A	L	I	K	U	Ş
I	S	P	A	N	A	K
T	C	E	V	İ	Z	O
A	T	L	M	D	A	L
Y	U	M	U	R	T	A
E	R	A	Z	S	Ü	T

Yukarıda verilen bulmacada sağlıklı olan yiyecek ve içecekleri bulup boyadığımızda boyanmamış harf sayısı kaç tanedir?

A 11

B 12


C 13





HAYAT BİLGİSİ



13 Hangi çocuğun kahvaltıda hazırladığı besinlerin hepsi faydalıdır?

A  Peynir, süt, ceviz ve patates kızartması.

B  Yumurta, zeytin, pekmez ve kola.

C  Badem, peynir, yumurta ve süt.

15 Her gün arkadaşım ile bakkala gider gofret alırdık. Paketini de çöp kutusu uzak olduğu için yere atardık.

Bir gün yine bakkala giderken sokağın çok pis olduğunu gördük. Bu yüzden bakkala gidemedik. Mahallemizde başka bakkal da yoktu. Ben "Sokak, nasıl bu hale geldi?" diye düşünürken arkadaşım bana şöyle dedi:

-
- Çok haklısın. Bir daha yerlere çöp atmayalım. Hatta atanları görürsek uyaralım.

Yukarıda verilen boşluğu hangi cümle ile tamamlamak uygun olur?

A Başka bakkaldan gofret alalım.

B Gofretin paketlerini çöpe atsaydık şimdi sokağımız temiz olurdu.

C Gofret sağlığımıza zararlı olduğu için başka bir şey alalım.

14  Ağızımızda yemek varken konuşmamalıyız.

 Yemek yerken ağızımızı şapırdatmamalıyız.

 Önce kaşıkla daha sonra çatalla yemeliyiz.

Hangisi yemek sırasında uymamız gereken görgü kurallarından biri **değildir**?

A 

B 

C 

www.ufukkoca.com

FUFUK Türkiye Geneli Online Deneme 5

www.etkinlikburada.com

MATEMATİK



1



Bilgin Eli yukarıdaki tabloda 2 onluk 3 birlik kadar kareyi boyamak istiyor. Buna göre kaç kare daha boyamalı?

- A** 19 **B** 21 **C** 23

3



Sınıftaki öğrenci sayısı 2 düzineden 5 fazladır. Sınıf mevcudunun birler basamağındaki rakam kadar erkek öğrenci vardır.

Buna göre Fufukların sınıfta kaç kız öğrenci vardır?


- A** 20 **B** 23 **C** 27

www.ufukkoca.com

FUFUK Türkiye Geneli Online Deneme 5

www.etkinlikburada.com

2



Fufuk'un sepetinde 2 düzineden 3 fazla kadar elma vardır.

Fufuk, ağaçtaki elmaları da toplayıp sepete koyduğunda toplam kaç elması olur?

- A** 23 **B** 29 **C** 33

4

40	4	8	40	36
12	8	12	20	32
16	32	40	36	40
20	24	28	32	24

Yukarıdaki tabloda dörtten başlayıp ileriye doğru dörder dörder saydığımızda doğru çıkışta bekleyen çocuk hangisi olur?

- A** **B** **C**

MATEMATİK



5

Eli



73

Fufuk



49

Miki



80

Yukarıdaki çocukların söylediği sayıları büyükten küçüğe sıraladığımızda oluşan sıra hangi seçenekte doğru verilmiştir?

A Fufuk - Eli - Miki


B Miki - Eli - Fufuk

C Eli - Fufuk - Miki

6



En yakın onluğu 30 olan balonları boyayacağım.



Buna göre Fufuk'un boyamadığı balonlarda yazan sayıların toplamı kaçtır?

A 59

B 75

C 84

7



Ablam benden 4 yaş büyük ve ben 7 yaşındayım.

Buna göre Miki ile ablasının yaşları toplamının bir deste eksiği kaçtır?

A 18

B 8

C 6

www.ufukkoca.com

FUFUK Türkiye Geneli Online Deneme 5

www.etkinlikburada.com

8

$$\begin{array}{r} 84 \\ -59 \\ \hline \end{array}$$



$$\begin{array}{r} 50 \\ -23 \\ \hline \end{array}$$



$$\begin{array}{r} 86 \\ -60 \\ \hline \end{array}$$



Yukarıda verilen çıkarma işlemlerinde hangisinin farkı diğerlerinden daha büyüktür?

A

B

C

MATEMATİK

9



Bizim sınıftaki öğrenci sayısının en yakın onluğu 30'dur.

Bizim sınıftaki öğrenci sayısı ise Elilerin sınıftaki öğrenci sayısından 9 fazladır.



Mikilerin sınıftaki öğrenci sayısının da en yakın onluğu 30 olduğuna göre Elilerin sınıfta kaç öğrenci vardır?

A 25

B 28

C 34

11



Elif resimdeki hikâye setini aldı. Her kitabı 2 günde bitirdi.

Her kitap 32 sayfa olduğuna göre 4 günde toplam kaç sayfa okumuştur?

A 28

B 60

C 64

www.ufukkoca.com

FUFUK Türkiye Geneli Online Deneme 5

www.etkinlikburada.com

10

En yakın onluğu 40 olan en büyük doğal sayı ile en yakın onluğu 50 olan en küçük doğal sayının toplamı kaçtır?

A 88

B 89

C 99

12



Bir kova 3 sürahi su alıyor. Bir sürahi ise 2 bardak su alıyor. Buna göre 3 kova kaç bardak su alır?

A 18

B 9

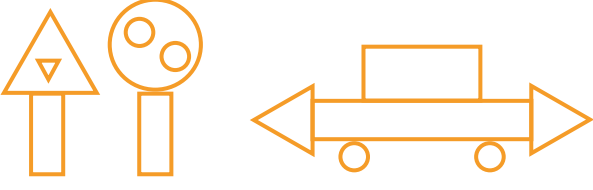
C 6



MATEMATİK



13



Yukarıda çizilen resimde en çok hangi geometrik şekil vardır?



15



Kenarı olmayan geometrik bir şekil arıyorum.

Buna göre Fufuk'un aradığı şekil aşağıdakilerden hangisidir?



www.ufukkoca.com

FUFUK Türkiye Geneli Online Deneme 5

www.etkinlikburada.com

14



Hangi geometrik cisme benzeyen şekil yukarıda **verilmemiştir**?





TÜRKÇE



1



Yukarıda verilen resimle ilgili aşağıdaki-lerden hangisi **söylenemez**?

- A** Çocuklar yaşlı bir amca ile konuşuyor.
- B** Bazı insanlar koşuyor bazı insanlar ise duruyor.
- C** İnsanlar hayvanları çok seviyor.

2

Tohumlar fidana
Fidanlar ağaca
Ağaçlar ormana
Dönmeli yurdumda

Yuvadır kuşlara
Örtüdür toprağa
Can verir doğaya
Ormanlar yurdumda

Yukarıdaki şiirde hangi sorunun cevabı **yoktur**?

- A** Ne?
- B** Nasıl?
- C** Nerede?

3



Yukarıda verilen hayvanın adında bulunan harfleri kullanarak aşağıdaki sözcüklerden hangisini yazamayız?

- A** lamba
- B** kaplan
- C** kabul

www.ufukkoca.com

FUFUK Türkiye Geneli Online Deneme 5

www.etkinlikburada.com

4



* Bir harfli heceler de vardır.
* Dört harfli heceler de vardır.

Bilgin Eli'nin söylediği bilgileri desteklemek için hangi seçenekteki sözcüğü örnek olarak gösterebiliriz?

- A** Kırklareli
- B** Trabzon
- C** Atatürk



5



- 1 Can
- 2
- 3 Cem

Yukarıdaki boşluğa aşağıdaki isimlerden hangisini yazarsak alfabetik sıraya göre sıralanmış olur?

- A** Canan **B** Cemil
C Cafer

6



yurt - vatan - millet

Fufuk'un yazdığı hangi sözcük satır sonuna sağmazsa hepsini alt satıra yazmamız gerekir?

- A** millet **B** vatan
C yurt

7



sabah



tok



tatlı

Yukarıdaki sözcüklerden hangisinin zıt anlamı sözlükte diğerlerinden sonra gelir?

A



B



C



www.ufukkoca.com

FUFUK Türkiye Geneli Online Deneme 5

www.etkinlikburada.com

8



Annem okula yakın bir ev tuttu.

Fufuk'un söylediği cümlede altı çizili sözcüğü aşağıdakilerden hangisi ile değiştirirsek cümlenin anlamı **değişmez**?

A

konuk

B

konut

C

mektep



TÜRKÇE



9 Hangi seçenekte verilen ikili sözcükler anlamları bakımından diğerlerinden farklıdır?

- A** Yaşlı - ihtiyar
- B** Hızlı - yavaş
- C** Uzak - yakın

11

Anne

Minnoş

Elif

Elma

Ağaç

Telefon

Yukarıda verilen sözcüklerden kaç tanesine gelen eki kesme işareti ile ayrı yazarsınız?

A 2

B 3

C 4

www.ufukkoca.com

FUFUK Türkiye Geneli Online Deneme 5

www.etkinlikburada.com

10

İzmir'de

bindi

vapura



Yukarıda verilen sözcüklerle anlamlı ve kurallı bir cümle yazmak istiyorum.

Bilgin Eli'nin yazdığı cümlede özel isim kaçınıcı sırada olamaz?

A 1

B 2

C 3

12

Fufuk, Eli ve Titi bahçede seksek oynadılar. Oyunu Eli kazandı.

Yukarıdaki metinde kaç farklı noktalama işareti kullanılmıştır?

A 2

B 3

C 4



TÜRKÇE



13 Aşağıdaki resimlerden hangisinin konusu diğerlerinden farklıdır?

A



B



C



15 Çiçekler, doğanın en önemli canlılarından biridir. Çünkü arıların bal yapması bu sayede oluyor. Önce kovanlarında altıgen şeklinde petekler yaparlar. Daha sonra çiçeklerden topladıkları nektarları ikinci midelerinde bal yaparlar ve bu peteklere doldururlar.

Yukarıda verilen metne en uygun başlık hangisidir?

- A** Çiçeklerin güzel kokusu
- B** Arılar nasıl bal yapar?
- C** Arıların hayatı

14



Yukarıda verilen resimle ilgili aşağıdakilerden hangisi **söylenemez**?

- A** Serbest etkinlik dersinde olabilirler.
- B** Yemek masasını hazırlıyor olabilirler.
- C** Grup çalışması yapıyor olabilirler.

www.ufukkoca.com

FUFUK Türkiye Geneli Online Deneme 5

www.etkinlikburada.com