

Adı :

Soyadı:

HAYAT BİLGİSİ

Doğru Sayısı :



Yanlış sayısı:



1. Trafikte yaya olarak karşıya geçerken hangi ışığın yanmasını bekleriz ?

- A) Sarı B) Kırmızı
C) Yeşil

2. Aşağıdaki teknolojik ürünlerden hangisini tek başımıza kullanmamız tehlikelidir?

- A) Televizyon B) Fırın
C) Tablet

3. Aşağıdakilerden hangisi karşıya geçişlerde güvenli bir yer değildir?

- A) Üst geçit
B) Trafik ışığının bulunduğu yer
C) Yolun ortasından

4. Yandaki trafik işaretinin Anlamı nedir ?






- A) Okul geçidi B) Üst geçit
C) Yaya geçidi

5. Aşağıdakilerden hangisi kaldırımda yürürken dikkat etmemiz gereken kurallardan değildir?

- A) Kaldırımda şakalaşmamalıyız.
B) Yola yakın yürümeliyiz.
C) Kaldırımda oyun oynamamalıyız.

6. Aşağıdakilerden hangisi daha hızlı bir ulaşım aracıdır ?

- A)  B) 
C) 

7. Aşağıdakilerden hangisi yanlıştır ?

- A) Anneme ve babama sormadan ilaç kullanırım.
B) Kibrit ve çakmakla oyun oynamam.
C) Islak ellerle lambaların düğmelerine dokunmam.

8. Karşımızdaki evde yangın çıktığını gördük. Bu durumda önce aşağıdakilerden hangisini aramız gerekir?

- A) İtfaiye B) Polis C) AKUT

9. Aşağıdaki davranışlardan hangisi tehlikelidir?

- A) Sofra hazırlanırken annemize yardım etmek.
B) Balkondan aşağıya sarmak.
C) Babamıza mutfaktan su getirmek.

10. Bilgisayar kullanırken aşağıdakilerden hangisi yapılmalıdır?

- A) Yaşıma uygun olmayan sitelere girerim.
B) Reklamların olduğu sitelere girerim.
C) Sadece güvenli sitelere girerim.

11. Aşağıdakilerden hangisini tanımadığımız kişilerle kesinlikle paylaşmamalıyız?

- A) Sorduğu adresi B) Ev adresimizi
C) Bakkalın yerini

12. Aşağıdakilerden hangisi güvenli bir oyun alanı değildir?

- A) Park B) Bahçemiz
C) Yolun kenarı

13. Aşağıdakilerden hangisi kara yolu ulaşım aracı değildir?

- A) Kamyon B) Tramvay
C) Helikopter