

BAYAT EKMEKLER

Evimizde bayatlamış ekmekleri görünce annem çok üzüldü.

Bu bayat ekmekleri nasıl değerlendireceğini düşündü.

Birden anneannesinin bayat ekmeklerle yaptığı leziz tarif aklına geldi.

Annem, bayat ekmekleri küçük küçük parçalarına ayırdı. Tereyağı ile kavurdu. Üstüne de yumurta kırdı. Çok leziz olmuştu. Ellerine sağlık anneciğim...

Arzu USLU

1 ve 2. soruyu yukarıdaki metne göre cevaplayalım.




1) Annesi neden üzülmüş?

- A) ekmekler bayatladığı için
- B) tereyağı bittiği için
- C) anneanesi gelmediği için

2) Annesi, ekmekleri ne ile kavurmuş?

- A) tereyağı ile
- B) peynir ile
- C) domates ile

3) Aşağıdaki görsellerden hangisinin farklı bir anlamı vardır?

- A) 
- B) 
- C) 




4) "Okulumuzu temiz"

Yukarıdaki cümleyi hangi kelime ile tamamlarsak yanlış olur?

- A) turalım
- B) tutmalıyız
- C) yazalım

5) "Soruları dikkatli okuyorum."

Yukarıdaki cümlede toplam kaç hece vardır?

- A) 
- B) 
- C) 

6) Aşağıdaki hangisi cümle **değildir**?

- A) Annemden izin aldım
- B) Yarın okula
- C) Kitap okuyorum

7) Aşağıdaki cümlelerden hangisinin sonuna **yanlış** noktalama işareti konulmuştur?

- A) Sabah geç kaldım.
- B) Servis ne zaman gitti.
- C) Aileme haber verelim.

8)

| | |
|-------|-------|
| Kitap | Ağaç |
| İzmir | Selin |

Yukardaki özel isimler boyandığında **boyalı tablo** nasıl görünür?

- A)

| | |
|--|--|
| | |
| | |
- B)

| | |
|--|--|
| | |
| | |
- C)

| | |
|--|--|
| | |
| | |

9) Aşağıdaki kelimelerden hangisi hecelerine yanlış ayrılmıştır?

- A) kelebek → ke-le-bek
- B) tavuğun → ta-vu-ğun
- C) pazardan → paz-ar-dan

| | |
|---------|------------|
| dönecek | babam |
| bugün | Ankara'dan |

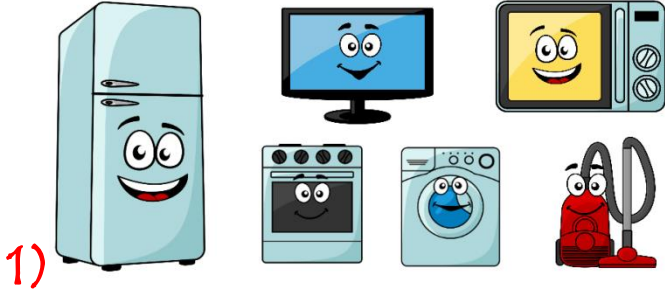
10) Yukarıdaki kelimelerle oluşturulan kurallı ve anlamlı cümle hangisidir?

- A) Babam dönecek bugün Ankara'dan.
- B) Babam bugün dönecek Ankara'dan.
- C) Babam Ankara'dan bugün dönecek.

11) : Balık tutmaya yarayan araç.

Yukarıda anlamı verilen kelime hangisidir?

- A) Olta B) Eldiven C) Kitap



1) Yukarıdaki görseller bize neyi anlatıyor?

- A) Trafik kurallarını
- B) Güvenli alanları
- C) Teknolojik araçları

2) Aşağıdaki şehirlerimizden hangisi başkentimizdir?

- A) İstanbul
- B) Ankara
- C) Samsun

3) Aşağıdakilerden hangisi Atatürk'ün annesidir?

- A) Zübeyde Hanım
- B) Makbule Hanım
- C) Sabiha Gökçen

4) "Ülkemizin kurucusu Atatürk, Bandırma Vapuru ile Samsun'a giderek Milli Mücadele'yi başlatmıştır."

Her yıl bu önemli günde hangi milli bayramı kutlarız?

- A) 29 Ekim Cumhuriyet Bayramı
- B) 23 Nisan Ulusal Egemenlik ve Çocuk Bayramı
- C) 19 Mayıs Atatürk'ü Anma ve Gençlik ve Spor Bayramı




5) İstiklal Marşımızın şairi kimdir?


- A) Mustafa Kemal Atatürk
- B) Mehmet Akif Ersoy
- C) Seyit Onbaşı

6) Bayrağımızla ilgili verilen bilgilerden hangisi yanlıştır?

- A) Bağımsızlığımızın sembolüdür.
- B) Ay ve yıldızlı al bayraktır.
- C) Bayrağımızda beyaz renk daha fazladır.

7) Aşağıdaki yöneticilerden hangisi **ilçeyi** yönetir?

- A)  vali
- B)  kaymakam
- C)  muhtar



8) Yukarıda verilenlerden kaç tanesi **hayvansal** kaynaklı bir besindir?

- A) 5 B) 4 C) 3

9) Sağlığımızla ilgili olarak aşağıdakilerden hangisini yaparsak **yanlış** olur?

- A) Meyve ve sebzeleri yemeden önce mutlaka yıkamalıyız.
- B) Aşı olmalıyız.
- C) Spor yapmamalıyız.

10) Atatürk'ün doğduğu şehir neresidir?

- A)  Selanik
- B)  Ankara
- C)  İstanbul

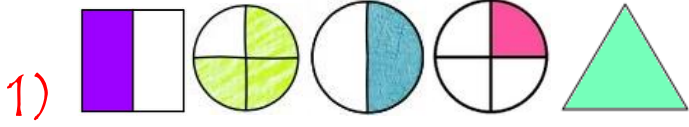
11) Aşağıdakilerden hangisi görgü kurallarına **uymayan** bir davranıştır?

- A) Peçete kullanmalıyız.
- B) Ayakta yemeliyiz.
- C) Yemek yerken konuşmamalıyız.

12) "Kitle iletişim araçlarından biri de **telefondur.**"

Telefon kullanımı ile ilgili olarak aşağıdakilerden hangisi **yanlış** olur?


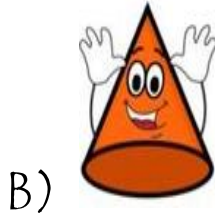
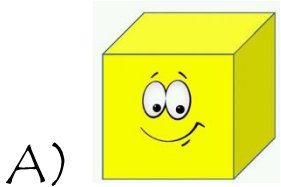
- A) İletişim amaçlı kullanmalıyız.
- B) Büyüklerimizin gözetiminde kullanmalıyız.
- C) Konuşmalarımızı uzun tutmalıyız.



Yukarıdaki şekillerden kaç tanesinin **yarısı** boyanmıştır?

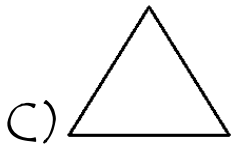
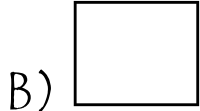

- A) 3 B) 2 C) 1

2) Hangi geometrik cismin bir yüzü ile daire **çizemeyiz**?



3) "4 köşem, 2 uzun, 2 kısa kenarım var."

Yukarıda kendini tanıtan geometrik şekil hangisidir?




4) Aşağıdaki toplama işlemlerinin hangisinde verilmeyen toplanan 8' dir?

A) $10 + \dots = 17$

B) $11 + \dots = 18$

C) $9 + \dots = 17$



Yukarıdaki geometrik şekillerin **toplam** kaç köşe sayısı kaçtır?

- A) 7 B) 6 C) 5

6) Ben, bir haftada 7 kitap okudum. Kardeşim ise benden 3 kitap daha **az** okudu. İkimiz **toplam** kaç kitap okuduk ?

- A) 4 B) 11 C) 12

7) Modelle gösterilen işlemin sonucu kaçtır?


A) 18 B) 17 C) 16

8. Aşağıdaki çocuklardan en az elmayı hangisi yemiştir?

A)  Dört yarım elma yedim.



B)  İki yarım elma yedim.


C)  3 bütün elma yedim.

9.  Yandaki saat, üç saat önce kaç gösteriyordu?

A) 11 B) 6 C) 5

10) Bugün "Cuma" ise iki gün sonra hangi gün olur?

A)  Pazar B)  Cumartesi

C)  Çarşamba

10)  Yandaki elmalara 6 elma daha eklersek kaç elma olur?

A) 17 B) 18 C) 19

11) Şuan 12 yaşında olan Beril, 5 yıl önce kaç yaşındaydı?

A) 17 B) 8 C) 7

12) Bir simitçi 18 simidin sabah 6 tanesini, akşam 4 tanesini satmıştır. Simitçinin kaç simidi kalmıştır?

A) 12 B) 10 C) 8