


## Problemleri çözelim



Verilen kalem sayısının  $\frac{1}{5}$  inin 18 katı kaçtır?


Pazardan kilosu ₺ 13 olan fasulseyen 4 kilo, kilosu ₺ 9 olan kabaktan 5 kilo ve kilosu ₺ 11 olan patlıcandan 3 kilo aldım. Pazarıcıya ₺ 200 verdiğime göre kaç ₺ para üstü almalıyım?


Arda 32 yaşındadır. Ayaz , Arda 'nın yaşından 7 eksik, Anıl ise Ayaz'ın yaşından 9 fazladır. Üçünün yaşları toplamı kaçtır?


## MİNİ TEST

$$\begin{array}{r} 456 \\ +321 \\ \hline \end{array}$$

$$\begin{array}{r} 529 \\ +445 \\ \hline \end{array}$$

$$\begin{array}{r} 420 \\ +518 \\ \hline \end{array}$$

İşlem sonuçlarının büyükten küçüğe doğru sıralanışı hangi seçenekte verilmiştir?

- A)    B)    C)

300	90	500	8
1	50	4	100

Tablodaki sayıları kullanarak hangisini yazamayız?

- A) 398 B) 101 C) 451

	100 tane 1 kuruş 1 lira eder.
	8 tane 50 lira 500 lira eder.
	10 tane 25 kuruş ve 7 tane 50 kuruş 6 lira eder.

Yukarıdaki ifadelere doğruysa "D" harfi, yanlışsa "Y" harfi yazıldığında ,hangi seçenekteki sıralamaya ulaşırız?

- A) DDD B) YDY C) DYD

8 katı 552 olan sayının ,3' e bölümünde bölüm kaçtır?

- A) 13 B) 23 C) 33

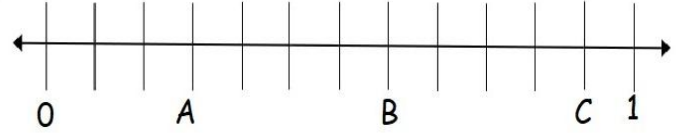
İşlem sonuçlarını yazalım.

$24 \div 6 =$        $6 \times 4 =$        $45 \div 5 =$

$3 \times 9 =$        $245 + 100 =$        $658 - 20 =$

$12 \times 8 =$        $590 - 134 =$        $45 \times 20 =$

Harflere karşılık gelen kesirleri yazalım.

A: B: C: 

İşlemlerdeki verilmeyen sayıları bulalım.

$$\begin{array}{r} 46\_ \\ +357 \\ \hline 820 \end{array}$$

$$\begin{array}{r} 7\_3 \\ -462 \\ \hline 281 \end{array}$$


$$\begin{array}{r} 523 \\ +16\_ \\ \hline 690 \end{array}$$

Verilen sayıların en yakın onluğunu ve yüzlüğü yazalım.

sayı	en yakın onluğu	en yakın yüzlüğü
345		
864		
721		
551		

Aşağıda verilen zamanın 55 dakika öncesini saat üzerinde gösterelim.

14 . 25



Çarpma işlemi sonuçlarını yazalım.

$$\begin{array}{l} 8 \times 0 = \quad 8 \times 1 = \quad 8 \times 2 = \quad 8 \times 3 = \\ 8 \times 4 = \quad 8 \times 5 = \quad 8 \times 6 = \quad 8 \times 7 = \\ 8 \times 8 = \quad 8 \times 9 = \quad 8 \times 10 = \end{array}$$

Verilen ritmik sayılardaki hataları bulup işaretleyelim.

7, 14, 21, 28, 34, 42, 49

8, 16, 24, 32, 42, 48, 56

9, 18, 28, 36, 45, 54, 63

İşlemlerin arasına &lt;, &gt;, ve = sembollerinden uygun olanı yapalım.

$40 \div 5 = 108 - 100$

$123 + 11 \quad 190 - 66$


$79 - 30 \quad 8 \times 6$

$25 \times 10 \quad 15 \times 15$

$1/2 \quad 1/2$

$500 : 5 \quad 347 - 247$

Kesirlerin gösterimini ve okunuşunu yazalım.



okunuşu:



okunuşu: