


## STANDART UZUNLUK ÖLÇÜLERİ


- ✓ Standart ölçüm araçları kişiden kişiye göre değişmez. Ölçüm sonuçları dünyanın her yerinde aynı olduğu için güvenilirdir.
- ✓ Standart ölçü birimi **metre**dir. Metre kısaca "m" harfi ile gösterilir.
- ✓ Günlük hayatta aşağıdaki metre çeşitlerini kullanırız.



Cetvel



Mezura




Katlanır Metre



Şerit Metre


- ✓ Bir metreden daha kısa uzunluklar **santimetre** ile ölçülür.
- ✓ Santimetre kısaca "cm" harfleriyle gösterilir.

**1 santimetre ( 1 cm )**



- ✓ Bir metre 1 00 eşit parçaya bölüldüğünde her bir parçası santimetredir.

**1 cm**



**100 cm (1 metre)**

1 metre = 1 00 santimetre


1 m = 1 00 cm

## ÖLÇELİM BAKALIM


- Aşağıda Efe, Elif ve Ege'nin boylarını ölçelim.



**Efe**



**Elif**

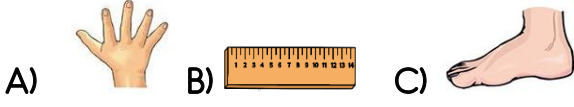


**Ege**

1. Efe'nin boyu 90 cm'dir.
2. Elif'in boyu 70 cm'dir.
3. Ege'nin boyu 60 cm'dir.

# UZUNLUK ÖLÇÜLERİ TEST

1. Hangisi standart uzunluk ölçme birimidir?



2. Bir topun çevresini ölçmek istersek hangi çeşit metreyi kullanmamız gerekir?




3. 1 metre kaç santimetredir?

A) 1 cm B) 10 cm C) 100 cm

4. Ali 2. Sınıfa gidiyor. Boyu aşağıdakilerden hangisi olabilir?


A) 50 cm B) 120 cm C) 240 cm

5. Yüksekliği 20 cm olan 4 kutu üst üste konulup üzerine bir çiçek koyuluyor. Çiçeğin yerden yüksekliği kaç cm'dir?



A) 80 cm B) 90 cm C) 100 cm

6. Uzunlukları verilen kalemlerin aralarında kaç cm fark var?



A) 4 cm B) 6 cm C) 9 cm

7. Ali ve Aslı iki kardeşdir. Aşağıda verilen şıklardan hangisi doğrudur?



A) Ali 1 metreden kısadır.

B) Aslı Aliden uzundur.

C) Aslı 1 metreden kısadır.

8. Silginin uzunluğu kaç cm'dir?



A) 2 cm

B) 5 cm

C) 8 cm

9. Fırçanın uzunluğu kaç cm'dir?



A) 2 cm

B) 6 cm

C) 8 cm

10. Kalemın uzunluğu kaç cm'dir?



A) 3 cm

B) 5 cm

C) 9 cm

## CEVAP ANAHTARI

1) B

2) B

3) C

4) B

5) A

6) C

7) C

8) A

9) B

10) C