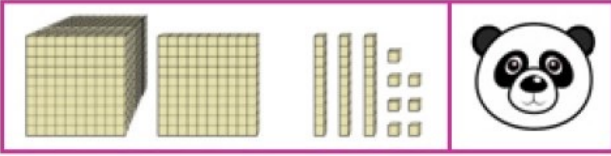
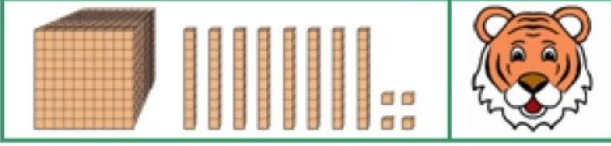


1)



Basamak **blokları** verilen ve her biri bir hayvan ile eşleştirilen sayıların toplamı kaçtır?

- A) 2221 B) 3041
C) 3211 D) 2341

2)



Temel ihtiyaçları için **ocak** ayında **1385** lira harcayan bir aile, **şubat** ayında ise **ocak** ayında harcadığından **100** lira fazla harcamıştır. Buna göre bu aile 2 ayda temel ihtiyaçları için kaç lira harcamışlardır?

- A) 1485 ₺ B) 2780 ₺
C) 2870 ₺ D) 3250 ₺

3)




Serhat'ın aklındaki sayının en yakın onluğa yuvarlanmış hali ile en yakın yüzlüğe yuvarlanmış halinin **toplamı** kaçtır?

- A) 4000 B) 5160
C) 5070 D) 5130

4) Babam **1957** yılında doğdu. Babam benden **35** yaş büyüktür. Ben ise kardeşimden **7** yaş büyüğüm. Buna göre **kardeşim** kaç yılında doğmuştur?

- A) 1982 B) 1989
C) 1992 D) 1999

5)



Yukarıdaki **rakamlarla** oluşturulabilecek, rakamları farklı, **dört** basamaklı en büyük ve en küçük sayıların **toplamı** kaçtır?

- A) 6521 B) 5302
C) 6877 D) 7777

6)



5785 ₺



3295 ₺

Yukarıda, **Merve'nin** almak istediği ürünler ve fiyatları bulunmaktadır. Buna göre Merve'nin ne kadar paraya **ihtiyacı** vardır?

- A) 5785 ₺ B) 6970 ₺
C) 8990 ₺ D) 9080 ₺

7)

$$\begin{array}{r} 2059 \\ + 1643 \\ \hline A \end{array} \quad \begin{array}{r} 1756 \\ + \\ \hline B \end{array}$$

Yukarıdaki tahtada verilen **toplama** işlemlerine göre **A + B** kaçtır?

- A) 3702 B) 5458
C) 9160 D) 9380

8) Bir çiftçi tarlasından **2876** kg mısır ve mısırlardan **258** kg fazla fasulye elde etmiştir. Buna göre bu çiftçi tarlasından **toplam** kaç kg ürün elde etmiştir?

- A) 3134 B) 6010
C) 7254 D) 8104

9)



Üç bin sekiz yüz doksan yedi



Bin dört yüz sekiz

Yukarıdaki tabloya göre $\star + \text{moon}$ kaçtır?

- A) 5305 B) 3495
C) 4575 D) 4965

10)

$$\mathbf{S} \rightarrow 3956 + 1357$$

$$\mathbf{R} \rightarrow 2804 + 2039$$

$$\mathbf{H} \rightarrow 3126 + 1077$$

$$\mathbf{T} \rightarrow 4306 + 562$$

Yukarıda her biri bir **harf** ile eşleştirilen işlemlerden hangisinin sonucu diğerlerine göre daha küçüktür?

- A) **T** B) **H**
C) **R** D) **S**

11)

$$\begin{array}{r} 573 \bullet \\ + \blacksquare 844 \\ \hline 9 \blacktriangle 82 \end{array} \quad \begin{array}{l} \blacksquare = \dots \\ \bullet = \dots \\ \blacktriangle = \dots \end{array}$$

Yukarıdaki işleme göre $\bullet + \blacktriangle$ kaçtır?

- A) 8 B) 10
C) 13 D) 16