

Adı : .....

Soyadı : .....



1 Aşağıdaki saatlerin altına tam saat ya da yarım saat ifadelerinden uygun olanı yazın.



2 Aşağıdaki saatlerde akrep ve yelkovanın hangi renkte olduklarını yazın.



Akrep :

Yelkovan :



Akrep :

Yelkovan :



Akrep :

Yelkovan :



Akrep :


Yelkovan :

Adı : .....

Soyadı : .....



1 Aşağıdaki saatlerin altındaki doğru kutucuğu işaretleyin.



Saat sekiz

Saat sekiz  
buçuk



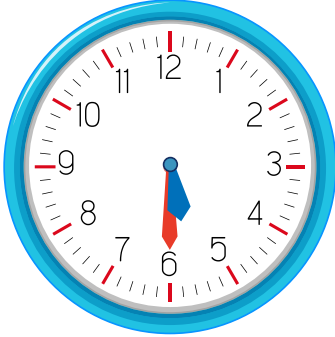
Saat üç

Saat üç  
buçuk



Saat dört

Saat dört  
buçuk



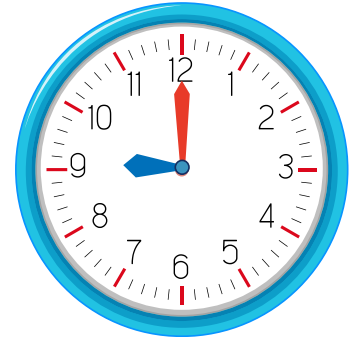
Saat beş

Saat beş  
buçuk



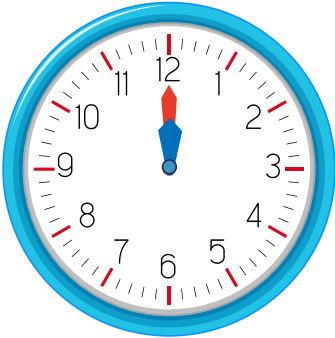
Saat altı

Saat on iki




Saat dokuz

Saat üç



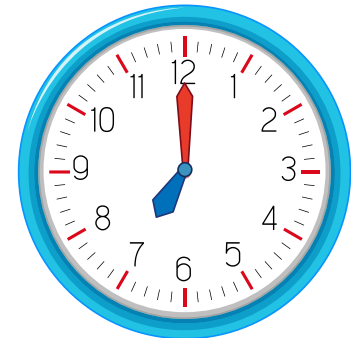
Saat on iki  
buçuk

Saat on iki



Saat on bir  
buçuk

Saat on bir



Saat yedi

Saat sekiz