
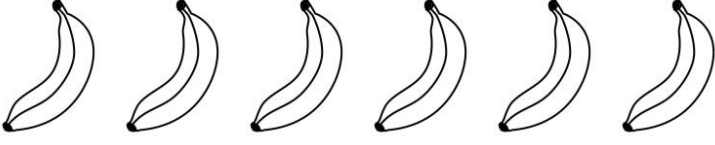


EVDE KAL TÜRKİYEM

UZAKTAN EĞİTİM - 30 MART 2020





ahmetinceogretmen etkinlikleri



Yan tarafta kaç tane muz var?

.....

Bu muzları aşağıdaki 4 maymuna eşit olarak sırayla paylaşalım.



Her maymuna tane muz paylaştırdım.

Bölme işlemi yaparak nasıl bulacağımızı size öğreteyim mi?

 ahmetinceogretmen



Muzların sayısı

Maymun sayısı

12

4

12

3

00

Her maymuna düşen muz sayısı

KALAN MUZ SAYISI

Muzların sayısı



BÖLÜNEN

Maymun sayısı



BÖLEN

Her maymuna düşen muz sayısı



BÖLÜM



ahmetinceogretmen

HER MAYMUNA DÜŞEN MUZ SAYISINI BULURKEN

$$\begin{array}{r|l} 12 & 4 \\ \hline & 3 \end{array}$$

12 'nin içinde kaç tane dört var?

Dörder dörder 12'ye kadar ritmik sayıyoruz.

4 8 12



HER RİTMİK SAYIŞTA BİR PARMAK GÖSTERİYORUZ.

Gördüğümüz gibi **3 tane** ritmik sayma yaptık..

$$\begin{array}{r|l} 12 & 4 \\ \hline 12 & 3 \end{array}$$

ŞİMDİ DE 3 İLE 4'Ü ÇARPACAĞIZ

3 kere 4

$$3 \times 4 = 12$$

Çıkan sonucu buraya yazıyoruz

$$\begin{array}{r|l} 12 & 4 \\ \hline 12 & 3 \\ \hline 00 & \end{array}$$

BURADA ÇIKARMA İŞLEMİ YAPIYORUZ

$$12 - 12 = 00$$

00

ahmetinceogretmen etkinlikleri

EŞ ANLAM OYUNU

ÖZLEM

SİYAH

KONUK

KONUT

İHTİYAR

HAKİM

DOKTOR

KARA

YAŞLI

HASRET

CENK

MİSAFİR

YARGIÇ

SAVAŞ

HEKİM

EV



ahmetinceogretmen



Merhaba çocuklar,

Sizler de yıldızlara yakından bakmak ister misiniz?

Yanlış görmüyorsam yıldızların üzerinde bazı kelimeler yazıyor...

**EŞ ANLAMLI İKİ KELİMEYİ BUL
İKİSİNİ DE AYNI RENGE BOYA**