



KİTAP TANITIM VİDEOSU
TIKLA İÇERİĞİNİ ÖĞREN



FUFUK İLE DEYİM VE ATASÖZÜ BOYUYORUM



5 KİTAP

25 TL

1.Sınıf

2.Sınıf

3.Sınıf

4.Sınıf

Her kitaba özel
Değerlendirme Kitapçığı



WHATSAPP SİPARİŞ

0 552 252 83 85


TOPLU SİPARİŞ FİYATI = 18 TL



KİTAP TANITIM VİDEOSU
TIKLA İÇERİĞİNİ ÖĞREN



FUFUK İLE TÜRKİYE MACERASI



7 KİTAP

30 TL

1.Sınıf

2.Sınıf

3.Sınıf

~~4.Sınıf~~

Bulmacalı Türkiye
Haritası Hediye



WHATSAPP SİPARİŞ

0 552 252 83 85

TOPLU SİPARİŞ FİYATI = 22 TL






Türkçe



Hikâye

Ulaşım araçları kendi aralarında yarış yapmışlar. İstanbul'dan İzmir'e ilk giden kazanacakmış. Uçak bir saatte İzmir'e gitmiş. 5 saat sonra da araba İzmir'e gitmiş. Hava kararınca otobüs İzmir'e gelmiş. Ama gemi bir türlü gelmemiş. Hepsini geminin neden bu kadar geciktiğini merak etmiş. Sonunda gemi de gelmiş. Uçak merakla gemiye sormuş:



- Gemi kardeş neden bu kadar geciktin?

-

.....

.....

.....

.....

.....

.....

.....

.....

ETKİNLİK

1 Yukarıda yarım bırakılmış metni devam ettirip defterimize yazalım. Aşağıdaki soruları yukarıdaki metne göre cevaplayalım.

1. Hikâyeye bir başlık yazınız.

2. Yarışı kim kazanmış olabilir?


3. Otobüs İzmir'e ne zaman gelmiş?

4. Kesme işareti kullanılan sözcükleri bulup yuvarlak içine alınız.

2 Aşağıda verilen olayları oluş sırasına göre sıralayalım.

- Sokakta sınıf arkadaşım olan Elif'i gördüm.
- Kahvaltı yaptıktan sonra spor yapmak için dışarıya çıktım.
- Beraber hem yürüyüş yaptık hem sohbet ettik.
- Öğlen olunca evlerimize döndük.
- Sabah erken uyandım. Elimizi yüzümü yıkadım.

3 Aşağıda verilen bilmeceleri görselleri ile eşleştirip ne olduğunu yanındaki kutucuğa yazalım.



- Dalda durur elde durmaz.
- Sıra sıra odalar birbirini kovalar.
- Ağız var odun yutar, bacası duman tüter.
- Akşam baktım çok idi sabah baktım yok idi.
- Küçük kare kutu içi insan dolu.
- Uzaktan baktım hiç yok, yakından baktım pek çok.
- Dumanı tüter, isterse gider, balık değildir denizde yüzer.
- Gökte gördüm bir köprü rengi var yedi türlü.
- Ne kanı var ne canı 5 tanedir parmağı.
- Ben giderim o gider güneşte beni izler.

2. Hafta

Konu : Alfabetik Sıralama

Ad :

Soyad :

FUFUK Haftalık Çalışma Kitabı



Türkçe



BİLGİ

Sözlük : Anlamını bilmediğimiz kelimelerin anlamını açıklayan ve abece sırasıyla yazılmış kitaba sözlük denir.



Kelimeleri sözlükte ararken **ilk harfine** bakarız.



İlk harfini bulduktan sonra **ikinci harfine** bakarız.

Bu şekilde harfleri sırayla bulduğumuzda sözcüğü bulmuş oluruz.



DİKKAT



Sözcükleri alfabetik sıralama yapacağımız zaman yukarıdaki iki kurala göre yaparız.

ETKİNLİK

1 Aşağıda verilen sözcükleri alfabetik sıraya göre sıralayalım.

1 _____
2 _____
3 _____
4 _____

polis
doktor
asker
avukat

1 _____
2 _____
3 _____
4 _____

Efo
Eli
Titi
Fufuk

1 _____
2 _____
3 _____
4 _____

balık
kuş
balina
karınca

1 _____
2 _____
3 _____
4 _____

Edirne
Eskişehir
Giresun
Ardahan

2 Aşağıda verilen sözcükleri alfabetik sıraya göre sıralayalım.
Sıralı verilen sözcüklerde ise boş bırakılan yerleri tamamlayalım.

Fatma	1	1	Aslı	1	Ela
Fehmi	2	2	Burak	2	
Fuat	3	3		3	Ercan
Fatih	4	4	Can	4	Eymen

Arı	1	1		1	Şeker
Ayl	2	2	Mavi	2	Tatlı
Ayran	3	3	Sarı	3	Ufuk
Anten	4	4	Siyah	4	

Hayri	1	1	Anne	1	Hala
Hasan	2	2	Baba	2	
Hüseyin	3	3		3	Nine
Hamdi	4	4	Dede	4	Teyze

Yılan	1	1		1	Zebra
Yalan	2	2	Mor	2	Zeliha
Yalnız	3	3	Turuncu	3	Zürafa
Yanlış	4	4	Yeşil	4	

Zeki	1	1	Tanık	1	Fındık
Zeytin	2	2	Tarkan	2	
Zehra	3	3		3	Portakal
Zor	4	4	Tarzan	4	Üzüm

Öğrenci	1	1		1	Çağrı
Öğretmen	2	2	Abla	2	Kemal
Öğlen	3	3	Asya	3	Yemek
Oyuncak	4	4	Boncuk	4	



BİLGİ

Hece : Ağzımızın bir hareketiyle söylediğimiz ses ya da ses topluluğuna denir. Haydi gelin "öğretmen" sözcüğünü hecelerine ayıralım.

ög - ret - men

1.hece 2.hece 3.hece



DİKKAT

Her hecede **bir tane ünlü harf** olur.

Her hece **en az bir en fazla dört** harften oluşur.

İlk hece dışındaki diğer heceler **ünsüz harf** ile başlar.

Satır sonuna sığmayan sözcükleri hecelerine ayırınız. Fakat satır sonunda ya da satır başında **bir harf** olmayacak.

ETKİNLİK

1 Aşağıdaki tabloda verilen sözcükleri örnekteki gibi yapınız.




Sözcük	Heceleri	Hece Sayısı	Kalın Ünlü Harfler	İnce Ünlü Harfler
Atatürk	A-ta-türk	3	a-a	ü
Fufuk				
Elif				
telefon				
Eskişehir				
Çanakkale				
ilkokul				
hanımeli				
Trabzon				
traktör				
Kırklareli				
kitapçıdan				

2 Aşağıda verilen hayvanların isminin son hecesi ile başlayan örnekteki gibi iki yeni kelime türetelim.



cani

Cafer



1

SORU

Sözlükte "timsah" kelimesi ile "yengeç" kelimesi arasında olan üç tane sözcük yazar mısın?

Cevap :

2

SORU

Sözlükte "karınca" kelimesi ile "köpek" kelimesi arasında olan bir sözcük yazar mısın?

Cevap :

3

SORU

Sözlükte "ahtapot" kelimesi ile "at" kelimesi arasında olan bir sözcük yazar mısın?

Cevap :

4

SORU

Sözlükte "karınca" kelimesi ile "köpek" kelimesi arasında olan bir sözcük yazar mısın?

Cevap :

5

SORU

4 heceli 3 tane kelime yazar mısın?

Cevap :

6

SORU

5 heceli 3 tane kelime yazar mısın?

Cevap :

7

SORU

Hepsi kalın ünlü olan 3 heceli 2 tane kelime yazar mısın?

Cevap :

8

SORU

Hepsi ince ünlü olan 3 heceli 2 tane kelime yazar mısın?


Cevap :

www.ufukkoca.com

Hece Bilgisi - Alfabetik Sıralama

FUFUK Yayınları


1 Hangi hayvanın bütün heceleri 2 harflidir?




2



Aşağıdaki sözcüklerden hangisinde yukarıda verilen hayvanın adındaki hecelerden bir tanesi **yoktur**?



3



Hangi cümle yukarıda verilen heceleri kullanarak oluşmuştur?

- A Baba kasa nerede?
A Bana araba alsın.
A Sana kale, bana nane ara.

4

Hangi sözcükteki hecelerin hepsi ince ünlü harflerden oluşmuştur?

- A Uçakları B Gemilerden C Otobüste

5



Sözlükte açtığım sayfanın en başında "kaş" yazıyor.

Buna göre Fufu'un baktığı sayfada aşağıdaki sözcüklerden hangisi **olamaz**?

- A Kaşar B Kaşık C Kase

6

manisa

nane



Yukarıdaki sözcüklerin hecelerini sözlük sırasına göre sıralamak istiyorum.

Fufuk bu sıralamayı yaptığında baştan 3. hece hangisi olur?

- A ma B ni C ne

7

Zürafa

Zebra



Yukarıdaki sözcüklerin son hecelerini kullanarak yeni bir sözcük yazacağım.

Bilgin Eli'nin yazacağı yeni sözcük aşağıdakilerden hangisidir?

- A para B rafa C fare

CEVAPLAR

- 1 (A) (B) (C) 5 (A) (B) (C)
2 (A) (B) (C) 6 (A) (B) (C)
3 (A) (B) (C) 7 (A) (B) (C)
4 (A) (B) (C) 8 (A) (B) (C)

2. Hafta

Konu : Basamak Adı ve
Basamak Değeri

Ad :

Soyad :

Matematik

FUFUK Haftalık Çalışma Kitabı



BİLGİ

Birler Basamağı : Bir sayıda birliklerin bulunduğu basamağa denir.

Onlar Basamağı : Bir sayıda onlukların bulunduğu basamağa denir.

Yüzler Basamağı : Bir sayıda yüzlüklerin bulunduğu basamağa denir.

Yüzler Basamağı

Onlar Basamağı

Birler Basamağı



Basamak Değeri = 200

Basamak Değeri = 30

Basamak Değeri = 5

ETKİNLİK

1 Aşağıda verilen sayıların basamak adlarını ve basamak değerlerini bulalım.

476

Basamak
Adı

Basamak
Değeri

386

Basamak
Adı

Basamak
Değeri

503

Basamak
Adı

Basamak
Değeri

970

Basamak
Adı

Basamak
Değeri

815

Basamak
Adı

Basamak
Değeri

658

Basamak
Adı

Basamak
Değeri

2 Aşağıda verilen boşlukları uygun şekilde örnekteki gibi dolduralım.

5 6 2	Basamak Adı	Basamak Değeri
	Bireler B.	2
	Onlar B.	60
	Yüzler B.	500

4	Basamak Adı	Basamak Değeri
		100

Okunuşu : beş yüzaltmış iki.....

Okunuşu :kırk.....

7	Basamak Adı	Basamak Değeri
		3

5	Basamak Adı	Basamak Değeri
		8

Okunuşu :altmış.....

Okunuşu : dört yüz

8	Basamak Adı	Basamak Değeri
		600

9	Basamak Adı	Basamak Değeri
		40

Okunuşu :iki

Okunuşu :beş

6	Basamak Adı	Basamak Değeri
		50

2	Basamak Adı	Basamak Değeri
		300

Okunuşu : altı yüz

Okunuşu :sekiz

3 Aşağıda istenen yönergelere göre işaretleme yapınız.

➡ Onlar basamağı "3" olanları işaretle. ⬅

375 436 243 130 783 383 603

➡ Yüzler basamağı "5" olanları işaretle. ⬅

455 586 305 254 590 259 503

➡ Birler basamağı "2" olanları işaretle. ⬅

223 323 322 425 702 825 932

➡ Onlar basamağı "4" olanları işaretle. ⬅

346 643 724 491 842 254 480

➡ Onlar basamağı "3" birler basamağı "4" olanları işaretle. ⬅

434 643 430 734 473 343 904

➡ Yüzler basamağı "2" birler basamağı "5" olanları işaretle. ⬅

250 405 275 258 345 252 295

➡ Yüzler basamağı "7" onlar basamağı "0" olanları işaretle. ⬅

700 605 750 200 709 790 777


➡ Onlar basamağı "6" birler basamağı "0" olanları işaretle. ⬅

160 262 606 760 506 363 960

➡ Yüzler basamağı "4" birler basamağı "0" olanları işaretle. ⬅

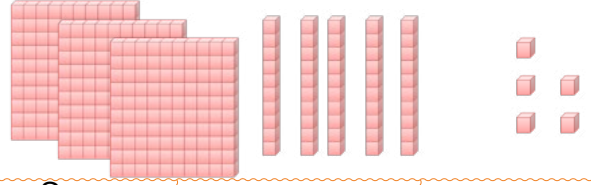
400 520 404 440 480 240 402

4 Aşağıda rakamla yazılan sayıların okunuşunu yazalım. Okunuşu verilen doğal sayıyı ise rakamla yazalım.




Sayı	Basamak Adı	Basamak Değeri

Okunuşu :



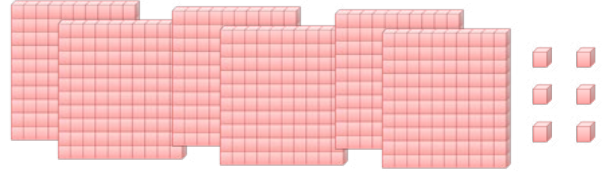
Sayı	Basamak Adı	Basamak Değeri

Okunuşu :




Sayı	Basamak Adı	Basamak Değeri

Okunuşu :



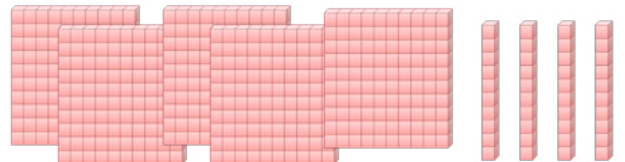
Sayı	Basamak Adı	Basamak Değeri

Okunuşu :



Sayı	Basamak Adı	Basamak Değeri

Okunuşu :



Sayı	Basamak Adı	Basamak Değeri

Okunuşu :

SORU 1

500'den bir önceki sayının onlar basamağındaki rakamın basamak değeri kaçtır?

Cevap :

SORU 2

799'dan bir sonraki sayının onlar basamağındaki rakamın basamak değeri kaçtır?

Cevap :

SORU 3

Bütün rakamları aynı olan 3 basamaklı en küçük doğal sayı kaçtır?

Cevap :

SORU 4

Bütün rakamları farklı olan 3 basamaklı en küçük doğal sayı kaçtır?

Cevap :

SORU 5

254 sayısının bütün rakamlarını 3 arttırdığımızda yeni oluşan sayı kaç artmış olur?

Cevap :

SORU 6

Bütün rakamlarını 2 arttırdığımızda oluşan sayı 495 ise arttırmadan önceki sayımız kaçtı?

Cevap :

SORU 7

7, 0, 8, 5 rakamlarını kullanarak yazacağımız en büyük 3 basamaklı sayı ile en küçük 3 basamaklı sayı kaçtır?

En büyük :

En küçük :

SORU 8

4, 9, 2, 3 rakamlarını kullanarak yazacağımız en büyük 3 basamaklı sayı ile en küçük 3 basamaklı sayı kaçtır?

En büyük :


En küçük :

1 Hangi sayının yüzler basamağındaki rakam onlar basamağındaki rakamdan küçüktür?

A 857 B 206 C 479

2 Hangi sayının yüzler basamağındaki rakam ile birler basamağındaki rakam aynıdır?

A 466 B 383 C 227

3  8 yaşındayım. Kardeşim benden 2 yaş küçüktür.

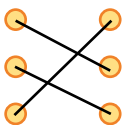
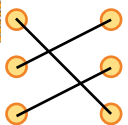
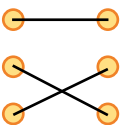
Fufuk'un yaşını onlar basamağına, kardeşinin yaşını ise yüzler basamağına yazdık. Birler basamağına da 5 yazarsak oluşan sayı kaçtır?


A 285 B 865 C 685

4

360	altı yüz otuz
630	üç yüz otuz altı
336	üç yüz altmış

Yukarıda verilen doğal sayılar okunuşları ile eşleştiginde oluşan görüntü hangi seçenekte verilmiştir?



A  B  C 

5  Yüzler basamağındaki rakam birler basamağındaki rakamdan küçüktür.

Buna göre yazılacak en büyük 3 basamaklı doğal sayı kaçtır?

A 987 B 899 C 789

6 Yüzler basamağı ile onlar basamağı aynı olan kaç tane 3 basamaklı doğal sayı vardır?

A  90
B  100
C  999

7  Uğurlu sayım 305'tir.

Buna göre Bilgin Eli'nin uğurlu sayısındaki rakamları kullanarak 3 basamaklı hangi doğal sayıyı yazamayız?

A 530 B 350 C 593

CEVAPLAR

1 (A) (B) (C) 5 (A) (B) (C)
2 (A) (B) (C) 6 (A) (B) (C)
3 (A) (B) (C) 7 (A) (B) (C)
4 (A) (B) (C) 8 (A) (B) (C)

www.ufukkoca.com

Basamak Adı, Basamak Değeri

FUFUK Yayınları

2. Hafta

Konu : Dünya'nın Katmanları ve Yapısı

Ad :

Soyad :

Fen Bilimleri

FUFUK Haftalık Çalışma Kitabı

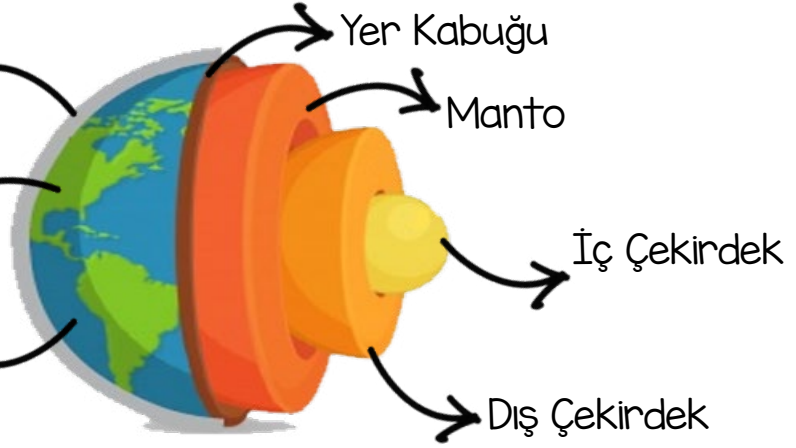


BİLGİ

Hava Katmanı

Kara Katmanı

Su Katmanı



Yer Kabuğu

Manto

İç Çekirdek

Dış Çekirdek



DİKKAT

Yer Kabuğu : Bu katmana **kara katmanı** da denir. Bu katman deniz ve okyanus diplerinde ince, karaların olduğu bölgelerde daha kalındır.

Hava Katmanı : Bu katmana **atmosfer** de denir.

ETKİNLİK

1 Aşağıda verilen tanımları eşleştirelim.

1 Manto

2 Dış Çekirdek

3 İç Çekirdek

4 Yer Kabuğu

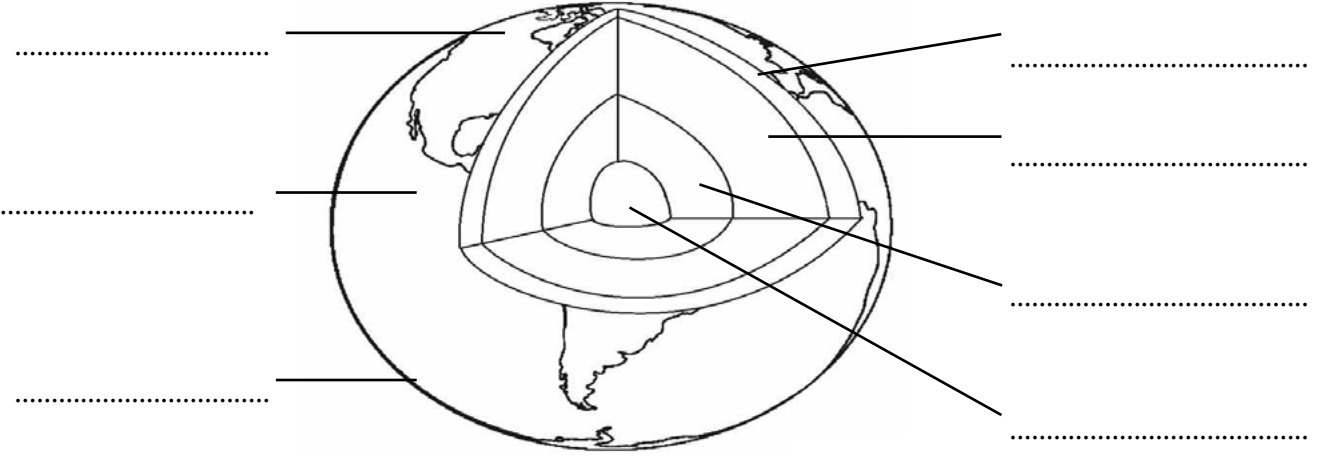
5 Hava Katmanı

6 Kara Katmanı

7 Su Katmanı

- Okyanuslar, denizler, göller, akarsular yer altı suları ve buzullardan oluşur.
- İç çekirdeği saran katmandır. Sıcaklığı iç çekirdekten daha azdır.
- Dünya'nın merkezinde yer alan bu katman en sıcak katmandır.
- Taş, toprak ve kaya gibi maddelerden oluşan yerdur.
- Dış çekirdek ile yer kabuğu arasındadır.
- Dünya'nın etrafını hava ile saran katmandır.
- Dünya'nın yüzeyini oluşturan ve canlıların yaşadığı katmandır.

2 Aşağıdaki resimde Dünya'nın katmanlarını ve yapısını uygun renklerde boyayalım. İsimlerini de yazmayı unutmayalım.



3 Aşağıda verilen görselleri inceleyelim. Dünya'nın hangi katmanına ait olduğunu bulup işaretleyelim.



Hava Kara Su



Hava Kara Su



Hava Kara Su



Hava Kara Su



Hava Kara Su



Hava Kara Su



Hava Kara Su



Hava Kara Su



Hava Kara Su

1 Hangi hayvan diğerlerinden farklı bir katmanda yaşar?



2 Hangisi Dünya'nın gözlemlenemeyen katmanıdır?

- A Dış çekirdek B Su katmanı
C Hava katmanı

3 Hep aynı yönde hareket eden uçak başladığı yere geri dönmüştür.
Bu durum neyi kanıtlar?

- A  Dünya'nın döndüğünü.
B  Dünya'nın yuvarlak olduğunu.
C  Atmosferin olduğunu.

4 Dünya'nın dörtte biri hangi katman ile kaplıdır?



5  Hava katmanında bazı gazlar bulunur.

Buna göre Fufuk'un bahsettiği gazlar hangi seçenekte doğru verilmiştir?

- A Oksijen, azot, karbondioksit.
B Oksijen, azot, hidrojen.
C Azot, hidrojen, karbondioksit.

6 Hangisi Dünya'nın en sıcak katmanıdır?

- A Manto B Dış çekirdek
C İç çekirdek

7 Okyanus Buzullar
Dağlar Yeraltı suları

Yukarıdakilerden kaç tanesi Dünya'nın su katmanını oluşturur.

- A 2 B 3 C 4

CEVAPLAR

- 1 (A) (B) (C) 5 (A) (B) (C)
2 (A) (B) (C) 6 (A) (B) (C)
3 (A) (B) (C) 7 (A) (B) (C)
4 (A) (B) (C) 8 ~~(A) (B) (C)~~

2. Hafta

Konu : Arkadaşlarıma Karşı Davranışlarım ve Kendi Davranışlarım

Ad :

Soyad :



Hayat Bilgisi

FUFUK Haftalık Çalışma Kitabı



BİLGİ

İnsanlara faydalı ve güzel sergilediğimiz davranışlar **olumlu**, insanlara zarar verecek davranışlar sergilersek **olumsuz** davranmış oluruz. Arkadaşlarımızın davranışları bizi etkileyebilir. Onlar bize olumlu davranırsa mutlu oluruz. Olumsuz davranırsa üzülürüz.



DİKKAT

Olumlu davranışlar sergilersek bizi hem severler hem de saygı gösterirler. Bu da bizi daha güçlü ve özgüvenli insan yapar.

ETKİNLİK

1 Aşağıdaki davranışlardan olumlu olanların başına "+" olumsuz olanların başına "-" işareti koyalım.

- Arkadaşlarımla kavga edeceksem teneffüste yaparım.
- Beni suçlayan arkadaşımınla güzelce konuşurum.
- Karşıdan karşıya geçen yaşlılara yardım ederim.
- Kantinde herkesin önüne geçip yiyeceğimi hemen alırım.
- Silgimi arkadaşımınla beraber kullanırım.
- Sadece çalışkan çocuklarla arkadaşlık yaparım.
- Derse geç geldiğimde arkadaşlarımdan ve öğretmenimden özür dilerim.
- Dersi dikkatle dinler dinlemeyenleri döverim.
- Arkadaşıma karşı bir hata yaparsam özür dilerim.
- Arkadaşımın bana hediye alması beni mutlu eder.
- Okulun bahçesinde top oynarken camları kırarım.

2 Arkadaşlarımızın hangi davranışları beni mutlu eder? Hangi davranışları beni üzer? Aşağıdaki noktalı yerlere 3 tane örnek yazalım.

Bu davranışları beni üzer

→

→

→

Bu davranışları beni mutlu eder

→

→

→

3 Arkadaşımda olmasını istediğim özellikleri yeşile, olmasını istemediğim özellikleri ise kırmızı renge boyayalım.

kıskanç

cesur

doğruluk

merhametli

kavgacı

öfkeli

temiz

saygılı

alaycı

cimri

düzensiz

nazik

4 Olumlu davranış sergileyen çocukları yuvarlak içine alalım.

Miki



Silgimi izin almadan kullandığı için dövdüm.

Eli



Futbol oynarken topu almak için çelme taktım.

Fufuk



Yere düşen arkadaşşıma hemen yardım ettim.

Titi



Doğum gününde sürpriz hediye aldım.

5 Aşağıda verilen cümlelerdeki boşlukları uygun sözcükler ile tamamlayalım.

Kantinden önüme geçen bir çocuk gördüğümde

Bahçede ağlayan bir çocuk gördüğümde

Sınıfta gürültü yapan arkadaşımı

Arkadaşlarımı her gördüğümde derim.

1 Rakamları (1, 2, 3, 4, 5, 6) kullanarak sudokuyu yapalım.
Her satır ve sütunda farklı rakamlar olmasına dikkat edelim.

		5	6		1
	4		2	3	5
5	1	4			
			5	1	
		2			
1	5			2	6



4	1				3
		4	5	2	1
		6			
1	4			6	5
	2	1	3		
6				1	2



3	1				4
2			3	1	6
4	6				
1		2	4		
		1		4	
		3		2	1



1			6	5	3
6					
	4	3			6
2	6		5		4
	1		3		
3				2	



2	4		6		5
	6	2			4
5			3		
6		5			1
					3
	5	3			6



5				1	6
3	1	6			
	6	3		5	4
2	5		1		3
	3	5		2	
		1		3	5



Atasözü

Akıl akıldan
üstündür.

Anlamı

Bir kimsenin aklına gelmeyen çözüm,
başka birinin aklına gelebilir.

Resim

Kısa Hikâye

.....

.....

.....

.....

.....

Deyim

Ağzının içine bakmak

Resim

Anlamı

Konuşan bir kimseyi seve seve ve
dikkatle dinlemek.

Örnek

Fufuk konuyu o kadar güzel anlatıyor-
du ki herkes ağzının içine bakıyordu.

Örnek Cümlem



Fufuk, şaka yapmayı seven bir çocuktur. Bu yüzden herkes ona Şakacı Fufuk derdi.

Fufuk bir gün bahçede arkadaşları ile top oynarken ağacın altında bir sandık gördü. Arkadaşlarını da çağırarak sandığın yanına gitti. Birlikte sandığı açtılar. İçinde altın renginde çok güzel bir top ve yanında Türkiye haritası vardı. Sandığın en altında ise bir mektup vardı.



Fufuk nasıl bir çocuktur?

Fufuk nerede sandık gördü?

Fufuk ne zaman sandık gördü?

Sandığı kim açtı?

Hikâyeye uygun bir başlık yazalım.

Hikâyede olay nerede geçmiş?

Sandığın içinde neler vardı?

Resme uygun bir başlık yazalım.

Fufuk, matematik dersini çok severdi. Problemleri çözmek ona bulmaca çözmek gibi gelirdi. Hatta matematiği sevmeyenlere şaşırırdı. Arkadaşlarına "Böyle eğlenceli ders sevilmemez mi?" derdi. Herkese matematik öğretirdi.

Fufuk hangi dersi çok severdi?

Fufuk, bisikleti hızlı sürdüğü için saçları bozuldu. Bunu farkeden Fufuk hemen durdu. Cebinden ayna çıkardı ve saçlarına baktı. Eliyle saçlarını tekrar düzeltti. Sonra sepette duran kaskını aldı ve taktı. Artık saçları bozulmuyordu.

Fufuk'un saçları neden bozuldu?

Fufuk, arkadaşlarına ne derdi?

Fufuk'un kaskı nerede duruyordu?

2.
Hafta

Konu : FUFUK Bilgi Yarışması

Ad :

Soyad :

➡ Tüm Dersler ⬅

FUFUK Haftalık Çalışma Kitabı

Google Play'den
Ücretsiz İndir

GETİR OK
Google Play



ONLINE TESTLERE KATIL

**ARKADAŞINA
MEYDAN OKU !**



Okul Öncesi - İlkokul - Ortaokul herkes kullanabilir.



FUFUK BİLGİ YARIŞMASI

TIKLA ÜCRETSİZ İNDİR

EBA Tv programına uygun **her gün** işlenen ders ile ilgili test yüklüyoruz.

EBA Tv de hangi konuları gördüyse biz de mobil uygulamada o **konular** ile ilgili sorular soruyoruz.

Testleri **gününde** çözerseniz daha fazla puan kazanırsınız.

Arkadaşınıza **meydan okuyarak** ekstra puanlar kazanabilirsiniz.