

## ORGANLARIN DÜŞ TOPLANTISI

Onur, uykuya dalınca duyu organları hep bir ağızdan konuşmaya başladılar. Aralarında bir sorun olduğu belliydi. Gece gündüz demeden çalışan ve hiç uyumayan beyin, gürültüden çalışamaz olmuştu.

— Hey! Neler oluyor orada bakalım? diye sordu. Duyu organları aynı anda konuşmaya başladılar. Beyin sinirlenmişti. Bir el hareketi ile hepsini susturdu. Göz söz istedi.

— Onur'dan şikâyetim var. Televizyonu o kadar yakından izliyor ki artık dayanamıyorum. Hele saatlerce bilgisayar ekranına bakmasına ne demeli?

Göz konuşmasını bitirir bitirmez kulaklar söze atıldı:

— Siz bir de yüksek sesle müzik dinlediğinde benim neler çektiğimi bil-seniz...

— Ooo... O da bir şey mi? Yediklerini duysanız mideniz bulanır. Cipsler, kolalar, yağlı yiyecekler... Elmanın tadını nasıl özledim, anlatamam, dedi dil. Burun başını bir aşağı bir yukarı sallıyordu.

— Ben bilmem mi? Onları yerken kokularını da ben çekiyorum. Canım-dan bezdim artık!

Beyin şaşkınlıkla onları izliyordu. Aslında bir aksilik olduğunu hissediyordu ama sorunun bu kadar büyüdüğünü fark etmemişti. Konuşmayan bir tek duyu organı kalmıştı; deri.

Deri içini çekti. Üzgün bir şekilde konuşmaya başladı.

— Onur meraklı bir çocuk! Sokakta gördüğü her şeyi eline alıyor. Kirli mi temiz mi diye düşünmüyor. Banyodan kaçıyor ve ellerini hiç yıkamıyor. Bu soruna bir çözüm bulmazsak tüm organlar yakında çalışamaz olacaklar, diye düşündü beyin. Sabah olmadan Onur'u uyarmaya karar verdi. Rüya-sında ona mesajlar yollayabilirdi.

→ Soruları metne göre cevaplayalım.

\* Duyu organları ne zaman konuşmaya başlamışlar?

.....

\* Derinin Onur'dan şikâyeti neymiş?

.....

.....

\* Onur hangi sağlıksız besinleri tüketiyormuş?

.....

\* Duyu organlarımızın sağlığına dikkat etmezsek ne gibi sorunlar yaşayabiliriz?

.....

→ Cümlelerde geçen zıt anlamlı kelimelerin altlarını çizelim.

- 🌍 İşleri iyi kötü yoluna koyduk.
- 🌍 Derin aşağı yukarı iki saattir uyuyor.
- 🌍 Nisa erken uyudu ama geç uyandı.
- 🌍 Burada geceler uzun, gündüzler kısadır.
- 🌍 Araç kullanırken çukurlara ve tümseklere dikkat etmelisin.
- 🌍 Kaybettiğim kalemimi sıranın altında buldum.
- 🌍 Onur, küçük büyük ayırt etmeden herkesi severdi.
- 🌍 Sıcak soğuk demeden her gün aynı montu giyerdi.

→ Aşağıdaki kelimelerin zıt anlamlılarını karşılarına yazalım.

- ➡ evli .....
- ➡ hatırlamak .....
- ➡ savaş .....
- ➡ hafif .....
- ➡ zarar .....
- ➡ basit .....
- ➡ ceza .....
- ➡ parlak .....
- ➡ varlık .....
- ➡ zengin .....

## TEST ÇÖZELİM

1. "Babam acemi şofördür."

Cümlesinde "acemi" sözcüğünün zıt anlamlısı aşağıdakilerden hangisidir?

- A) yavaş B) usta C) hızlı

2. Aşağıdaki kelime çiftlerinden hangisi zıt anlamlıdır?

- A) zafer – yenilgi  
B) başvuru – müracaat  
C) afacan – yaramaz

3. "Hatırlamak" sözcüğünün zıt anlamlısı aşağıdakilerden hangisidir?

- A) Hatırlamamak  
B) Unutmak  
C) Düşünmek

4. fayda yokluk  
vazife esaret

Yukarıdaki sözcüklerden hangisinin zıt anlamlısı yoktur?

- A) fayda B) esaret  
C) vazife

# MATEMATİK

## Çıkarma İşlemi



→ Verilen çıkarma işlemlerini örnek-  
teki gibi onluk taban bloklarından  
yararlanarak bulalım.

a)

$$\begin{array}{r} 524 \\ - 213 \\ \hline \end{array}$$

b)

$$\begin{array}{r} 369 \\ - 145 \\ \hline \end{array}$$

c)

$$\begin{array}{r} 548 \\ - 326 \\ \hline \end{array}$$

d)

$$\begin{array}{r} 569 \\ - 450 \\ \hline \end{array}$$

e)

$$\begin{array}{r} 475 \\ - 144 \\ \hline \end{array}$$

f)

$$\begin{array}{r} 657 \\ - 403 \\ \hline \end{array}$$

→ Aşağıda verilen çıkarma işlemlerini  
yapalım.

Yüzler Basamağı	Onlar Basamağı	Birler Basamağı	Yüzler Basamağı	Onlar Basamağı	Birler Basamağı
3	6	5	5	1	8
- 1	2	5	- 3	0	1

Yüzler Basamağı	Onlar Basamağı	Birler Basamağı	Yüzler Basamağı	Onlar Basamağı	Birler Basamağı
4	3	7	4	9	5
- 2	1	6	- 4	4	0

Yüzler Basamağı	Onlar Basamağı	Birler Basamağı	Yüzler Basamağı	Onlar Basamağı	Birler Basamağı
7	6	0	9	7	8
- 5	3	0	- 8	5	6

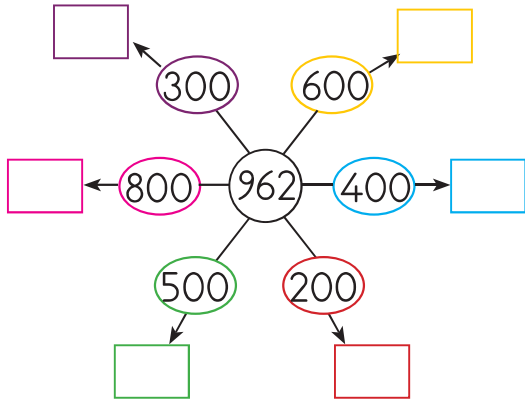
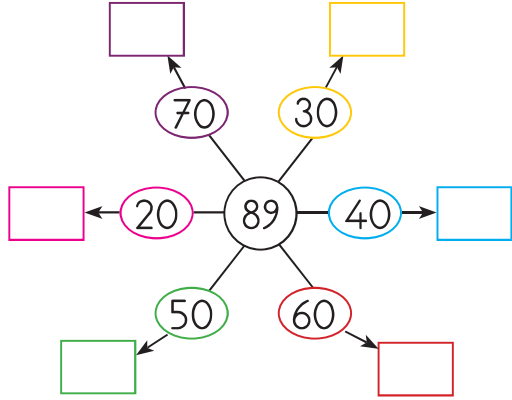
→ Verilen çıkarma işlemlerini yapalım.

<b>YOB</b>	<b>YOB</b>	<b>YOB</b>
548	752	686
- 315	- 348	- 548

<b>YOB</b>	<b>YOB</b>	<b>YOB</b>
493	632	724
- 305	- 196	- 275

<b>YOB</b>	<b>YOB</b>	<b>YOB</b>
732	596	541
- 354	- 258	- 242

→ Aşağıda verilen onun ve yüzün katı olan sayıları ortadaki sayıdan zihinden çıkaralım. Farkları ok yönündeki kutulara yazalım.



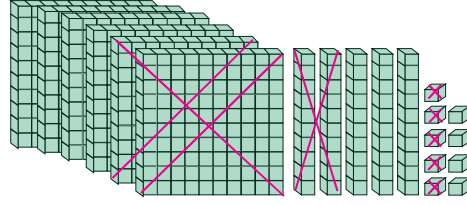
→ Verilen işlemleri zihinden yapalım. Sonuçları aşağıdan bulup işlemin harfini yanına yazalım.

- |                 |                 |
|-----------------|-----------------|
| a. $100 - 70 =$ | g. $200 - 50 =$ |
| b. $300 - 80 =$ | h. $500 - 70 =$ |
| c. $500 - 30 =$ | i. $400 - 20 =$ |
| d. $600 - 90 =$ | k. $700 - 80 =$ |
| e. $700 - 60 =$ | l. $800 - 90 =$ |
| f. $800 - 40 =$ | m. $600 - 40 =$ |



## TEST ÇÖZELİM

1.



Yukarıda taban bloklarıyla modellenen çıkarma işlemi aşağıdakilerden hangisidir?


- A)  $659 - 433 = 226$   
 B)  $433 + 226 = 659$   
 C)  $659 - 225 = 434$

2. Aşağıdaki işlemlerden hangisinin sonucu farklıdır?


A)



B)



C)



3. 30 onluk - 6 onluk = 24 onluk  
 24 onluk = 240

Yukarıda zihinden yapılan çıkarma işlemi aşağıdakilerden hangisidir?

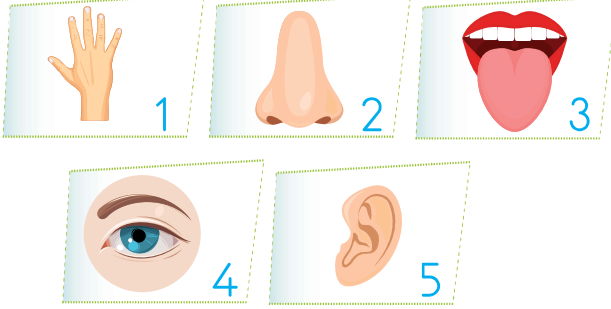
- A)  $30 - 6$                       B)  $240 - 30$   
 C)  $300 - 60$

# FEN BİLİMLERİ

## Duyu Organlarının Görevleri



→ Verilen duyu organlarını görevleriyle eşleştirelim.



- 1. Cisimlerin şeklini, rengini ve büyüklüğünü algılamamızı sağlar.
- 2. Çevreden gelen sesleri işitmemizi sağlar.
- 3. Çevremizdeki insanlarla iletişim kurmamıza yardımcı olur.
- 4. Kokuları algılamamızı sağlayan duyu organıdır.
- 5. Vücudumuzdaki fazla suyun ve tuzun terleme yoluyla dışarı atılmasına yardımcı olur.
- 6. Tatlı, acı, tuzlu ve ekşi tatları algılamamızı sağlar.
- 7. Solunan havayı temizler, ısıtır ve nemlendirir.
- 8. Elimize döktüğümüz kolonyanın kokusunu algılamamızı sağlar.
- 9. Besinlerin tadını algılamamızı sağlayan duyu organımızdır.
- 10. Cisimlerin sert mi, yumuşak mı olduğunu algılamamızı sağlar.

→ Duyu organlarının sağlığını korumak için dikkat edilmesi gerekenlerden bazıları aşağıda numaralandırılmıştır. Numaraları uygun duyu organının altına yazalım.

1. Çok kuvvetli ya da zayıf ışıkta ders çalışmamalıyız.
2. Ağız ve diş sağlığına önem vermeliyiz.
3. Gürültülü yerlerde bulunmama-ya özen göstermeliyiz.
4. Aşırı sıcak ve soğuk besinleri tüketmemeliyiz.
5. Bilgisayar ve televizyon ekranlarına çok yakından bakmamalıyız.
6. Yüksek sesli müzik dinlememeliyiz.
7. Dişlerimizi fırçalarken dilimizi de fırçalamalıyız.
8. Güneş'e ve şiddetli ışık yayan varlıklara çıplak gözle bakmamalıyız.
9. Kokusunu bilmediğimiz maddeleri koklamamalıyız.
10. Haftada en az iki defa banyo yapmalıyız.



→ Aşağıdaki cümlelerde boş bırakılan yerleri uygun ifadelerle tamamlayalım.

tadına dış etkilere ışık

gözlük sert cisimler 30 cm

deterjan sigara dilimizle

derimizi

1. Gözümüz, çevreden aldığı ..... sayesinde görmemizi sağlar.
2. Ne olduğunu bilmediğimiz maddelerin ..... bakmaktan kaçınmalıyız.
3. Besinlerdeki tatlı, tuzlu, ekşi ve acı tatları ..... algılarız.
4. Kış mevsiminde ..... aşırı soğuktan korumalıyız.
5. Kulaklarımızı temizlemek için ..... kullanmamalıyız.
6. Havlu ve ..... gibi kişisel eşyaların temizliğine dikkat etmeliyiz.
7. Okurken gözümüzle kitap arasında en az ..... olmasına dikkat etmeliyiz.
8. Derimize zarar verebilecek çamaşır suyu ve ..... gibi maddelere dokunmamalıyız.
9. Burun sağlığını korumak için ..... içilen ortamlarda bulunmamalıyız.
10. Derimiz, vücudumuzu ..... karşı korur.

## TEST ÇÖZELİM

1.



Kedimin rengi beyaz ve yumuşacık tüyleri var.

Müge, kedisini tarif ederken hangi duyu organlarını kullanmıştır?

- A) göz – kulak B) göz – burun  
C) göz – deri

2.



Vücudumu aşırı sıcak ve soğuktan korumaya çalışır, haftada en az iki defa banyo yaparım.

Yukarıdaki çocuk yaptığı uygulamalarla hangi duyu organının sağlığına dikkat etmektedir?

- A) Kulak B) Deri  
C) Burun

3. Aşağıdaki bilgilerden hangisi yanlıştır?

- A) Uzayan burun kıllarını koparabiliriz.  
B) Dişlerimizi fırçalarken dilimizi de fırçalamalıyız.  
C) Güneş'e ve şiddetli ışık yayan varlıklara çıplak gözle bakmamalıyız.

# HAYAT BİLGİSİ

Kaynakları Dikkatli Kullanalım - Okulda Demokratik Ortam

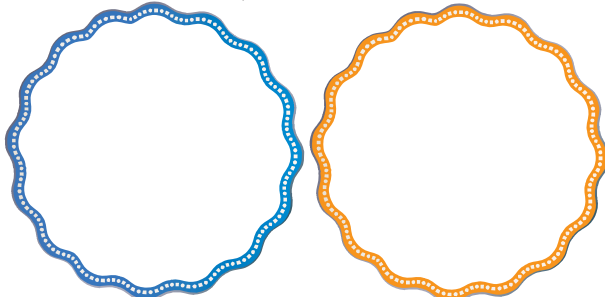


→ Aşağıdaki cümlelerde boş bırakılan yerleri altta verilen ifadelerden uygun olanıyla tamamlayalım.





- söndürmeliyiz •uyarmalıyız •özenli
- kapatmalıyız •sayfalarını •fazla
- ihtiyacımız •karalamamalıyız

- Boşa yanan lambaları .....
- Boşa akan muslukları .....
- Sabun ve tuvalet kağıdını .....  
kadar kullanmalıyız.
- Okul ve sınıf eşyalarına zarar verenleri gördüğümüzde kibarca .....
- Tahta kalemini gerektiğinden .....  
kullanmamalıyız.
- Okul kitaplığındaki kitapları .....  
kullanmalıyız.
- Defterlerimizin .....
- Sıraların üzerini .....

→ Su ve elektriği daha tasarruflu kullanmak için küçük uyarıcı kartlar tasarlayalım.



→ Verilen görselleri inceleyelim. Okulda kaynakların kullanımı ile ilgili yanlış davranışları ve yapılması gerekenleri yanlarındaki boşluklara yazalım.



→ Okul başkanı seçildiniz Okul müdürü sizden okul sorunlarını tespit ederek liste halinde vermenizi istedi.

Okulumuzdaki sorunları maddeler halinde yazalım.

1.	.....
2.	.....
3.	.....
4.	.....
5.	.....
6.	.....
7.	.....
8.	.....
9.	.....
10.	.....

→ Yukarıda belirlediğimiz sorunlardan bir tanesini seçerek uygun çözüm yolları bulalım ve yazalım.




.....
.....
.....
.....
.....
.....
.....
.....
.....
.....

## TEST ÇÖZELİM

1. Aşağıdakilerden hangisi sınıfta kullanılan kaynaklardan birisi değildir?

- A) Tahta kalem B) Kağıt  
C) Tüp

2. Aşağıdaki öğrencilerden hangisi suyun tasarruflu kullanımı ile ilgili yanlış bilgi vermiştir?

- A)  Okuldaki bozuk muslukları okul idaresine söylerim.
- B)  Elimi yıkarken musluğu sonuna kadar açarım.
- C)  Açık unutulan muslukları kapatırım.

3. Emin ve arkadaşları, okul bahçesinde oynarken çöplerin etrafa atıldığını fark ettiler. Bahçedeki çöp kutularının yetersiz olduğunu gördüler.

Emin ve arkadaşları bu sorunun çözümünü için ne yapmalıdır?

- A) Okul idaresinden bahçeye ilave çöp kutuları koymasını isteyebilirler.  
B) Ailelerine haber verebilirler.  
C) Çöpleri görmezden gelebilirler.