

2. SINIF
2. DÖNEM
2. KAZANIM DEĞERLENDİRME SINAVI



Adı Soyadı :

Sınıfı :



Bu bir ETKİLEŞİMLİ PDF'dir.
Yani denemeyi telefon, tablet veya
bilgisayarda işaretleyerek
çözebilirsiniz. Bunun için
bu cihazlarınıza Adobe Reader
uygulamasını kurmanız yeterlidir.
Sınavı isterseniz yazıcıdan çıktı alarak
da çözebilirsiniz.

Bu deneme sınavı **Giray KARAGÜN**
tarafından hazırlanmıştır.



KEDİM

Kedim henüz bir yaşında,
Uyuyor soba başında.
Hem cesurdur, hem de kurnaz,
Bir tıkırtı duyar duymaz,
Uyanır aslan kesilir,
Gözleri volkan kesilir.
O geldiği günden beri,
Bizim evin fareleri,
Damdan, tavandan indiler,
Birer deliğe sindiler.
Koşup yakalıyor hemen,
Yuvasından, deliğinden
Çıkanları diri diri.
Artık bunlardan hiç biri,
Dolaplarıma girmiyor,
Kitapları kemirmiyor.
Orhan Seyfi ORHON

Gıray KARAGÜN

Gıray KARAGÜN

- 3 Aşağıdakilerden hangisi yukarıdaki şiirde geçen **diri** sözcüğünün eş anlamlısıdır?
- ölü canlı hasta

"Ellerimizisıksıkıyıkayarakmikroplardan veshastalıklardankorunuruz."

- 4 Kerem, yukarıdaki cümleyi yazarken sözcüklerin arasında boşluk bırakmayı unutmuş. Acaba bu cümle kaç kelimedenden oluşmaktadır?



8 9 10

1. , 2. ve 3. soruyu şiire göre cevaplayınız.

- 1 Aşağıdakilerden hangisi yukarıdaki şiirle ilgili bir görsel değildir?



>Cesur< >2 yaşında< >Kurnaz<
>1 yaşında< >Korkak< >Şaşkın<

- 2 Yukarıdakilerden kaç tanesi şairin kedisinin özelliğidir?

5 4 3



- 5 Yukarıdaki çiçeğin yapraklarında zıt anlamlıları eşleştirdikten sonra zıt anlamı olmayan yaprakları koparırsak çiçeğin son görüntüsü hangisi olur?





TÜRKÇE



Yemeği yapalım mı?

6 Aşımızın cümlesi hangi kelime ile tamamlanamaz?



birlikte mutfakta dün

herkez kirbit dakka üçken

sipor tren sovan beşgen

7 Yukarıdaki kelimelerden kaç tanesi doğru yazılmıştır?

2 3 6

8 Aşağıdaki cümlelerden hangisinde noktalama işaretlerinin kullanımıyla ilgili yanlışlık yapılmıştır?

Hatayın yemekleri çok lezzetlidir.

Amasya'lılar semaver çayını çok sever.

İzmit'in pişmaniyesi çok ünlüdür.

9 Aşağıdaki cümlelerden hangisinde kim, ne zaman ve nerede sorularının hepsinin cevabı vardır?

Meryem yarın önemli bir sınava girecek.

İpek dün akşam bahçede yavru bir kedi buldu.

Melek, bahçelerinde çok lezzetli domatesler yetiştirir.

kara kasa ??? kaza

10 Yukarıdaki kelimeler sözlük sırasına göre dizilmiştir. Soru işareti olan kutucuğa hangi kelime gelemez?

kaya kasırga karga



11 Yukarıdaki resmi en iyi anlatan cümle hangisidir?

Yusuf, köylerinin yakınında; deniz kıyısında balık yakalıyor.

Yağız, köylerinin yakınındaki gölde balık yakalıyordu.

Ömer, köylerinin yakınındaki dereye balık yakalıyor.





12



Sessiz okuma yaparken nelere dikkat etmeliyiz?

Ahmet öğretmenin sorusuna hangi öğrenci doğru cevap vermiştir?



Sessiz okuma yaparken gözümle takip ederek okurum.



Sessiz okuma yaparken fısıltı çıkararak okurum.



Sessiz okuma yaparken dudaklarımı kıpırdatırım.

13



4 harfli ve 1 heceden oluşan kelime örneği veriniz.

Elif öğretmenin sorusuna hangi öğrenci yanlış cevap vermiştir?



SERT




TURP



SARI

14

Hece sayısı fazla olan kelime tahterevallide daha ağır gelmektedir. Buna göre hangi tahterevallinin durumu doğrudur?



Giray KARAGÜN

Giray KARAGÜN



Dışarıdan bir ses geldi ve ve hemen cama koştum, sokağa baktım.



Sokağa çıkma yasağı olduğu için sokak bomboştu ve kimsecikler yoktu.




Tenenin peşinde şirin mi şirin yavru bir kedi koşuyor ve oyun oynuyordu.



O sırada dikkatimi çöpün yanında yuvarlanan bir tenekçe çekti.

15

Yukarıdaki karışık cümleleri olayların oluş sırasına göre sıralarsak doğru sıralama nasıl olur?



Giray KARAGÜN

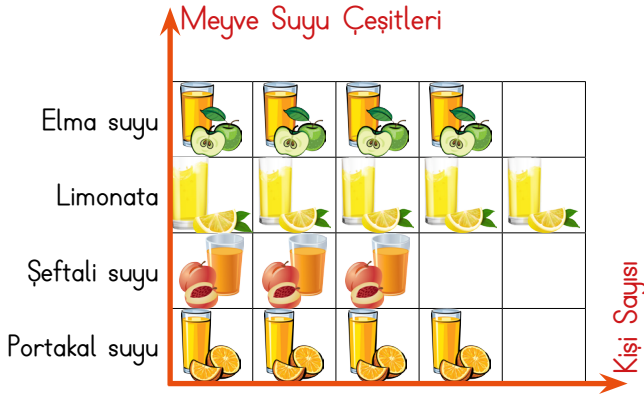




MATEMATİK



NESNE GRAFİĞİ : 2-B ve 2-C Sınıfında
Sevilen Meyve Suyu Çeşitleri



NOT : Her nesne 4 öğrenciyi göstermektedir.

1. , 2. ve 3. soruyu nesne grafiğine göre cevaplayınız.

1



Grafiğe göre en çok sevilen meyve suyunu, en az sevilen meyve suyundan kaç kişi fazla sevmektedir?

2

6

8

Gıray KARAGÜN

2



Grafiğe göre eşit sayıda sevilen meyve suları hangileridir?

Elma suyu ve portakal suyu

Limonata ve portakal suyu

Limonata ve şeftali suyu

Gıray KARAGÜN



4



3



Grafiğe göre 2-B ve 2-C sınıfında toplam kaç öğrenci vardır?

16

64

48



4 Manav kunduzdan kilosu 5 lira olan çilekten 3 kilo ve kilosu 4 lira olan elmadan 6 kilo aldım. Kunduza 50 lira verdim, kaç lira para üstü almalıyım?

11

15

39



MATEMATİK



Kumbaramdaki paranın 39 lirası ile bu kitabı aldım. Kaç liram kaldı?

5

23

33

43



Gıray KARAGÜN

Her gün bir tam ve bir yarım ekme tüketiyoruz. 8 günde kaç tane bütün ekme tüketiriz?



8

16

14

12

6 Aşağıdaki saati hangi öğrenci yanlış okumaktadır?



Saat 5'e çeyrek var



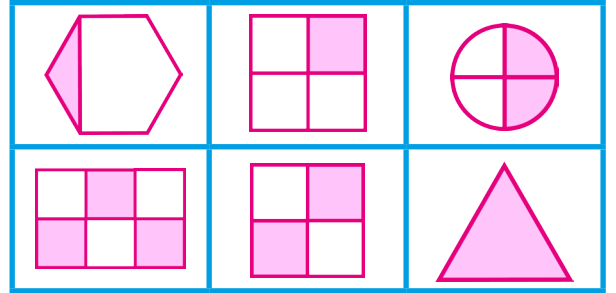
Saat 5'i çeyrek geçiyor.






Saat 4'ü 45 geçiyor.



Gıray KARAGÜN



9 Yukarıdaki şekillerden yarımı gösterenlerin kutusu sarıya boyanırsa görünüm nasıl olur?



7 Yukarıdaki yarım ve çeyrek portakallar kaç tane bütün portakala eşittir?

5

6

7

Gıray KARAGÜN

10 İrem 45 sayfalık bir kitabı 5 günde okuyup bitirmek istiyor. Her gün kaç sayfa kitap okumalıdır?

9

8

7



5





MATEMATİK




11 Bayramda annem 25 lira babam 46 lira harçlık verdi. Harçlıklarımı tanesi 3 liradan bir deste kalem ve tanesi 2 liradan bir deste silgi aldım. Kaç liram kaldı?


11

21

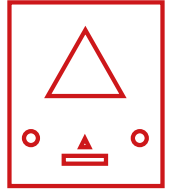
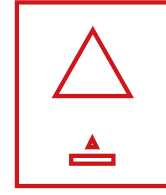
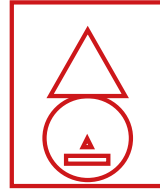
31



Giray KARAGÜN



14 Yukarıdaki resimde çember olan şekiller silinirse nasıl bir görüntü oluşur?



12 Yukarıdaki saatin sırasıyla öğleden önce ve öğleden sonra okunuşlarını hangi öğrenci doğru olarak söylemiştir?



Saat dörde çeyrek var.
Saat on altı on beş.




Saat dördü çeyrek geçiyor.
Saat on yedi on beş.



Saat dördü çeyrek geçiyor.
Saat on altı on beş.

Giray KARAGÜN

13 Yandaki rulo ile düz bir şekilde duvara boya sürerse hangi şekil oluşur?



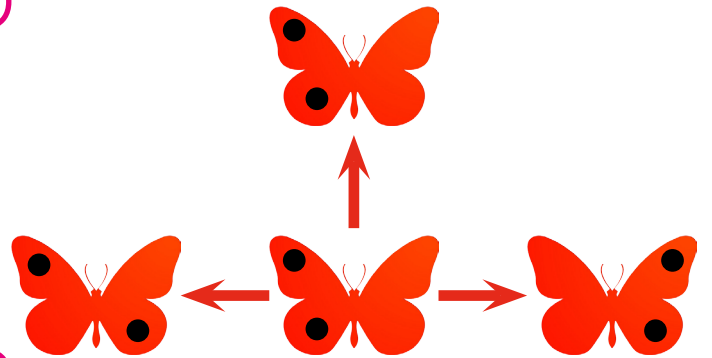
Giray KARAGÜN

15 Ortadaki kelebek simetriğine doğru uçacak, hangi yöne doğru uçar?

Sağ

Yukarı

Sol





HAYAT BİLGİSİ



1 Aşağıdakilerden hangisi doğal unsurdur?



2 Saksıda salatalık yetiştirmek isteyen Necati sırayla şunları yaptı :

-Önce evdeki boş saksılara gübreli toprak doldurdu.

-Sonra saksılara salatalık tohumlarını serpti.

-Saksıları evlerindeki gölge bir yere koydu.

-Saksıları her gün düzenli olarak suladı.

Necati'nin ektiği salatalık tohumları yeşerdi ancak bir türlü büyümediler. Hangisinin eksik olmasından dolayı olabilir?

Su

Hava

Güneş Işığı



Bu üretim alanında çalışırken koruyucu kıyafetler giyeriz. Çiçeğin peşinde gezeriz. Elde ettiğimiz ürün çok tatlıdır.

3 Anlatımına göre resimdeki kişi hangi hayvanı yetiştirmektedir?

Arı

Tavuk

İnek

4 Muhammed, savaş sebebiyle ülkemize gelmiş bir çocuktur. Mahallelerine yeni taşınan Muhammed'e karşı Mehmet ve arkadaşlarının nasıl davranması doğru değildir?



Muhammed ile tanışmalılar.

Muhammed Türkçe öğrenene kadar oyunlarına almamalıdır.

Muhammed'e karşı hoşgörülü olmalı.

Gıray KARAGÜN

Gıray KARAGÜN

Gıray KARAGÜN

5 Yukarıdaki kültürel mirasımız çiçeğinde, kültürümüze ait olmayan yapraklar koparılsa çiçeğin son görünümü nasıl olur?



6 Küçükken hep bu mesleği yapmak istedim ve gittiğim okullar hep bu mesleğe yönelikti. Atamızın yaşamı boyunca sürdürdüğü bu meslek hangisidir?



Doktorluk

Öğretmenlik

Askerlik





HAYAT BİLGİSİ



23
Nisan

Atatürk'ü Anma, Genç-
lik ve Spor Bayramı

29
Ekim

Zafer Bayramı

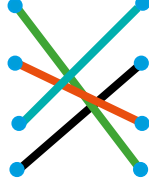
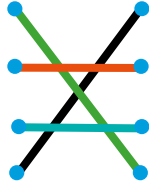
30
Ağustos

Cumhuriyet Bayramı

19
Mayıs

Ulusal Egemenlik ve
Çocuk Bayramı

7 Milli bayramlarımızı, tarihleri ile eşleştirirsek hangi desen ortaya çıkar?



Giray KARAGÜN

9 İstiklal Marşımız ile ilgili hangi öğrenci yanlış bilgi vermiştir?



İstiklal Marşımızın şairi Mehmet Akif Ersoy'dur.



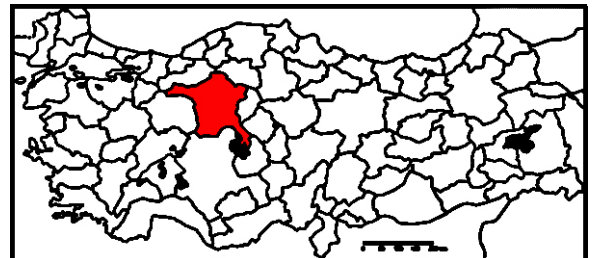
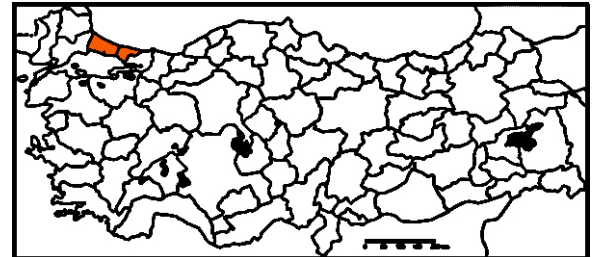
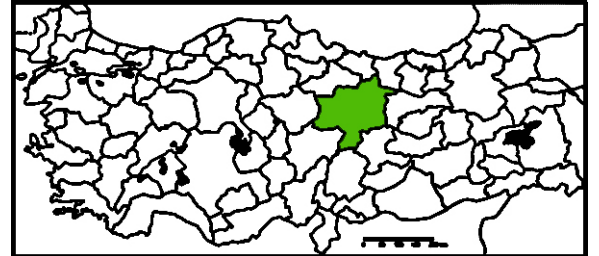
İstiklal Marşımız okunurken yürümeye devam edebiliriz.



İstiklal Marşımız özgürlük ve bağımsızlığımızın sembolüdür.

Giray KARAGÜN

10 Başkentimiz hangi haritada doğru olarak boyanmıştır?



Giray KARAGÜN



Annem evin her yerini temizledi ve baklava yaptı. Çarşıdan hepimize yeni giysiler aldık. Sabah uyanıp güzel bir kahvaltı yaptık. Büyükleimizi ve akrabalarımızı ziyaret ettik. Bize misafirlige gelenler oldu; şeker ve baklava ikram ettik.

8 Ecrin'in bahsettiği özel gün hangisi olamaz?

Ramazan Bayramı

Kurban Bayramı

Miraç Kandili





1 Güneş hangi renktedir?

Red

Blue

Yellow

Giray KARAGÜN



4 What colours are his costume?

Blue, red, yellow

Blue, red, pink

Blue, white, yellow

Giray KARAGÜN



2 Görsele uygun cümle hangisidir?

Open the door.

Close the door

Close the window.



5 Numaralandırılmış organların isimleri sırasıyla hangisidir?

Ear, nose, eye

Nose, ear, eye

Nose, eye, ear

Giray KARAGÜN

My name is Pamuk Prenses.
This is my
It is on my

3 Boşluklara sırayla gelmesi gereken kelimeler hangileridir?

bird
head

cat
finger

bird
finger

