


Adı :
Soyadı :
Sınıfı :

MATEMATİK-1

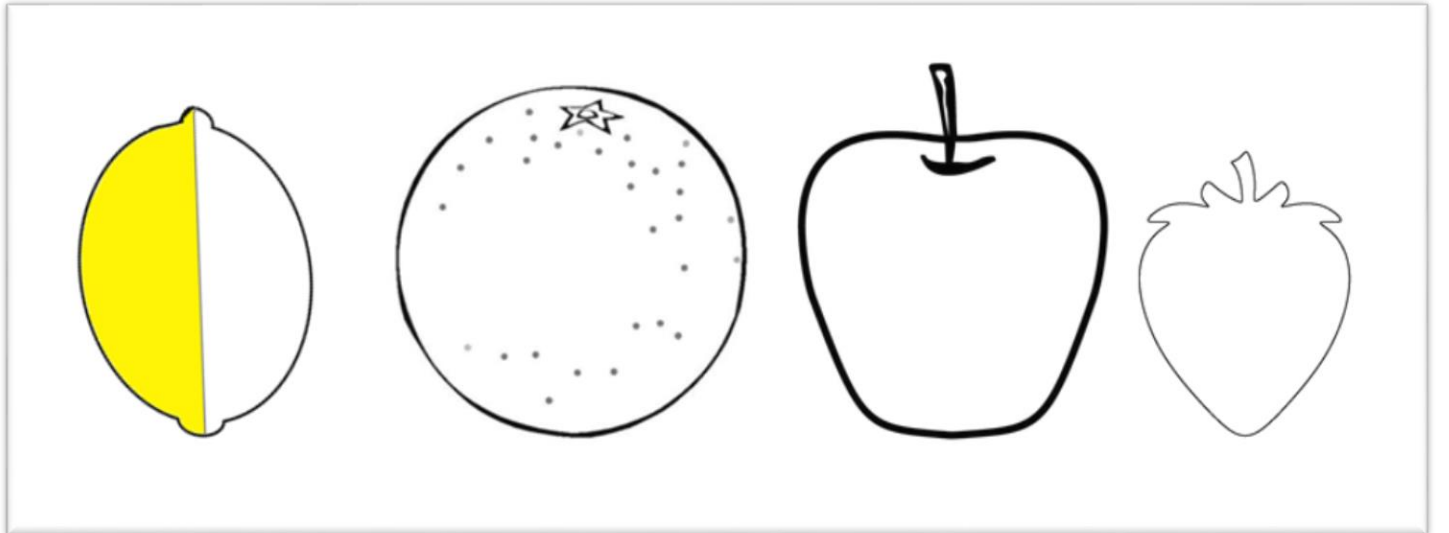
Kesirler-1



Bütün olan varlıkları yarımları ile örnekte olduğu gibi eşleştiriniz.



Meyveleri ortadan iki eş parçaya bölerek yarısını örnekte olduğu gibi boyayınız.




Adı :
Soyadı :
Sınıfı :

MATEMATİK-1

Kesirler-2



Bütün olan varlıkların altına 'Bütün', yarım olan varlıkların altına 'Yarım' yazınız.



Yarımları eşleştirerek bütünler oluşturunuz. Kaç bütün oluşturduğunuzu örnekte olduğu gibi yazınız.

	2 yarım 1 bütün eder.
	... yarım ... bütün eder.
	... yarım ... bütün eder.
	... yarım ... bütün eder.

Adı :
Soyadı :
Sınıfı :

MATEMATİK-1

Kesirler-3







Toplama işlemlerinde verilmeyen toplananları örnekte olduğu gibi bulunuz.

$1 + 1$ 2	$2 +$ 4	$3 +$ 6	$4 +$ 8
$5 +$ 10	$6 +$ 12	$7 +$ 14	$8 +$ 16

Çıkarma işlemlerini örnekte olduğu gibi yapınız.

$20 - 10$ 10	$12 - 6$ 	$10 - 5$ 	$14 - 7$
$8 - 4$ 	$16 - 8$ 	$6 - 3$ 	$18 - 9$

Misketleri sayıp yarısını örnekte olduğu gibi ayırınız. Sonra yan tarafa yazınız.

	4 misketin yarısı 2 miskettir.
	... misketin yarısı ... miskettir.
	... misketin yarısı ... miskettir.
	... misketin yarısı ... miskettir.