
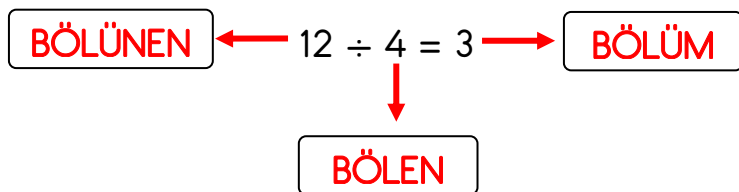
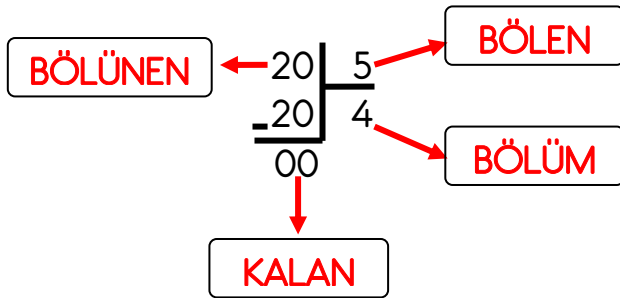


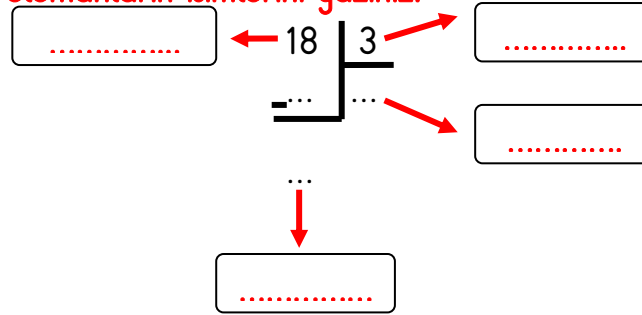
## BÖLME İŞLEMİNİN ELEMANLARI



- Bir bölme işleminde paylaşılacak, bölünecek sayıya **BÖLÜNEN** denir.
- Bir bölme işleminde bölünen sayıyı eşit olarak bölecek sayıya **BÖLEN** denir.
- Bölme işleminin sonucuna **BÖLÜM** denir.
- Bölme işlemi sonucunda bölünen sayıdan artan sayıya **KALAN** denir.



1. Aşağıdaki bölme işlemini yaparak elemanların isimlerini yazınız.



2. Aşağıdaki bölme işlemlerini yapınız.

$$\begin{array}{r} 20 \quad | \quad 2 \\ \underline{\quad} \quad | \quad \dots \\ \quad \quad \quad \end{array}$$

$$\begin{array}{r} 20 \quad | \quad 4 \\ \underline{\quad} \quad | \quad \dots \\ \quad \quad \quad \end{array}$$

$$\begin{array}{r} 20 \quad | \quad 5 \\ \underline{\quad} \quad | \quad \dots \\ \quad \quad \quad \end{array}$$

$$\begin{array}{r} 16 \quad | \quad 2 \\ \underline{\quad} \quad | \quad \dots \\ \quad \quad \quad \end{array}$$

$$\begin{array}{r} 18 \quad | \quad 3 \\ \underline{\quad} \quad | \quad \dots \\ \quad \quad \quad \end{array}$$

$$\begin{array}{r} 15 \quad | \quad 3 \\ \underline{\quad} \quad | \quad \dots \\ \quad \quad \quad \end{array}$$

$$\begin{array}{r} 15 \quad | \quad 5 \\ \underline{\quad} \quad | \quad \dots \\ \quad \quad \quad \end{array}$$

$$\begin{array}{r} 16 \quad | \quad 4 \\ \underline{\quad} \quad | \quad \dots \\ \quad \quad \quad \end{array}$$

$$\begin{array}{r} 12 \quad | \quad 2 \\ \underline{\quad} \quad | \quad \dots \\ \quad \quad \quad \end{array}$$

$$\begin{array}{r} 12 \quad | \quad 4 \\ \underline{\quad} \quad | \quad \dots \\ \quad \quad \quad \end{array}$$

$$\begin{array}{r} 12 \quad | \quad 3 \\ \underline{\quad} \quad | \quad \dots \\ \quad \quad \quad \end{array}$$

$$\begin{array}{r} 10 \quad | \quad 5 \\ \underline{\quad} \quad | \quad \dots \\ \quad \quad \quad \end{array}$$

$$18 \div 2 =$$

$$27 \div 3 =$$

$$28 \div 4 =$$

$$14 \div 2 =$$

$$21 \div 3 =$$

$$36 \div 4 =$$

3. Aşağıdaki problemleri matematik defterinize yazarak çözünüz. Yazarken yazımınızın çok güzel olmasına dikkat edelim.

A) Her gün 5 sayfa kitap okuyan Elanur, 40 sayfa kitabı kaç günde okur?



B) Babam tuttuğu 27 tane alabalığı 3 komşumuza eşit olarak paylaştırdı. Her bir komşumuza kaç balık düşer?



C) Tabaktaki 16 çileği 4 çocuk eşit paylaştı. Her birine kaç çilek düşer?



D) 2A sınıfı 35 kişidir. 5 kişilik kaç küme oluşturulur?



E) Bir bölme işleminde bölen sayı 3, bölünen sayı 18 ise bölüm kaçtır?



F) Torbada 57 tane ceviz vardı. Önce 29 tanesini ben yedim. Kalanları 4 arkadaşşıma paylaştırdım. Her birine kaç ceviz düşer?



G) Bayramda her büyüğüm bana 5 lira verdi. Cüzdanımda 30 lira birikti. Bana kaç kişi para vermiştir?

