

$20 \div 4$

$30 \div 5$

$15 \div 3$

$12 \div 2$

$16 \div 4$

1. Yukarıdaki bölme işlemlerinden sonuçları aynı olanlar eşleştirildiğinde hangi işlem boşta kalır?

A)

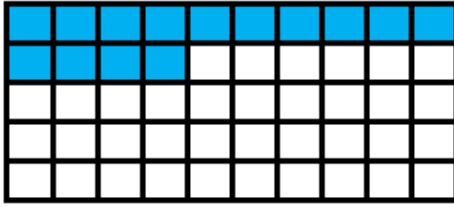
$16 \div 4$

B)

$30 \div 5$

C)

$15 \div 3$



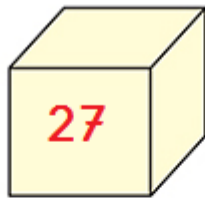
2. Yukarıdaki boyalı kısım çıkan sayıyı göstermektedir.

Yukarıdaki verilen bilgilere göre aşağıdakilerden hangisi yanlıştır?

A) Eksilen sayı 50'dir.

B) Fark 36'dır.

C) Eksilen çıkandan 14 fazladır.



3. Yusuf yukarıdaki küpün yüzlerine 27'den başlayarak geriye doğru 3'er 3'er yazmak istiyor. Yusuf küpün en son yüzüne hangi sayıyı yazar?

A) 15

B) 12

C) 9


4. Asmin teyze evine 2 düzine tabak almıştır. Tabakları 3 rafa eşit sayıda olacak şekilde dizmiştir.

Asmin teyze her rafa kaç tane tabak dizmiştir?

A) 8

B) 9

C) 10



Bizim toplam ayak sayımız 20'dir.

5.

Bizim toplam ayak sayımız 20'dir.

Yukarıdaki hayvanların verdiği bilgiye göre bu çiftlikte toplam kaç tane hayvan vardır?

A) 40


B) 20

C) 15

6.



Aşağıdaki örüntülerden hangisi yukarıdaki örüntüden farklı bir kurala sahiptir?



$24 - 3 = 21$

$21 - 3 = 18$

$18 - 3 = 15$

$15 - 3 = 12$

$12 - 3 = 9$

$9 - 3 = 6$

$6 - 3 = 3$

$3 - 3 = 0$

Yandaki ardışık çıkarma işlemini bölme işlemi şeklinde yazmak istiyorum.

7.

Yukarıdaki bölme işlemiyle ilgili verilen bilgilerden hangisi yanlıştır?

A) Kalan sayı sıfırdır.

B) Bölüm 8'dir.

C) Bölen sayı 24'tür.

8. 2-E sınıfında 10 öğrenci vardır. Sınıf kitaplığı için her öğrenci 2 kitap, öğretmen de 1 düzine kitap getirmiştir.

8.

Yukarıda verilen bilgilere göre 2 -E sınıfının kitaplığı için kaç kitap getirilmiştir?

A) 30

B) 31

C) 32



9. Toplam parmak sayısını ifade eden işlem aşağıdakilerden hangisidir?

- A) 5×6 B) 6×5 C) 5×5

10. Aşağıda verilen ardışık çıkarma işlemlerine göre hangi seçenekteki bölüm diğerlerine göre daha **küçüktür**?

A)


$$9 - 9 = 0$$

B)

$$\begin{array}{r} 20 - 5 = 15 \\ 15 - 5 = 10 \\ 10 - 5 = 5 \\ 5 - 5 = 0 \end{array}$$

C)

$$\begin{array}{r} 6 - 3 = 3 \\ 3 - 3 = 0 \end{array}$$



11.

Yukarıda verilen işlemlere göre $\star + \diamond$ işleminin sonucu kaçtır?

- A) 33 B) 34 C) 35

\times	5	4
3		
4		

12.

Yukarıdaki çarpma tablosu tamamlandığında aşağıdaki sayılardan hangisi **yazılamaz**?

- A) 16 B) 18 C) 20



4 TL

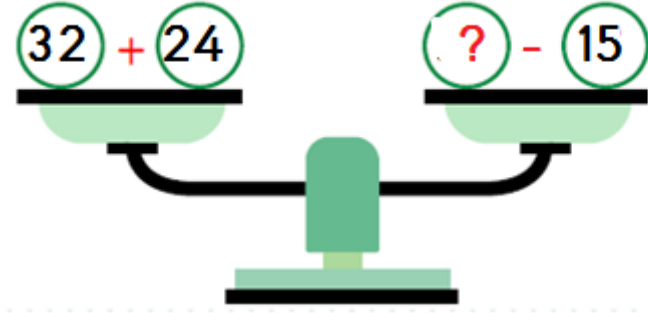


2 TL

13.

Kırtasiyeden 3 defter ve 5 kalem aldım. Satıcıya 50 TL verirsem kaç TL **para üstü** alırım?

- A) 22 TL B) 28 TL C) 18 TL



14.

Yukarıdaki terazinin dengede durabilmesi için **?** olan yere hangi sayı yazılmalıdır?

- A) 71 B) 61 C) 81



Benim yaşım annemin yaşının **çeyreği** kadardır.

15.

Leyla

Annesi 32 yaşında olduğuna göre, Leyla ile annesinin **yaşları toplamı** kaçtır?

- A) 40 B) 48 C) 41



16.

Yukarıdaki kalemlerin sayısı ile ilgili verilen bilgilerden hangisi **yanlıştır**?

- A) Kalemlerin sayısı 2 düzineden 8 eksiktir.
B) Kalemleri 4'erli gruplarsam 4 grup oluşur.
C) Kalemleri 2'şerli gruplarsam 7 grup oluşur.