







1. 1. Aşağıdaki noktalama işaretlerinden hangisi cümle sonuna konulmaz?
A) nokta (.) B) virgül (,) C) soru işareti (?)
2. 2. "Gülperiye kazak almışlar." cümlesindeki hangi sözcükte yazım yanlışı vardır?
A) Gülperiye B) kazak C) almışlar
3. 3. Hangi seçenekteki sözcüklerle anlamlı bir cümle yazabiliriz?
A) okudun - kitabı - mu - Veysel
B) Seher - taşıtlara - kızım
C) bu - Cengiz - parayla
4. 4. Aşağıdaki sözcüklerin yanlarına hece sayıları verilmiştir. Hangisinin hece sayısı yanlış yazılmıştır?
A) ders - bir hece
B) mutfak - iki hece
C) öğrenmek - dört hece
5. 5. Aşağıdaki sözcüklerden hangisinin zıt anlamı yoktur?
A) saat B) yeni C) birinci
6. 6. Aşağıdaki sözcüklerden hangisi sözlükte en önce gelir?
A) sıra B) masa C) tebeşir
7. 7. "Küçük kız ağlayarak eve geldi." cümlesinde aşağıdaki sorulardan hangisine cevap yoktur?
A) Küçük kız ne zaman eve geldi?
B) Küçük kız eve nasıl geldi?
C) Eve kim geldi?
8. 8. "Buket'in kuşunun adı Maviş'tir." cümlesinde "Maviş" sözcüğü nasıl bir isimdir?
A) cins isim B) çoğul isim C) özel isim
9. 9. Hangi gruba 3 tane daha misket katarsak misketlerin sayısı bir düzine olur?
A)  B)  C) 
10. 10. Aşağıdaki harflerden hangisi simetri doğrusu ile eşit olarak ayrılmaz?
A)  B)  C) 


11. 11. Küpün bir yüzünü kâğıda koyup, çevresini çizerseniz hangi şekli elde ederiz?
A) çember B) kare C) üçgen


12. 12. 3onluk 2 birlikten oluşan doğal sayı aşağıdakilerden hangisidir?
A) 5 B) 23 C) 32

13. 13. Hangi şekil, bir bütünün yarısını göstermektedir?
A)  B)  C) 




14. 14. Nur'un 9 TL'si vardı. 3 TL ile kalemlik, 2 TL ile boya aldı. Geriye kaç lirası kaldı?
A) 4 TL B) 5 TL C) 6 TL

15. 15. Hangi geometrik şekil silindire benzer?
A)  B)  C) 


16. 16. 
Yukarıda onluk ve birlikleri gösterilen sayı hangisidir?
A) 38 B) 40 C) 48

17. 17. Hangi saat 07.30'u göstermektedir?
A)  B)  C) 

18. 18. I. Okula zamanında vardım.
II. Kahvaltımı yapıp okul önlüğümü giydim.
III. Derste yapılan etkinliklere katıldım.
Yukarıdaki cümleler hangi seçenekte zaman bakımından doğru sıralanmıştır?
A) 3 - 2 - 1 B) 2 - 1 - 3 C) 1 - 2 - 3

19. 19. Hangisi sınıfta bulunan eşyalardan değildir?
A)  B)  C) 


20. 20. Eşleştirmelerden hangisi yanlıştır?
A) gemi - pilot B) otomobil - şoför C) tren - makinist

21. **21.**  Yandaki şekil ne anlama gelir?
 A) Taşıtlar geçebilir.
 B) Bisiklete binmek yasaktır.
 C) Yayalar geçebilir.

22. **22.** Hangisi **yanlış** bir davranıştır?
 A) Sınıfımız aydınlıkken ışıkları açmak.
 B) Ellerimizi yıkadıktan sonra muslukları kapatmak.
 C) Okulda tuvaletten çıkarken ışığı kapatmak.

23. **23.** Hangisi dini bayramlarımızdandır?
 A) Kurban Bayramı
 B) 30 Ağustos Zafer Bayramı
 C) 29 Ekim Cumhuriyet Bayramı

24. **24.** "Ayşe 29 Ekim şiir okuyacağı için çok heyecanlıdır." cümlesini hangisiyle tamamlamalıyız?
 A) Ulusal Egemenlik ve Çocuk Bayramı'nda
 B) Cumhuriyet Bayramı'nda
 C) Zafer Bayramı'nda

25. **25.**  Resimde vücudumuzun hangi bölümü gösteriliyor?
 A) gövde B) baş C) kollar ve bacaklar