

TÜRKÇE

1) Çaresizlik içinde kaldığımız birçok durum vardır ki başkalarına açılmadığımız için bir çıkış yolu bulamayız. İnsanın tek başına halledemeyeceği zorluklar olabilir. Bu durumda bize yardımcı dokunacak birine danışmak gerekir.

Bu paragrafta anlatılmak istenen aşağıdakilerden hangisidir?

- A) Çaresiz insanlara yardım etmeliyiz.
- B) Derdini söylemeyen derman bulamaz.
- C) Sırrımızı başkalarıyla paylaşmamalıyız.
- D) Her zorlukta başkalarını rahatsız etmemeliyiz.

2) "Genç (I) adama bir (II) şeyler (III) vermek (IV) istemişti."

Cümlesindeki anlam karışıklığını gidermek için hangi kelimedenden sonra virgül konulmalıdır?

- A) I
- B) II
- C) III
- D) IV

3) I. Elif erkenden uyanmış..

II. Beyaz çorabını, pembe çizgili kazağını giymiş.

III. Bir bayram sabahıymış.

IV. Akşamdan hazırladığı bayramlıklarını sandalyenin üstünden almış.

V. Giyinip süslendikten sonra salona gitmiş.

VI. Annesinin ve babasının elini öpmüş.

Yukarıdaki cümlelerle anlamlı bir paragraf oluşturmak istersek sıralama aşağıdakilerden hangisi olur?

- A) I - V - II - IV - III - VI
- B) II - III - I - V - IV - VI
- C) III - I - IV - II - V - VI
- D) V - VI - I - II - IV - III

4) "sönmek" kelimesi aşağıdakilerden hangisinde mecaz anlamda kullanılmamıştır?

- A) Ona duyduğum öfke zamanla söndü.
- B) Çocuğun yüzündeki sivilce sönmüş.
- C) Yaktıkları ateşin sönmesini belediler.
- D) Öfkesi sönmeden ona bir şey söylenmez.

5) Aşağıdaki cümlelerin hangisinde zıt anlamlı kelimeler bir arada kullanılmıştır?

- A) Balonları babam alıyor, ben satıyorum.
- B) Minik elleriyle bize el sallıyordu.
- C) Bana kocaman bir tabak getirdiler.
- D) Bavulları üst kata taşıdık.

6) Aşağıdaki cümlelerin hangisinde "karşılaştırma" söz konusudur?

- A) Beklerse onu da alıp götürelim.
- B) Başından geçen olayları herkese anlattı.
- C) Ahmet sınıfın en başarılı öğrencisidir.
- D) Ağaçlar çiçek açmaya başladı.

7) Aşağıdaki deyimlerden hangisi "yanlış bir söz söylemek" anlamında kullanılmaz?

- A) Çam devirmek
- B) Pot kırmak
- C) Gaf yapmak
- D) Akla karayı seçmek

8) Hangi cümlede büyük harflerin kullanımı ile ilgili bir yazım yanlışı yapılmıştır?

- A) 26 Ağustos 1071 Cuma günü Malazgirt Meydan Savaşı kazanıldı.
- B) 23 Nisan 1920'de TBMM açıldı.
- C) Gazi Mustafa Kemal Bulvarı onarılıyor.
- D) Ankara, 13 ekimde başkent oldu.

9) Mevlana () () Kusursuz dost arayan dostsuz kalır. () demiş ()
Cümlesindeki boşluklara sırasıyla hangi noktalama işaretleri gelmelidir?

- A) (:)(")(')(.)
- B) (.)(')(")(.)
- C) (.)(-)(")(.)
- D) (:)(")(')(.)

10) Aşağıdaki sözcük çiftlerinden hangisi anlam bakımından diğerlerinden farklıdır?

- A) Şahıs - Kişi
- B) Çaba - Gayret
- C) Ağır - Yavaş
- D) Yaşlı - İhtiyar

11) Aşağıdaki cümlelerin hangisinde benzetme yapılmıştır?

- A) Ben, Anadolu'da doğdum.
- B) Ağaçlar gelin gibi süslenmişti.
- C) Kış aylarında solunum sistemi sorunları artar.
- D) Sabaha kadar ders çalıştım.

12) "Yangın-Yamaç-Yasak-Yaprak-Yaşam" kelimelerini alfabetik olarak sıralarsak baştan 3.kelime hangisi olur?

- A) Yamaç
- B) Yangın
- C) Yaprak
- D) Yasak

13) Her şeye karşı tahammülü vardı. Ne olursa olsun kızmazdı. Ama söz konusu kızı olduğu zaman önünde kimse duramazdı. Çünkü onun için dünyadaki en değerli varlık kızıydı. Zaten ne yapıyorsa, ne kazanıyorsa onun içindi. Onu mükemmel bir şekilde yetiştirmek istiyordu.

Bu parçada sözü edilen kişi için aşağıdakilerden hangisi söylenemez?

- A) Fedakar B) Dayanıklı C) Kararlı D) Çıkarıcı

14) Aşağıdaki cümlelerin hangisinde ilk cümle ikinci cümlelerin sebebi durumundadır?





- A) Beni çağıracaktı; ama çağırmadı.
B) Biraz düşünüp konuşmaya başladı.
C) Çocuk uyanırsa ağlar.
D) Gözüm yorulduğu için okuyamadım.

15) Aşağıdaki cümlelerin hangisinde altı çizili kelimenin sestesi yoktur?

- A) Canı yanan eşek, atı geçer.
B) Bir elin nesi var, iki elin sesi var.
C) İnsanın adı çıkacağına canı çıksın.
D) Sağ elin verdiği sol el görmesin.

MATEMATİK

1) Aşağıdaki öğrencilerden hangisi "62 047" sayısını doğru çözümlenmiştir?

- A)  6 on binlik+ 2 binlik + 4 yüzlük + 7 birlik
B)  6 on binlik+ 2 yüzlük + 4 onluk + 7 birlik
C)  6 on binlik+ 2 binlik + 4 onluk + 7 birlik
D)  6 on binlik+ 2 binlik + 7 onluk + 4 birlik

2) Okunuşu "yedi yüz bin dört yüz dokuz" olan doğal sayının rakamla yazılışı aşağıdakilerden hangisidir?

- A) 700 049 B) 704 009
C) 700 409 D) 740 900

3)

1	3	6	10	15	21	?
---	---	---	----	----	----	---

Yukarıdaki örüntünün kuralına göre ? ile belirtilen sayı kaçtır?

- A) 38 B) 32 C) 28 D) 26

4)

91 919	91 019	91 999	91 991
I	II	III	IV

Yukarıdaki sayılar büyükten küçüğe doğru sıralanırsa sıralama aşağıdakilerden hangisi olur?

- A) III - II - I - IV B) III - IV - I - II
C) IV - III - I - II D) I - IV - III - II

5)

2 087	→ 2 100	4 538	→ 4 600
-------	---------	-------	---------

5 854	→ 5 900	3 248	→ 3 200
-------	---------	-------	---------

Yukarıdaki sayılar en yakın yüzlüğe yuvarlatılarak yanlarına yazılmıştır. Hangi sayı yanlış yuvarlanmıştır?

- A) 2 087 B) 4 538 C) 5 854 D) 3 248

6) 1A3 B54 sayısı altı basamaklı bir sayıdır. Sayı değerleri toplamı 20'dir. B sayısının basamak değeri 200 olduğuna göre bu sayı aşağıdakilerden hangisidir?

- A) 123 554 B) 153 254
C) 153 554 D) 123 254

7)

425 - - - +348 ----- 1059

 Yandaki toplama işleminin doğru olabilmesi için boşluğa aşağıdaki sayılardan hangisi gelmelidir?

- A) 270 B) 277
C) 286 D) 290

8) Selçuk ilk ay harçlığından 20 TL biriktiriyor. Sonraki her ay için bir önceki aydan 5 TL fazla para biriktiriyor. 5 ay sonunda kaç TL biriktirmiş olur?

- A) 150 B) 145 C) 140 D) 135

9) Aşağıdaki öğrencilerden hangisi çıkarma işleminde hata yapmıştır?

- A)

1 305
- 297

1 008

 B)

3 001
- 1 279

1 722

 C)

1 004
- 365

639

 D)

1 014
- 386

738

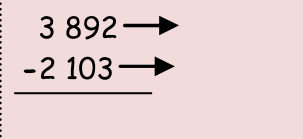
10) Bir çiftçi 950 kg portakalın 479 kg' ını satıyor. 285 kg ile de meyve suyu yapıyor. Geriye kaç kg portakal kalmıştır?

- A) 286 B) 186 C) 176 D) 148

11) "705 382" sayısının çözümlenmiş hali aşağıdaki -

lerden hangisidir?

- A) (7x100 000) (5x10 000) (3x100) (8x10) (2x1)
B) (7x100 000) (5x1 000) (3x10) (8x100) (2x1)
C) (7x100 000) (5x1 000) (3x100) (8x10) (2x1)
D) (7x10 000) (5x1 000) (3x100) (8x10) (2x1)

12)  Yandaki çıkarma işlemi en yakın onluğa yuvarlatılarak tahmini sonuç bulunuyor.

Tahmini sonuç kaçtır?

- A) 1 800 B) 1 700 C) 1 600 D) 1 500

13) 

Yukarıdaki sayılarla oluşturulabilecek en büyük dört basamaklı çift ve en küçük dört basamaklı tek sayı aşağıdakilerden hangisinde doğru verilmiştir?

En büyük çift

En küçük tek

- A) 9861 1689
B) 9861 1698
C) 9816 1689
D) 9816 1698





14) $42 \blacksquare 8 > 42 568$ $32 \blacktriangle 25 < 32 525$

Yukarıdaki eşitlikte ■ ve ▲ ile belirtilen yerlere hangi seçenekte verilenler yazılamaz?

- ▲
A) 7 4
B) 8 3
C) 5 6
D) 9 2

15) "2-5-0-8" rakamlarını birer kez kullanarak 5 000' den büyük en küçük doğal sayıyı yazınız.

Aşağıdaki öğrencilerden hangisi doğru cevap vermiştir?

- A)  5 820 B)  5 082
C)  5 280 D)  5 028

FEN BİLİMLERİ

1) I. Yer kabuğunu oluşturan büyük ve sert kaya kütlelerine denir.

II. Kayaçlar içinde yüz yıllar boyunca kalmış, taşlaşmış canlı kalıntılara denir.

III. Ekonomik değeri olan kayaçlara denir.

Yukarıdaki boşluklara aşağıdaki kavramlar yerleştirilirse hangisi dışta kalır?

- A) kayaç B) ham madde
C) fosil D) maden

2) "Mevsimler nasıl oluşur?" sorusuna verilecek en doğru cevap aşağıdakilerden hangisidir?

- A) Dünya'nın kendi etrafında dönmesi sonucu oluşur.
B) Ay'ın Dünya etrafında dönmesi sonucu oluşur.
C) Dünya'nın Güneş etrafında dönmesi sonucu oluşur.
D) Güneş'in kendi etrafında dönmesi sonucu oluşur.

3) Aşağıdakilerden hangisi Dünya'nın kendi eksenini etrafında dönmesi sonucu oluşmaz?

- A) Gece ve gündüz
B) Bir gün
C) Erzurum'da Güneş'in İzmir'den önce doğması
D) Mevsimlerin oluşumu

4) I. Vücudumuzda düzenleyici olarak görev yapar.

II. Organların düzenli çalışmasını sağlar.

III. Vücudumuzu hastalıklara karşı korur.

Yukarıda özellikleri verilen besin grubu aşağıdakilerden hangisidir?

- A) Karbonhidratlar B) Yağlar
C) Vitaminler D) Proteinler

5) Besin satın alırken aşağıda verilenlerden hangisini yapmak yanlış olur?

- A) Son kullanma tarihine bakmak.
B) Ambalajı hasar görmüş ürünleri satın almak.
C) Ürün üzerinde TSE damgası olup olmadığına bakmak.
D) Gıda ve Hayvancılık Bakanlığı tarafından onayladığına.

6) Sağlıklı beslenmek için aşağıdakilerden hangisini en az tüketmeliyiz?

- A) Karbonhidratlar B) Proteinler
C) Vitaminler D) Yağlar ve tatlılar

7) Aşırı alkol kullanan bir bireyin;

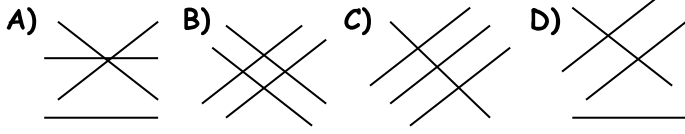
I. Görme II. Algılama III. Konuşma

gibi yeteneklerden hangileri yavaşlar?

- A) Yalnız I B) I ve II C) I, II ve III D) II ve III

Havuç -	- Yağ
Yumurta -	- Karbonhidrat
Tereyağı -	- Vitamin
Ekmek -	- Protein

8) Yukarıda verilenler arasında eşleştirme yapılırsa aşağıdakilerden hangisi gibi olmalıdır?



9) I. Alkol içinde 4000'den fazla zararlı madde vardır.

II. Karaciğer kanserinin bir nedeni de sigara kullanımınıdır.

III. Sigara nefes darlığına neden olur.

IV. Pasif içiciler sigara dumanından zarar görmez.

Sigara ve alkol kullanımı ile yukarıda verilenlerden hangisi doğrudur?

- A) I B) II C) III D) IV

10) Besin maddelerini tüketirken aşağıdakilerden hangilerine dikkat edilmelidir?

I. Doğal olup olmadığına

II. Son kullanma tarihine

III. İçeriğindeki katkı maddelerine

IV. Reklamı olup olmadığına

- A) Yalnız I B) I, II ve III
C) II ve IV D) II, III ve IV

SOSYAL BİLGİLER

1) Türkiye Cumhuriyeti Kimlik Kartı'na göre aşağıdaki sorulardan hangisi cevaplanamaz?

- A) Cinsiyetiniz nedir? B) Babanızın adı nedir?
C) T.C. numaranız nedir? D) Kaçınıcı sınıfta okuyorsun?

2) Kurtuluş Savaşı sırasında Kazım Karabekir önderliğinde Doğu Cephesinde aşağıdaki devletlerden hangisine karşı başarı sağlanmıştır?

- A) İngilizler B) Ermeniler C) Fransızlar D) İtalyanlar

3) Milli kültürümüzün önemli unsurlarından biri olan halk oyunlarımız, bölgeden bölgeye değişiklik gösterir.

Aşağıdaki oyun - bölge eşleştirmelerinden hangisi doğru değildir?

- A) Zeybek - Karadeniz Bölgesi
B) Halay - Doğu Anadolu Bölgesi
C) Misket - İç Anadolu Bölgesi
D) Horon - Karadeniz Bölgesi

4) I. Kına geceleri

II. Havai fişek gösterileri

III. Çeyiz götürme ve serme

IV. Salon düğünleri düzenleme

Düğün kültürümüzde yer alan yukarıdaki uygulamaların hangileri daha eskiye dayanır?

- A) I ve II B) I ve III C) II ve III D) III ve IV

5) Aşağıdaki oyunlardan hangisi geçmişte kemikle oynanmıştır?

- A) Topaç B) Beştaş C) Aşık D) Yedi kiremit

6) Sözlü tarih çalışmasında aşağıdakilerden hangisi diğerlerinden önce yapılmalıdır?

- A) Soruların sorulması
B) Öğrenilen bilgilerin düzenlenmesi
C) Görüşme yapılan kişiye teşekkür edilmesi
D) Sorulacak soruların hazırlanması

7) "İnsanı insan yapan ve birbirinden ayıran özelliklere bireysel farklılık denir." Buna göre aşağıdaki bireysel farklılıklardan hangisi diğerlerinden farklıdır?

- A) Bireyin fiziksel özellikleri
B) Bireyin yeteneği
C) Bireyin duygu ve düşünceleri
D) Bireyin ilgi alanları

8) Milli Mücadele hangi olayla başlamıştır?

- A) Düşmanların İzmir'i işgal etmesiyle
B) Sivas Kongresi'nin yapılmasıyla
C) Erzurum Kongresi'nin yapılmasıyla
D) Mustafa Kemal'in Samsun'a çıkmasıyla.

9) Atatürk, milli birlik ve beraberliği sağlamak amacıyla sırayla nerelerde çalışmalar yapmıştır?

- A) Erzurum - Sivas - Havza - Amasya
B) Amasya - Havza - Erzurum - Sivas
C) Havza - Amasya - Erzurum - Sivas
D) Sivas - Erzurum - Amasya - Havza



10)

Mondros Ateşkes Antlaşması 'ndan sonra yukarıdaki yerler işgal edilmiştir. Buna göre I ile gösterilen yeri hangi devlet işgal etmiştir?

- A) İngilizler B) Fransızlar
C) Ermeniler D) Yunanlılar