




$\frac{6}{13}$ kesrini sayı doğrusunda gösteriniz.



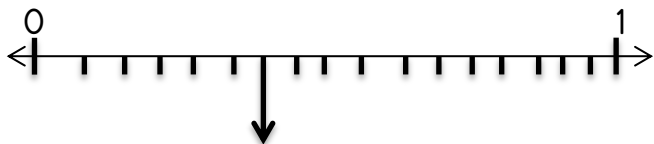
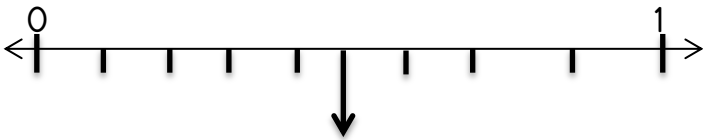
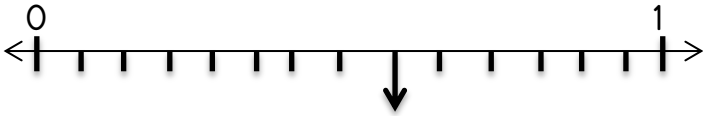
On ikide dört kesrini sayı doğrusunda gösteriniz.



iki bölü on üç kesrini sayı doğrusunda gösteriniz.



Sayı doğrularında işaretlenen kesirleri yazınız.



1. "Öğretmenimiz beni yanına çağırıp şöyle dedi" cümlesinin sonuna aşağıdaki noktalama işaretlerinden hangisi konulmalıdır?

- A) iki nokta B) ünlem işareti
C) nokta D) konuşma çizgisi

2. Aşağıdaki cümlelerden hangisinin sonuna soru işareti konulmaz?

- A) Bu kitapları sana kim verdi
B) Ne güzel resimler bunlar
C) Niçin beni aramadınız
D) Bana neden darıldın

3. "Doktor kıza neden buraya geldiğini sordu." cümlesinde anlam karışıklığını önlemek için virgül hangi kelimedenden sonra konulmalıdır?

- A) doktor B) buraya
C) geldiğini D) neden

4. Aşağıdaki cümlelerden hangisinin sonuna farklı bir noktalama işareti konulmalıdır?

- A) Zeynep'in babası bugün mü dönecekmiş
B) Törende kimler şiir okumak istiyor
C) Nasıl bozduysan öyle onaracaksın
D) Bu işi yapmak istediğine emin misin

5. Aşağıdaki cümlelerden hangisinde kesme işareti yanlış kullanılmıştır?

- A) Dağcılar, Ağrı Dağı'nın zirvesine tırmanmışlar.
B) Tren 10.15'te kalkacak.
C) Bu şekerleri bakkal'dan aldım.
D) Kardeşim İngiltere'de okuyor.

7. Aşağıdaki cümlelerden hangisinin sonuna farklı bir noktalama işareti konulmalıdır?

- A) Okullar kapandı mı hemen yazlığa gideriz
B) Ne zaman bu şiiri okusam duygulanıyorum
C) Dinlenmenin sağlığımız için yararları şunlardır
D) Hangi gün dönecekleri henüz belli değilmiş

1. Hangi seçenekteki teknolojik ürünlerden her ikisi de iletişimde kullanılmaktadır?

- A) Otomobil - Telefon B) Termometre - Enjektör
C) Telgraf - Telefon D) Bilgisayar - Teleskop

2. Aşağıdakilerden hangisi elektriğin icadından önce de kullanılmıştır?

- A) Mum B) Telefon C) Tepegöz D) Buzdolabı

3. Aşağıdaki teknolojik ürünlerden hangileri aynı alanda kullanılır?

- A) Bisiklet ve mikser
B) Steteskop ve röntgen cihazı
C) Otobüs ve buzdolabı
D) Mikroskop ve teleskop

4. Aşağıdaki seçeneklerde teknolojik ürünler ve kullanım alanları eşleştirilmiştir. Hangi seçenekteki eşleştirme yanlıştır?

- A) Tren → Ulaşım
B) Telefon → İletişim
C) Dikiş makinesi → Aydınlatma
D) CD çalar → Eğlence

5. Aşağıdakilerden hangisi sağlık alanında kullanılan teknolojik ürünlerdendir?

- A) Ultrason cihazı
B) Tepegöz
C) Gramafon
D) Ütü

6. Aşağıdaki teknolojik ürünlerden hangisi sağlık alanında kullanılmaktadır?

- A) Teleferik
B) Röntgen
C) Uçak
D) Projeksiyon

7. Aşağıdaki teknoloji ürünlerinden hangisi iletişim alanında kullanılmaz?

- A) Cep telefonu
B) Asansör
C) İnternet
D) Televizyon

1. Aşağıda verilen maddelerden hangisi suyu çeker?

- A) Demir parçası B) Çelik tencere
C) Kâğıt peçete D) Çakıl

I. Şemsiyenin yapıldığı kumaş II. Naylon leğen
III. Kâğıt havlu IV. Cam şişe V. Karton kutu

2. Yukarıda verilenlerden hangileri suyu çekmez?

- A) I, II ve III B) III, IV ve V
C) I, II ve IV D) II, III ve V

3. Aşağıda verilenlerden hangisi suda batar?

- A) İçi hava dolu balon B) Mantar tıpa
C) Çelik bilye D) Plastik köpük

4. Aşağıda verilenlerden hangisi suda yüzer?

- A) Mıknatis B) Tahta
C) Demir çivi D) Çakıl taşı

5. Aşağıda verilenlerden hangisi suyu çekmez?

- A) Defter sayfası B) Cam bardak
C) Sünger D) Kâğıt peçete

6. Aşağıda verilenlerden hangisi suda yüzer?

- A) Kâğıt B) Teneke levha
C) Kum tanesi D) Altın yüzük

7. Aşağıda verilenlerden hangisi suda batar?

- A) Futbol topu
B) Şişe mantarı
C) Ağaçtan kopartılan dal parçası
D) Çelik toplu iğne

I. Pamuk havlu II. Yün kazak
III. Naylon yağmurluk IV. Plastik çizme
V. Altın bilezik

8. Yukarıda verilenlerden hangileri suyu çeker?

- A) I ve II B) II ve III
C) III ve IV D) II, III ve V

9. Mıknatis aşağıdaki maddelerden hangisini çeker?

- A) Tahta parçası B) Gözlük camı
C) Gümüş kolye D) Demir çivi

10. Mıknatis aşağıdaki maddelerden hangisini çekmez?

- A) Çelik tencere
B) Nikel tel
C) Bakır tel
D) Demir ataş