

ADI SOYADI:

İşlemlerle sonuçları eşleştirelim

$28 + 35$

$45 + 39$

$37 + 48$

$18 + 56$

$64 + 17$

$36 + 36$

$44 + 39$

$65 + 26$

$27 + 48$

$18 + 56$

81

84

63

85

74

91

75

72

83

74

Saatlerin okunuşlarını yazalım



Yukarıdaki kardan adam sayısının yarısı kaç tanedir?

A) 12

B) 11

C) 10

16.45

Yukarıdaki saatin okunuşu kaçtır?

A) On altı on beş geçiyor

B) On altıya on beş var

C) Dördü kırk beş geçiyor



Yukarıdaki nesne sayısını 5'e bölersem sonuç kaç olur?

A) 6

B) 8

C) 12

Saat on dokuz çeyrek

Yukarıdaki saat kaçı göstermektedir?

A) 19.45

B) 19.15

C) 18.15

23.30

16.15

21.00

12.30

18.15

9.00

Tabloda öğleden önce ve öğleden sonra gösterim kısmında hangisi doğrudur?

A) mor

B) mavi

C) yeşil

Verilen sayılara göre arttırarak veya azaltarak boşlukları tamamlayalım

$\bullet + 9$



13



$\bullet + 8$



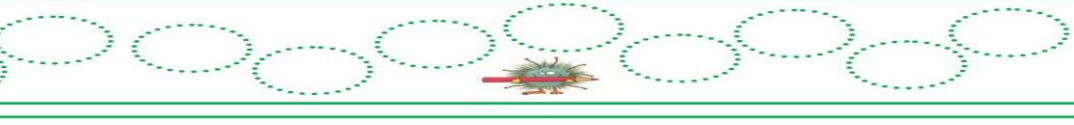
25



$\bullet - 9$



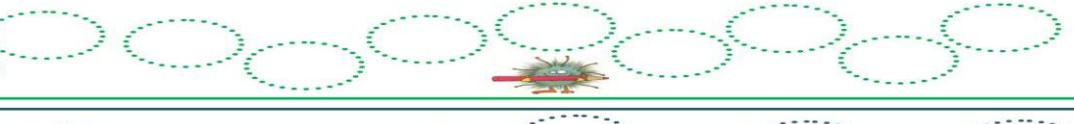
93



$\bullet - 8$



87



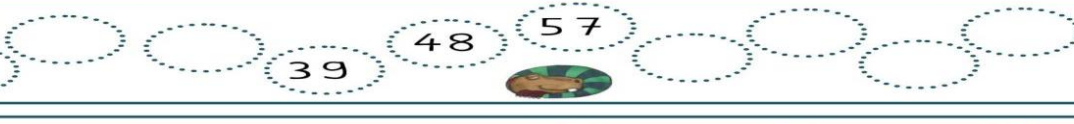
$\bullet + 9$



39

48

57



$\bullet - 9$



42

51

60



$\bullet + 8$



35

43

51



İşlem sonuçlarını verilen renklere göre boyayalım

11 x 5

4 x 5

5 x 6

1 x 5

10 x 5

11 x 5

2 x 5

6 x 5

3 x 5

5 x 9

4 x 5

8 x 5 =

12 x 5

5 x 1

5 x 5

7 x 5

12 x 5

5 x 2

6 x 5

9 x 5

5 x 3

5 x 8

9 x 5

12 x 5

8 x 5

5 x 5 =

1 ile 15 arası kahverengi

16 ile 60 arası mavi