





Aşağıdaki tabloda yer alan hayvanları ve sayılarını inceleyin. Çıkarma işlemlerinde gösterilen hayvanların sayılarını yazıp çıkarma işlemlerini yapalım ve verilen şifreyi çözelim.

									
18	17	16	15	11	9	8	7	6	4



S

	→	<input type="text"/>
	→	<input type="text"/>
<hr/>		
<input type="text"/>		



A

	→	<input type="text"/>
	→	<input type="text"/>
<hr/>		
<input type="text"/>		



E

	→	<input type="text"/>
	→	<input type="text"/>
<hr/>		
<input type="text"/>		



R

	→	<input type="text"/>
	→	<input type="text"/>
<hr/>		
<input type="text"/>		



N

	→	<input type="text"/>
	→	<input type="text"/>
<hr/>		
<input type="text"/>		



F

	→	<input type="text"/>
	→	<input type="text"/>
<hr/>		
<input type="text"/>		



N

	→	<input type="text"/>
	→	<input type="text"/>
<hr/>		
<input type="text"/>		



A

	→	<input type="text"/>
	→	<input type="text"/>
<hr/>		
<input type="text"/>		

i

	→	<input type="text"/>
	→	<input type="text"/>
<hr/>		
<input type="text"/>		

A

	→	<input type="text"/>
	→	<input type="text"/>
<hr/>		
<input type="text"/>		

8	11	10	6	12	14
<input type="text"/>	<input type="text"/>	<input type="text"/>	<input type="text"/>	<input type="text"/>	<input type="text"/>

9	5	7	13
<input type="text"/>	<input type="text"/>	6	6