





ZAMAN ÖLÇÜSÜ PROBLEMLERİ



1. Yusuf, saat 7'de ödev yapmaya başlamıştır. 1 saat sonra ödevlerini bitirmiştir. Yusuf, ödevlerini bitirdiğinde saat kaçtır?





2. Saat 10'da yola çıkan bir otobüs, 2 saat sonra gideceği yere vardığında saat kaç gösterir?





3. Saat 2'de öğle uykusuna yatan Emirhan 3 saat sonra uyandığında saat kaç gösterir?



4. Sabah 9'da okula giden Rabia, eve saat 11'de dönüyor. Rabia okulda kaç saat kalmıştır?



5. Furkan sinemaya girdiğinde saat 3 idi. Furkan sinemadan çıktığında ise saat 6 olmuştu. Furkan sinemada kaç saat kalmıştır ?



6. Annem, pazara çıkarken saat 10'u gösteriyordu. Pazardan döndüğünde saat 12 olmuştu. Annem pazarda ne kadar süre kalmıştır?

