







1. 1. "Akif, dört gecedir erken yatıyor." cümlesinde **tek** heceli olan sözcük kaçınıcı sıradadır?
A) birinci B) ikinci C) dördüncü
2. 2. "... - p - ..." alfabeye göre "p" harfinden bir önceki ve bir sonraki harfler hangileridir?
A) ö - r B) r - t C) n - ş
3. 3. "**tören - hürriyet - bayrak**" kelimelerinin sözlük sıralaması hangi seçenekte doğru olarak verilmiştir?
A) hürriyet - tören - bayrak
B) hürriyet - bayrak - tören
C) bayrak - hürriyet - tören
4. 4. "bin" kelimesi hangi cümlede **farklı** anlamda kullanılmıştır?
A) Bisiklete binmeyi altı yaşında öğrendim.
B) Dolmuşa binmek için acele ediyor.
C) Keşke bin tane misketim olsa.
5. 5. Hangisinin baş harfi her zaman büyük **yazılmaz**?
A) Gül B) Atatürk C) Anıtkabir
6. 6. "Atatürk **doğdu**." cümlesi hangisiyle tamamlanırsa doğru olur?
A) selanik'te B) Selanik'te C) Selanikte
7. 7. Aşağıdaki sözcük ikililerinden hangisi **karşıt (zıt)** anlamlı sözcüklerden oluşmuştur?
A) dost - düşman
B) siyah - kara
C) sonbahar - güz
8. 8. Cümlelerden hangisinin sonuna **nokta (.)** işareti konulmalıdır?
A) Eyvah, elmadan kurt çıktı
B) Törene ne zaman gideceksiniz
C) Bana yardım ettiğin için teşekkür ederim
9. 9. Hangi gruba **2 tane daha** misket katarsak misketlerin sayısı **bir deste** olur?
A)  B)  C) 
10. 10. Evdeki **1 düzine** yumurtanın yarısı ile su böreği yaptık. Geriye kaç yumurta kaldı?
A) 6 yumurta B) 10 yumurta C) 5 yumurta


11. 11. Koninin tabanını kâğıda koyup, çevresini çizerseniz hangi şekli elde ederiz?
A) kare B) çember C) dikdörtgen

12. 12. 1 onluk 3 birlikten oluşan sayı, 2 onluktan ne kadar **azdır**?
A) 5 B) 6 C) 7

13. 13. Hangi şekil, bir bütünün **çeyreğini** göstermektedir?
A)  B)  C) 

14. 14. Her gün 3 TL harcayan bir çocuk **5 günde** kaç lira harcar?
A) 15 TL B) 10 TL C) 8 TL

15. 15. Hangi geometrik şeklin kenar sayısı **en azdır**?
A)  B)  C) 

16. 16. 

Yukarıda onluk ve birlikleri gösterilen sayı hangisidir?
A) 36 B) 50 C) 56

17. 17. Hangisi dikdörtgenler prizmasına benzemektedir?
A)  B)  C) 

18. 18. Okul çantası hazırlanırken doğru araç - gereçlerin unutulmaması için ne yapılabilir?
A) Her gün bütün araç - gereçler çantaya konulabilir.
B) Ders programı odaya asılabilir.
C) Her gün arkadaşlar aranıp onlara sorulabilir.

19. 19. Yasin, teneffüste Hüseyin'in ağladığını gördü ve onun yanına gitti. Hangisi Hüseyin'in ağlama nedeni **olamaz**?
A) Düşmüş ve canı yanmıştır.
B) Çok komik bir kitap okumuştur.
C) En sevdiği kalemını kaybetmiştir.

20. 20. Hangisi nezaket ifadesi **değildir**?
A) Sana ne! B) Lütfen! C) Rica ederim.

21. 21. Yandaki resim için hangisi **yanlıştır**?
- A) Karada hareket eder.
B) Yük taşır.
C) Yolcu taşır.



25. 25. Resimde vücudumuzun hangi bölümü gösteriliyor?
- A) kol ve bacaklar B) baş C) gövde



22. 22. Aşağıdaki ifadelerden hangisi **yanlıştır**?
- A) Bayram hazırlığını sadece öğretmen yapmalıdır.
B) Bayram hazırlığı sınıfça yapılmalıdır.
C) Bayram için sınıflar süslenir.

23. 23. Hangisi milli bayramlarımızdandır?
- A) Cumhuriyet Bayramı
B) Kurban Bayramı
C) Ramazan Bayramı

24. 24. "Atatürk yılında doğdu."
cümlesinde boş bırakılan yere hangisi gelmelidir?
- A) bin dokuz yüz bir
B) bin sekiz yüz seksen bir
C) bin dokuz yüz on dokuz