

SADECE 8 TL

BÜYÜK BOY

FUFUK İLE OKUDUĞUMU ANLIYORUM



2.SINIF
UFUK KOCA
www.ufukkoca.com



FUFUK İLE OKUDUĞUMU ANLIYORUM

www.ufukkoca.com

SİPARİŞ

0 552 252 83 85

Dolu Dolu

64 SAYFA

METİN İLE İLGİLİ
5 N 1 K
DOĞRU YANLIŞ
TEST
SORULARI

TOPLAM
345 soru

EĞLENCELİ
OKUMA ANLAMA
ETKİNLİKLERİ

Fiyat : 8 TL

Tamamı Renkli Sayfalar


20 Adet ve üzeri alımlarda

KARGO ÜCRETSİZ.

20 Adet altında alımlarda

kargo ücreti sadece 3 TL.

Sipariş Whatsap : 0 552 252 83 85





DOĞAL SAYILAR



6. Sayı Örüntüsü ve Doğal Sayıları Karşılaştırma

★ BİLGİ ★

Sayı Örüntüsü : Sayıları belirli bir kurala göre sıralanmasına denir.

Örnek : 3 - 6 - 9 - 12 - 15

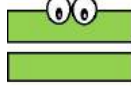
Kural : Sayılar 3 artıyor.

Doğal Sayıları Karşılaştırma

Büyükdür



Eşittir



Küçüktür



www.ufukkoca.com

ETKİNLİK

1 Aşağıda verilen kurala göre sayı örüntüsünü devam ettiriniz.



Kural : Sayılar 2 artıyor.

5 - 7 - 9 - - -

Kural : Sayılar 3 artıyor.

10 - 13 - 16 - - -

Kural : Sayılar 4 azalıyor.

37 - 33 - 29 - - -

Kural : Sayılar 5 azalıyor.

55 - 50 - 45 - - -

ETKİNLİK

2 Aşağıda verilen örüntüye göre kuralı yazınız.



Kural :

36 - 34 - 32 - 30 - 28

Kural :

9 - 13 - 17 - 21 - 25

Kural :

20 - 25 - 30 - 35 - 40

Kural :

28 - 25 - 22 - 19 - 16

3 Aşağıda büyük olan sayının gözlük camını boyayınız.



4 Aşağıda verilen sayıların arasına uygun işareti yazınız. Yanına örnekteki gibi okunuşunu yazınız.



8 > 5



Sekiz büyüktür beşten.

16 21



34 34




30 15




12 21




5 Aşağıda çiçeğin yapraklarında verilen sayıları yanda yazan kurallara göre sıralama yapınız. Sıralama yaparken işaret kullanınız.




Büyükten küçüğe



Büyükten küçüğe



Küçükten büyüğe



Küçükten büyüğe



6 Aşağıda verilen ifadeler doğru ise başındaki kutucuğa "D" harfi, yanlış ise başındaki kutucuğa "Y" harfi yazınız.



Altmış sayısı otuz sayısından küçüktür.



Kırk beş sayısı seksen bir sayısından küçüktür.



Yirmi iki sayısı on dokuz sayısından büyüktür.