

1.

	6 çeşit madeni paramız vardır.
	6 çeşit kâğıt paramız vardır.

Yukarıdaki ifadelerin doğru veya yanlış sıralaması hangi seçenekte doğru verilmiştir?

- A)


D
Y

 B)

Y
D

 C)

D
D



Yukarıdaki eşleştirmeler hangi seçenekte doğru şekilde verilmiştir?

- A)

•	•
•	•
•	•
•	•

 B)

•	•
•	•
•	•
•	•




 C)

•	•
•	•
•	•
•	•

3. Aşağıdakilerden hangisi en büyük kâğıt para ve en küçük madeni paradır?

- A) ₺200 - 1 Kuruş
B) ₺200 - 5 Kuruş
C) ₺1 - 1 Kuruş

4.

En büyük madeni para	• •	
En küçük kâğıt para	• •	
En büyük kâğıt para	• •	

Yukarıdaki paraların eşleştirilmesi hangi seçenekte doğru verilmiştir?

- A)

•	•
•	•
•	•

 B)

•	•
•	•
•	•
•	•

 C)

•	•
•	•
•	•
•	•

- 5.
- | | |
|--|--------------------------------|
| | 10 tane 10 kuruş ₺1 eder. |
| | 2 tane 25 kuruş ₺1 eder. |
| | 10 tane 1 kuruş 10 kuruş eder. |

Yukarıdaki ifadelerin doğru veya yanlış sıralaması hangi seçenekte doğrudur?

- A)

Y
D
Y

 B)

D
Y
Y

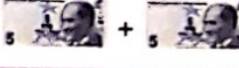




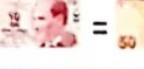






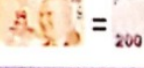

 C)

D
Y
D

6. En büyük madeni paradan beş tanesi en küçük kâğıt para olan eşittir.

Yukarıdaki noktalı yere aşağıdakilerden hangisi gelmelidir?

- A) ₺5 B) ₺10 C) ₺20

- 7.
- | | | | | | | |
|-------------------------------------------------------------------------------------|---|-------------------------------------------------------------------------------------|---|-------------------------------------------------------------------------------------|---|-------------------------------------------------------------------------------------|
|  | + |  | = |  | | |
|  | + |  | + |  | = |  |
|  | + |  | = |  | | |
|  | + |  | + |  | = |  |


Yukarıdaki eşitliklerden hangileri yanlıştır?

- A) B) C)

8. Aşağıdakilerden hangisinin toplamı daha fazladır?

- A)  B)  C) 
- | | | |
|--------------------------------------------------------------------------------------|---------------------------------------------------------------------------------------|---------------------------------------------------------------------------------------|
|  |  |  |
|  |  |  |

9.



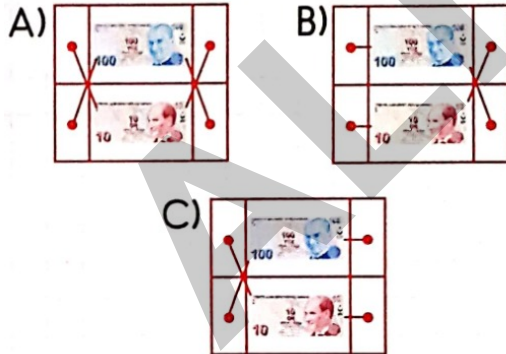
Yukarıdakilerden hangi ok ek-
sik para tutarını gösterir?

A) ↓ B) ↙ C) →

10.

2 tane 50 ₺	•		•	2 tane 5 ₺
10 tane 1 ₺	•		•	5 tane 20 ₺

Yukarıdaki eşleştirmeler hangi
seçenekte doğru verilmiştir?



11. Aşağıdakilerden hangisi 200
Türk Lirası hakkında doğru bir
bilgidir?

- A) Değeri en az olan kâğıt pa-
radır.
B) Beş tane 50 Türk Lirasına
eşittir.
C) Değeri en fazla olan bank-
nottur.

12. Aşağıdakilerden hangisinin de-
ğeri daha fazladır?



13.



Yukarıdaki kâğıt paralardan
kaç tanesi 100 Türk Lirasından
daha azdır?

- A) 6 B) 5 C) 4

14.



Yukarıdaki madeni paralardan kaç tanesi 25 kuruştan daha azdır?

- A) 3 B) 4 C) 5

15.

1	50 Kuruş, 1 ₺'den daha fazladır.
2	10 Kuruş, 1 Kuruştan daha fazladır.
3	1 ₺, 25 Kuruştan daha fazladır.

Yukarıdaki ifadelerin doğru veya yanlış sıralaması hangi seçenekte doğrudur?

- A)

Y
D
Y

 B)

D
Y
Y

 C)

Y
D
D

16.

Aşağıdaki seçeneklerden hangisinde yandakilerin toplamı ortadaki miktarı vermez?



17. Aşağıdaki seçeneklerden hangisindeki para miktarı daha azdır?

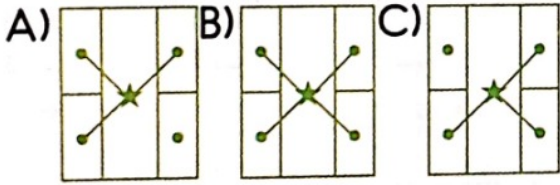



18. 50 Türk Lirasından az olan kaç tane kâğıt para vardır?

- A) 3 B) 4 C) 5

₺200	•	₺100'den	•	₺50
₺5	•	az olanlar	•	₺20
		★		

Yukarıdaki yönergeye göre hangileriyle eşleştirme yapılmalıdır?



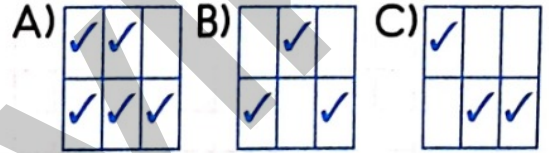
20.  Aşağıdaki seçeneklerden hangisi yukarıdaki miktardan azdır?



21.

Yönergeler	₺50	₺20	₺100
50 ₺'den az olanlar			
20 ₺'den fazla olanlar			

Yukarıdaki tabloya ✓ atarak doldurduğumuzda hangi seçeneğe ulaşırız?



22. 1 Türk Lirası'ndan az olan kaç tane madeni para vardır?
A) 5 B) 4 C) 3



Aşağıdaki seçeneklerden hangisi yukarıdaki miktardan fazladır?



24. Okuduğum Kitap Türü Sayısı

Masal	
Öykü	
Şiir	

Yukarıdaki çetele tablosunda toplam kaç kitap vardır?

- A) 18 B) 20 C) 24

25. 40 metrelik dağ yamacına ekipmanla tırmanan Kenan, 17 metre tırmandıktan sonra biraz dinlenmek için durmuştur. Kenan'ın tırmanacağı kaç metre kalmıştır?

- A) 23 B) 27 C) 33

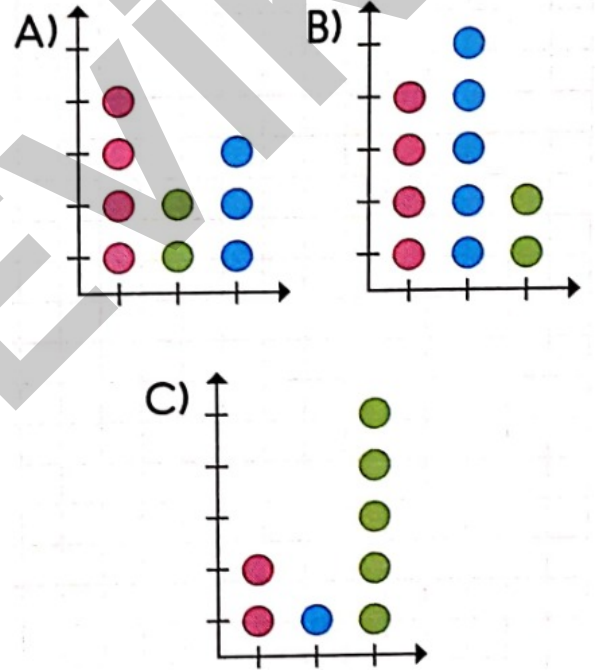
26. Tuğçe'nin kütlesi 37 kilogramdır. Babası, Tuğçe'den 43 kilogram daha fazla olduğuna göre, babasının kütlesi kaç kilogramdır?

- A) 90 B) 80 C) 70

27. Hangi seçenekte kütle ile ilgili kavramlar verilmiştir?

- A) kantar, baskül, terazi
B) tartı, cetvel, kantar
C) cetvel, kulaç, baskül

28. Aşağıdaki grafiklerden hangisinde en sevilen renk mavidir?



29. 23 cm, 16 cm ve 10 cm olan üç şerit kurdelenin uzunluğu toplam kaç cm'dir?

- A) 29 B) 33 C) 49

30. Aşağıdaki sıklık tablolarından hangisinin toplam nesne sayısı en fazladır?

A)

Sevilen Renkler	
Mavi	12
Mor	7
Yeşil	11

B)

Sevilen Çiçekler	
Gül	11
Lale	14
Sümbül	9

C)

Sevilen Meyveler	
Çilek	12
Muz	11
Elma	10

31. Türkân, pazardan 6 kilogram meyve aldı. Meyvelerden 2 kilogram fazla sebze aldığına göre Türkân kaç kg meyve ve sebze almıştır?

A) 6 B) 8 C) 14

32. Boyu 1 metre 29 santimetre olan Can, bir yıl sonra boyunu 1 metre 35 santimetre olarak ölçmüştür. Can kaç santimetre uzamıştır?

A) 6 B) 5 C) 4

33. Cenk akrep ve yelkovanın aynı sayı üzerinde durduğunu görmüştür. Aşağıdakilerden hangileri Cenk'in gördüğü durumdaki zamanlardır?

A) 06.00
12.00

B) 09.15
03.45

C) 12.00
00.00

34. Aşağıdaki ifadelerden hangisi yanlıştır?

A) Metreden küçük uzunlukları santimetre ile ifade ederiz.

B) Kütle birimi metre veya santimetredir.

C) Önce - sonra - geçmiş - gelecek zaman bildiren kavramlardır.

35.

Melisa



35 kg

Hakan



37 kg

Tuğba



33 kg

Yukarıda kütleleri verilenlerden en fazla ve en az kütleye sahip olanların toplamı kaçtır?

A) 68 B) 70 C) 72