

1.ÜNİTE KONULARINDAN OLUŞMAKTADIR.

1. Aşağıdakilerden hangisi ünlü bir harftir?
A. K B. Ü C. H

2. "sarı" sözcüğündeki harflerin alfabetik sıralaması hangi seçenekte doğru verilmiştir?
A. a, r, s, ı B. ı, s, a, r
C. a, ı, r, s

3. Aşağıdakilerden hangisi ince ünlü harflerimizden biridir?
A. e B. a C. o

4. Aşağıdaki sözcüklerden hangisindeki ünlülerin tamamı kalın ünlüdür?
A. paten B. hurma C. hakim

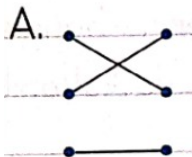
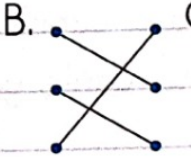

5. Aşağıdaki sözcüklerden hangisi büyük ünlü uyumu kuralına uymaz?
A. kelime B. buharlı C. kalemlik

6. Aşağıdaki sözcüklerden hangisinin hece sayısı diğerlerinden fazladır?
A. Pamukkale B. Gelibolu
C. Balıkesirli

7.

sinirli	•	•	kırmızı
al	•	•	asabi
öğretmen	•	•	muallim

Yukarıdaki sözcükler eş anlamlılarıyla eşleştirildiğinde sonuç hangi seçenekteki gibi olur?

A.  B.  C. 

8. Aşağıdakilerden hangisi "ihtiyar" kelimesinin eş anlamlısıdır?
A. genç B. ikaz C. yaşlı
9. Aşağıdaki cümlelerin hangisinde yer alan bütün sözcükler büyük ünlü uyumu kuralına uyar?
A. Elbiseni nereden aldın?
B. Ben gitar kursuna gidiyorum.
C. Kitap okumayı seviyorum.
10. "öğrencilerim" sözcüğü hangi seçenekte hecelerine doğru ayrılmıştır?
A. öğ-ren-cil-er-im
B. öğ-ren-ci-le-rim
C. öğ-renc-ile-rim
11. Aşağıdaki sözcüklerden hangisi hecelerine yanlış ayrılmıştır?
A. ka-lem-tır-aş
B. bil-gi-sa-yar-cı
C. o-ran-gu-tan
12. Aşağıdaki cümlelerin hangisinde nokta (.) yanlış yerde kullanılmıştır?
A. Dr. Ali Bey bugün izinli.
B. Ablam 7. sınıfa gidiyor.
C. Sen ne zaman geldin.
13. Armut() elma ve muz pazardan aldım.
Yukarıdaki cümlede () işaretinin olduğu yere hangi noktalama işareti gelmelidir?
A. (.) B. (.) C. (?)
14. Aşağıdaki sözcüklerden hangisi satır sonunda yanlış yerden bölünmüştür?
A.ay- B.ta-
dınlık nıdık
C.kar-
anlık

15. 1 ka-lem-lik 2 p-rog-ram-cı
 3 tel-e-viz-yon 4 ha-va-cı-lık
 Yukarıdaki kaç numaralı sözcükler hecelerine doğru ayrılmışlardır?
 A. 1, 2, 4 B. 1, 4
 C. 2, 3

16. Yemeğimizi yedik.
 Annem yemek yaptı.
 Sofrayı hazırladık.
 Hep birlikte sofraya oturduk.
 Yukarıdaki cümleleri, olayların oluş sırasına göre numaralandırdığımızda sonuç hangi seçenekteki gibi olur?
 A. 1 2 4
 3 1 1
 2 3 2
 4 4 3

17. Aşağıdakilerden hangisi alfabemizde diğerlerinden önce gelir?
 A. H B. K C. O



- Yukarıda modellenen sayının okunuşu hangisidir?
 A. üç yüz altmış iki
 B. yüz altmış iki
 C. üç yüz iki

19. $\blacksquare = 6 \text{ yüzlük} + 3 \text{ birlik}$
 Yukarıda verilen doğal sayı aşağıdakilerden hangisidir?
 A. 63 B. 603 C. 630

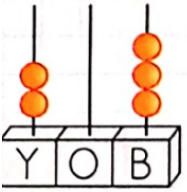
20. "426" sayısını taban bloklarla gösterirken kaç tane yüzlük blok kullanınız?
 A. 4 B. 6 C. 2

21. Okunuşu "üç yüz altı" olan sayının onlar basamağındaki rakam ile birler basamağındaki rakamın toplamı kaçtır?

A. 12 B. 6 C. 18

22. Birler basamağında 3, yüzler basamağında 5 ve onlar basamağında 2 rakamı bulunan sayının okunuşu aşağıdakilerden hangisidir?

A. beş yüz yirmi üç
B. üç yüz elli iki
C. iki yüz elli üç

23.  Abaküste modellenen sayı için verilen bilgilerden hangisi yanlıştır?

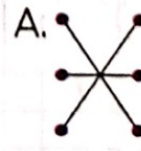
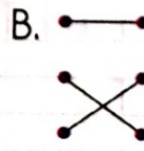
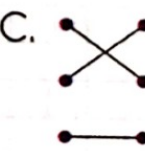
A. "iki yüz üç" diye okunur.
B. 203 şeklinde yazılır.
C. 230 şeklinde yazılır.

24.

420	•
402	•
240	•

iki yüz kırk
dört yüz iki
dört yüz yirmi

Yukarıda verilen sayıları, okunuşları ile eşleştirdiğimizde oklar nasıl görünür?

A.  B.  C. 

25. 80'den başlayarak geriye doğru altışar ritmik sayma yaptığımızda 5. saymada hangi sayıyı söyleriz?
A. 50 B. 44 C. 56

26. 70'ten başlayarak geriye doğru dörder ritmik sayma yaptığımızda 3. saymada hangi sayıyı söyleriz?
A. 62 B. 58 C. 54

901	:	dokuz yüz bir
910	:	dokuz yüz
190	:	yüz doksan

Okunuşu doğru olan sayıların başına "D", yanlış olanlara "Y" yazarsak, kutular nasıl görünür?

A. D	B. Y	C. D
Y	D	D
D	D	Y

28. 420'den başlayarak 500'e kadar onar ritmik saydım. Buna göre kaç tane sayı söyledim? (500 dahil)
- A. 8 B. 9 C. 7

29. 370'ten ileriye doğru 398'e kadar yedişer ritmik sayma yaptım. Buna göre kaç tane sayı söyledim? (398 dahil)
- A. 6 B. 5 C. 4

30. "486" sayısının onlar ve yüzler basamağındaki rakamlar yer değiştirirse yeni sayı kaç olur?
- A. 684 B. 648 C. 846

31.

67	74	81	?	95	?
----	----	----	---	----	---

 Yukarıda verilen ritmik saymada, soru işareti ile gösterilen kutucuklara yazılacak sayıların toplamı kaçtır?
- A. 102 B. 190 C. 88

32. Aşağıdakilerden hangisi Dünya'mızın şekline benzer?

A.



B.



C.



33. Aşağıdaki uygarlıklardan hangisi Dünya'mızı büyük bir timsaha benzetmiştir?

- A. Eski Hintliler B. Mayalar
C. Babiller

34. Dünya'mızın kaçta kaçını kara katmanı oluşturmaktadır?

- A. $\frac{1}{4}$ B. $\frac{2}{3}$ C. $\frac{3}{4}$

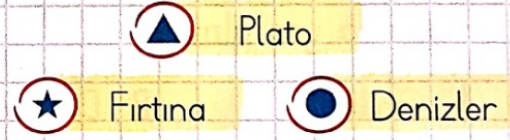
35. Aşağıdaki eşleştirmelerden hangisi doğrudur?

- A. İrmak → Taş küre
B. Yağmur → Hava küre
C. Kayaçlar → Su küre




36. Dünya'nın şeklinin küreye benzediğini düşünerek Dünya haritasını çizen bilim insanı aşağıdakilerden hangisidir?

- A. Aristo B. Galileo
C. İdrisi

37.



Yukarıda sembolleri verilen kavramların tabaka sıralaması hangi seçenekte verilmiştir?

- A.  Kara  Hava  Su
B. Hava Kara Su
C. Su Hava Kara

38. Dünya yüzeyinin en içteki katmanını aşağıdakilerden hangisidir?

- A. Manto B. Çekirdek
C. Su katmanı


39. "Dünya'mızın gözlemlenebilen katmanı vardır." cümlesinde noktalı yere aşağıdakilerden hangisi gelmelidir?

- A. üç B. iki
C. dört

40. Aşağıdakilerden hangisi su katmanında yer almaz?

- A. Göller B. Dağlar
C. Nehirler

41. Dünya'mızın şeklinin aşağıdakilerden hangisine benzediği söylenemez?



42. Rüzgâr, yağmur, fırtına ve kar gibi hava olaylarının gerçekleştiği Dünya katmanımız aşağıdakilerden hangisidir?

- A. Su katmanı B. Manto
C. Hava katmanı

43. Dünya'nın katmanları hangisinde içten dışa doğru sıralanmıştır?


- A. Hava küre, Su küre, Taş küre, Ateş küre, Ağır küre
B. Ağır küre, Su küre, Ateş küre, Hava küre, Taş küre
C. Ağır küre, Ateş küre, Taş küre, Su küre, Hava küre

44. Dünya çevresinde dolanarak Dünya'nın yuvarlak olduğunu ispatlayan bilim insanı aşağıdakilerden hangisidir?

A.



B.



C.



45. Aşağıdaki öğrencilerden hangisi güçlendirmesi gereken bir yönünden bahsetmiştir?

- A. Sude: Satrançta hep arkadaşlarıma yeniliyorum.
 B. Ali: Öğretmenim yaptığım resimleri çok beğeniyor.
 C. Cem: Okulun basketbol takımına seçildim.

46. Aşağıdakilerden hangisi olumlu bir davranış değildir?

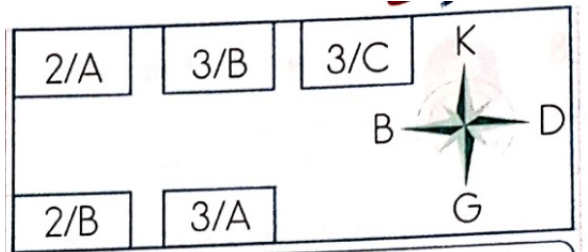
- A. Yere düşen arkadaşımızın kalkmasına yardım etmek.
 B. Kantinde sıranın en önüne geçmeye çalışmak.
 C. Arkadaşlarımızdan bir şey isterken "lütfen" demek.

- 47.

- Aşağıdakilerden hangisi arkadaşımızda olmasını isteyeceğimiz özelliklerden biri değildir?

- A. Kıskançlık B. Güler yüzlülük
 C. Dürüstlük

- 48.



Benim sınıfım 3/A sınıfının kuzeyinde, 2/A sınıfının doğusundadır.

- Eylül'ün sınıfı aşağıdakilerden hangisidir?

- A. 3/C B. 3/B
 C. 2/B

49. Sosyal yardımlaşma ve dayanışmayla ilgili aşağıda verilen bilgilerden hangisi doğrudur?

- A. Yardımlaşma kişisel çıkarlarımız için yapılmalıdır.
 B. Her yardımın mutlaka bir karşılığı olmalıdır.
 C. Yardımlaşma ve dayanışma toplumu güçlendirir.

50. Aşağıdakilerden hangisi okulun topluma katkılarında biri değildir?

- A. Ailelere yönelik seminerler verilmesi.
 B. Müzik dersinde şarkı söylememiz.
 C. Büyüklere yönelik okuma-yazma kurslarının açılması.

51.



İsteklerimizi belirtirken sert olmalıyız.



Okul idaresine isteklerimizi, sözlü ve yazılı olarak bildirebiliriz.



İsteklerimizi belirtirken nezaket kurallarına uymalıyız.

Yukarıdaki öğrencilerden hangisi, istek ve ihtiyaçlarımız ile ilgili yanlış bir bilgi vermiştir?

- A. Sena B. Melih C. Mert

52.

"Birilerine bir şey öğretmekten keyif alırım. Sabırlı ve kitap okumayı, araştırmayı seven biriyim."

Yukarıda özelliklerinden bahseden Arif'in hangi mesleği seçmesi daha uygun olur?

- A. Öğretmen
 B. Doktor
 C. Çiftçi

53. Aşağıdakilerden hangisi okulda yapılan sosyal ve kültürel etkinliklerden biri olamaz?
- A. Futbol turnuvasına katılmak.
B. Resim yarışmasına katılmak.
C. Ailece pikniğe gitmek.

54. Aşağıdaki öğrencilerden hangisinin, okul kaynaklarını özenli kullandığı söylenebilir?
- A. "Ellerimi kurulamak için dört, beş kâğıt havlu kullanırım."
B. "Kışın teneffüste sınıfı havalandırdıktan sonra pencereleri kapatırım."
C. "Tahtaya resim çizmekten çok hoşlanırım."

55. Aşağıdakilerden hangisi sosyal ve kültürel etkinliklere katılmamızın faydalarından biri değildir?
- A. Kendimize güvenimiz artar.
B. Yeteneğimiz olmadığını düşünüp hemen vazgeçeriz.
C. Kendimizi rahat ifade edebiliriz.

56. Aşağıdakilerden hangisini kroki ile gösteremeyiz?
- A. Bir geminin denizdeki yerini
B. Odamızın evdeki yerini
C. Sınıfımızın okuldaki yerini