


SADECE 8 TL

BÜYÜK BOY

FUFUK İLE OKUDUĞUMU ANLIYORUM



2.SINIF
UFUK KOCA
www.ufukkoca.com



FUFUK İLE OKUDUĞUMU ANLIYORUM

www.ufukkoca.com

Dolu Dolu

64 SAYFA

METİN İLE İLGİLİ
5 N 1 K
DOĞRU YANLIŞ
TEST
SORULARI



TOPLAM
345 soru

EĞLENCELİ
OKUMA ANLAMA
ETKİNLİKLERİ

SİPARİŞ

0 552 252 83 85


FİYATTA SON GÜN 30 KASIM



Fiyat : 8 TL

Sipariş Whatsapp :

0 552 252 83 85





PROBLEMLER



II. Toplama ve Çıkarma Problemleri

★ BİLGİ ★

Problem: Ali sabah 32 sayfa kitap okudu. Akşam 16 sayfa kitap okudu. Buna göre Ali bir günde toplam kaç sayfa kitap okudu?

Verilenler

1) Ali'nin sabah 32 sayfa kitap okuduğu

2) Ali'nin akşam 16 sayfa kitap okuduğu verilmiş.

İstenen

Ali'nin bir günde okuduğu toplam sayfa sayısı

Çözüm

$$\begin{array}{r}
 32 \\
 + 16 \\
 \hline
 48
 \end{array}$$

→ Sabah okudu
 → Akşam okudu
 → Ali'nin bir günde okuduğu toplam sayfa sayısı

www.ufukkoca.com

PROBLEM

1 Kümsete 27 tane civcivim var. Babam kümese 25 civciv daha getirdi. Toplam kaç civcivim oldu?



Verilenler

İstenen

Çözüm

PROBLEM

2 Ahmet 65 tane sakızın 36 tanesini sattı. Ahmet'in kaç sakızı kaldı?



Verilenler

İstenen

Çözüm

SORU

1

Otobüste 23 yolcu vardı. İlk durakta 15 kişi bindi. İkinci durakta 34 kişi bindi. Otobüste toplam kaç yolcu oldu?

Çözüm :

SORU

5

Oya sabah 20 simit sattı. Akşam ise sabah sattığı simitten 27 daha fazla sattı. Buna göre Oya toplam kaç simit sattı?

Çözüm :

SORU

2

Aslı 8 yaşındadır. Annesi Aslı'dan 23 yaş büyüktür. Buna göre Aslı'nın annesi kaç yaşındadır?

Çözüm :

SORU

6

En yakın onluğu 40 olan en büyük doğal sayı ile en küçük doğal sayının farkı kaçtır?

Çözüm :

SORU

3

Burak 48 sayfalık kitabın 29 sayfasını okudu. Burak'ın kitabı bitirmesi için kaç sayfa daha okuması gerekir?

Çözüm :

SORU

7

İki basamaklı en büyük doğal sayı ile iki basamaklı en küçük doğal sayının farkı kaçtır?

Çözüm :

SORU

4

Arda'ya annesi 22 TL, babası 25 TL para vermiştir. Arda aldığı bu paraların 20 TL'si ile top almıştır. Geriye kaç parası kalmıştır?


Çözüm :

SORU

8

En yakın onluğu 50 olan en büyük doğal sayı ile en yakın onluğu 30 olan en küçük doğal sayının farkı kaçtır?

Çözüm :



10 TL

Whatsapp Sipariş

0 552 252 83 85

Kargo Ücretsiz

48 DEYİM - 110 SAYFA

14 SAYFA ETKİNLİK SORULARI