


## ÖRÜNTÜ-ROMA RAKAMLARI-TEK ÇİFT SAYILAR

1.  24'ten başlayarak altışar sayarken 4. sırada hangi sayıyı söyleriz? (24 dahil)

A. 36      B. 42      C. 48

2. 

Yukarıdaki ritmik saymada boş bırakılan yere hangi sayı gelmelidir?


A. 29      B. 32      C. 35

3. 8'den başlayıp sekizer ritmik sayarken aşağıdakilerden hangisini söylemeyiz?

A. 40      B. 56      C. 70

4. 9'dan başlayıp (9 dahil) ileriye doğru dokuzar sayarken 3. saymada hangisi sayıyı söyleriz?

A. 18      B. 27      C. 36

5.  14'ten başlayarak yedişer ritmik sayma yapıyorum.

Yukarıdaki öğrenci yaptığı ritmik saymada hangi sayıyı söylemez?

A. 17      B. 14      C. 21

6. 

Yukarıdaki ritmik saymada "?" yerine hangi sayı yazılmalıdır?


A. 18      B. 24      C. 26


7. Dokuzar ritmik saymada art arda söylenen iki sayı arasında ne kadar fark vardır?

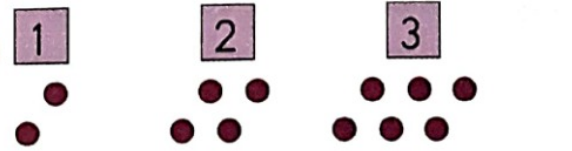



A. 7      B. 8      C. 9

8. Aşağıdaki sayılardan hangisi dokuzarlı ve altışarlı ritmik saymada ortak söylenen bir sayıdır?

A. 36      B. 42      C. 48

9.   
Yukarıdaki örüntüde  $\triangle$  yerine hangi sayı gelmelidir?  
A. 9      B. 11      C. 14

10.   
Yukarıdaki örüntünün kuralı hangi seçenekte doğru verilmiştir?  
A. 5 artıp 3 eksilmiştir.  
B. 5 artıp 2 eksilmiştir.  
C. 5 artıp 4 eksilmiştir.

11.   
Yukarıdaki örüntünün 4. adımı aşağıdakilerden hangisidir?  
A.   
B.   
C. 

12. 5 - 10 - 11 - 16 - 17 - 20 - 23 - 28  
Yukarıdaki örüntüde kuralı bozan sayı hangisidir?  
A. 20      B. 23      C. 28

13. Kural: 4 eksilir, 3 artar.  
Aşağıdaki örüntülerden hangisi yukarıdaki kuralla yapılmıştır?  
A. 23 - 20 - 24 - 21 - 25  
B. 23 - 27 - 24 - 28 - 25  
C. 23 - 19 - 22 - 18 - 21

14. 49 - 40 - 41 - 32 - 33  
Aşağıdaki örüntülerden hangisi yukarıdaki örüntüyle aynı kurala sahiptir?  
A. 63 - 54 - 55 - 46 - 47  
B. 82 - 80 - 71 - 68 - 59  
C. 27 - 36 - 25 - 44 - 43

15. Aşağıdakilerden hangisi tek sayıdır?  
A.   
B.   
C. 


16. Aşağıdakilerden hangisi çift sayıdır?

- A. 441      B. 392      C. 835

17. ▲ 578   ● 690   ■ 123

Yukarıdaki sayılardan hangileri çift sayıdır?

- A. ▲ ●      B. ● ■      C. ▲ ■

18. 

Yukarıdaki rakamları birer kez kullanarak kaç tane üç basamaklı tek sayı oluşturabiliriz?

- A. 2      B. 3      C. 4

19. 

Yukarıdaki rakamları birer kez kullanarak oluşturabileceğimiz en büyük tek sayı kaçtır?

- A. 675      B. 576      C. 765

20.



Yukarıdaki rakamları birer kez kullanarak kaç tane üç basamaklı çift sayı oluşturabiliriz?

- A. 1      B. 2      C. 3

21.



Yukarıdaki rakamları birer kez kullanarak oluşturulabileceğimiz en küçük çift sayı kaçtır?

- A. 438      B. 384      C. 348

22.



Alev'in elindeki sayının Romen rakamları ile yazılışı aşağıdakilerden hangisidir?

- A. XVIII      B. XIX      C. XVIV



23. Aşağıdaki Romen rakamlarıyla yazılmış sayılardan hangisinin okunuşu doğru verilmiştir?

- A. XIV On beş  
 B. XVI On dört  
 C. IX Dokuz

24. Aşağıdaki Romen rakamlarıyla yazılan sayılardan hangisi yanlış yazılmıştır?

- A. VIII B. IX C. XIV

25. Aşağıdaki sayılardan hangisi yanlış Romen rakamıyla eşleştirilmiştir?

- A. XVII 16  
 B. XIX 19  
 C. XIV 14

26.



Hangi öğrencinin gösterdiği Romen rakamı 19 sayısını ifade etmektedir?

- A. B. C.

27.

$$4 + 8 = ?$$

Yukarıdaki toplama işleminin sonucunun Romen rakamı ile ifadesi hangi seçenekte doğru verilmiştir?

- A. XII B. VII C. XV

28.

Aşağıdakilerden hangisi diğerlerinden daha büyük bir sayıyı ifade etmektedir?

- A. XIV B. XV C. XX