

ADI SOYADI:

Toplama işlemlerini tahmin edelim. Gerçek sonuçla tahmini sonuçların farkını bulalım.

GERÇEK	TAHMİN	FARK
$\begin{array}{r} 675 \\ + 239 \\ \hline 914 \end{array}$	$\begin{array}{r} 680 \\ + 240 \\ \hline 920 \end{array}$	$\begin{array}{r} 920 \\ - 914 \\ \hline 6 \end{array}$

GERÇEK	TAHMİN	FARK
$\begin{array}{r} 415 \\ + 377 \\ \hline \end{array}$	$\begin{array}{r} \\ + \\ \hline \end{array}$	$\begin{array}{r} - \\ \hline \end{array}$

GERÇEK	TAHMİN	FARK
$\begin{array}{r} 116 \\ + 364 \\ \hline \end{array}$	$\begin{array}{r} \\ + \\ \hline \end{array}$	$\begin{array}{r} - \\ \hline \end{array}$

GERÇEK	TAHMİN	FARK
$\begin{array}{r} 295 \\ + 237 \\ \hline \end{array}$	$\begin{array}{r} \\ + \\ \hline \end{array}$	$\begin{array}{r} - \\ \hline \end{array}$

GERÇEK	TAHMİN	FARK
$\begin{array}{r} 245 \\ + 647 \\ \hline \end{array}$	$\begin{array}{r} \\ + \\ \hline \end{array}$	$\begin{array}{r} - \\ \hline \end{array}$

MINİ TEST

GERÇEK	TAHMİN	FARK
$\begin{array}{r} 169 \\ + 766 \\ \hline \end{array}$	$\begin{array}{r} + \\ + \\ \hline \end{array}$	$\begin{array}{r} - \\ \hline \end{array}$

Yukarıdaki işlemlerde gerçek ve tahmini işlem sonuçları farkı kaçtır?

- A) 5
B) 10
C) 15

<input type="checkbox"/>	Gerçek sonuç ve tahmini sonuç aynı çıkabilir.
<input type="checkbox"/>	Gerçek sonuç ve tahmini sonuç farklı çıkabilir.
<input type="checkbox"/>	Gerçek sonuç ve tahmini sonuç aynı sonuçtur.

Yukarıdaki ifadelere doğruysa "D" harfi, yanlışsa "Y" harfi yazıldığında ,hangi seçenekteki sıralamaya ulaşırsınız?

- A) DYD B) DDY C) DDY

Aşağıdaki hangi işlemde gerçek ve tahmini sonuç farkı sıfırdır?

- A) $105 + 106$
B) $104 + 106$
C) $112 + 106$

Hangi işlemde tahmini sonuç en büyüktür?

- A) $\begin{array}{r} 527 \\ + 345 \\ \hline \end{array}$ B) $\begin{array}{r} 334 \\ + 596 \\ \hline \end{array}$ C) $\begin{array}{r} 229 \\ + 652 \\ \hline \end{array}$

Toplama işlemlerini yaparken gerçek sonuç ve tahmini sonuçları bulalım. Daha sonra gerçek ve tahmini sonuçların farkını bulup yazalım.

Gerçek Sonuç	Tahmini Sonuç	Fark
$\begin{array}{r} 182 \\ + 200 \\ \hline \end{array}$	$+ \underline{\quad}$	$- \underline{\quad}$

Gerçek Sonuç	Tahmini Sonuç	Fark
$\begin{array}{r} 641 \\ + 208 \\ \hline \end{array}$	$+ \underline{\quad}$	$- \underline{\quad}$

Gerçek Sonuç	Tahmini Sonuç	Fark
$\begin{array}{r} 446 \\ + 431 \\ \hline \end{array}$	$+ \underline{\quad}$	$- \underline{\quad}$

Toplama işlemlerini onluk ve birliklere ayırıp yapalım.

$$\begin{array}{r} 47 \rightarrow 40 + 7 \\ + 32 \rightarrow + 30 + 2 \\ \hline 79 \quad 70 + 9 \end{array}$$

$$\begin{array}{r} 65 \rightarrow \dots\dots\dots \\ + 13 \rightarrow + \dots\dots\dots \\ \hline \dots\dots \quad \dots\dots\dots \end{array}$$

$$\begin{array}{r} 28 \rightarrow \dots\dots\dots \\ + 41 \rightarrow + \dots\dots\dots \\ \hline \dots\dots \quad \dots\dots\dots \end{array}$$

$$\begin{array}{r} 37 \rightarrow \dots\dots\dots \\ + 61 \rightarrow + \dots\dots\dots \\ \hline \dots\dots \quad \dots\dots\dots \end{array}$$

$$\begin{array}{r} 56 \rightarrow \dots\dots\dots \\ + 42 \rightarrow + \dots\dots\dots \\ \hline \dots\dots \quad \dots\dots\dots \end{array}$$

$$\begin{array}{r} 74 \rightarrow \dots\dots\dots \\ + 22 \rightarrow + \dots\dots\dots \\ \hline \dots\dots \quad \dots\dots\dots \end{array}$$

Tablolardaki toplama işlemlerini zihinden yapalım.

+	10	40	20	50	30
40	50				
0					
30					
10					

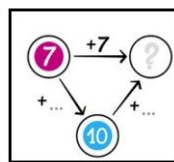
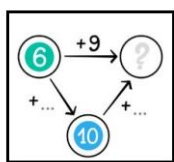
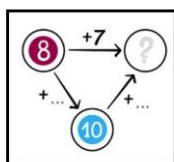
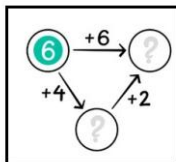
+	90	60	70	40	50
60	150				
80					
50					
90					

Tablolardaki toplama işlemlerini zihinden yapalım.

+	37	93	88	61	72
100	137				
300					
700					
500					

+	120	460	330	250	170
100	220				
400					
200					
600					

" ? " yerlerine gelmesi gereken sayıları yazalım.



□ = 2	○ = ?	△ = ?
□ + ○ = 6	□ + △ + □ = 10	
□ + △ = 8	□ + △ + ○ = 12	
△ + ○ = 10	△ + □ + △ = 14	