

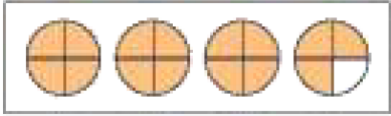


KESİRLER DEĞERLENDİRME TESTİ

1. Aşağıdakilerden hangisi yanlış eşleştirilmiştir?

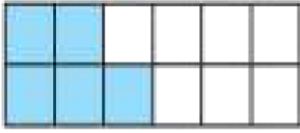
A)  $\frac{6}{5}$

B)  $\frac{10}{6}$

C)  $\frac{15}{4}$

D)  $2\frac{1}{2}$

2. Aşağıdaki kesirlerden hangisi yandaki kesri göstermektedir?

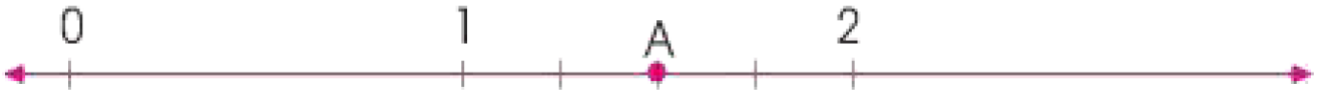


A) $\frac{5}{15}$

B) $\frac{7}{5}$

C) $\frac{12}{5}$

D) $\frac{5}{12}$



3. Aşağıdaki kesirlerden hangisi yukarıdaki sayı doğrusunda gösterilenlerden birisi değildir?

A) $\frac{12}{5}$

B) $2\frac{1}{2}$

C) $1\frac{2}{4}$

D) $\frac{6}{5}$

4. Aşağıdaki karşılaştırmalardan hangisi yanlıştır?

A) $\frac{3}{8} \gg \frac{3}{17}$

B) $\frac{12}{2} \leq \frac{12}{4}$

C) $1\frac{5}{6} \ll 2\frac{1}{6}$

D) $\frac{15}{2} \gg \frac{1}{2}$

5. Aşağıdakilerden hangisi bileşik kesirdir?

A) $\frac{12}{5}$

B) $2\frac{1}{2}$

C) $1\frac{2}{4}$

D) $\frac{3}{5}$

6. Aşağıdakilerden hangisi tam sayılı kesirdir?

A) $\frac{12}{5}$

B) $\frac{7}{5}$

C) $1\frac{2}{4}$

D) $\frac{6}{11}$

7. Aşağıdakilerden hangisi basit kesirdir?

A) $\frac{12}{5}$

B) $\frac{20}{22}$

C) $1\frac{2}{4}$

D) $\frac{6}{5}$



8. Aşağıdaki kesirlerden hangisi yukarıdaki sayı doğrusunda harflerle ifade edilen kesirlerden birisi değildir?


A) $\frac{2}{9}$

B) $\frac{4}{9}$

C) $\frac{5}{9}$

D) $\frac{7}{9}$

9. Yandaki şeklin kesirle gösterilişi hangisidir?



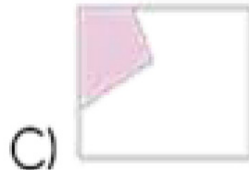

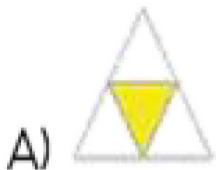
A) $\frac{3}{6}$

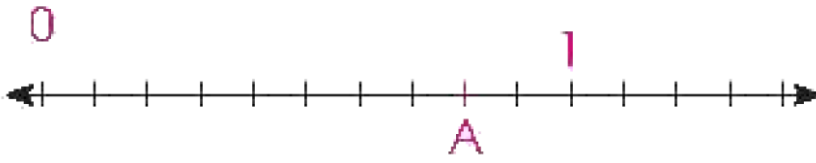
B) $\frac{5}{12}$

C) $\frac{7}{12}$

D) $\frac{4}{6}$

10. Aşağıdaki şekillerden hangisi bir kesri göstermez?





11. Yandaki sayı doğrusunda A noktasına denk gelen kesir aşağıdakilerden hangisidir?

A) $\frac{8}{9}$

B) $\frac{8}{10}$

C) $\frac{5}{8}$

D) $\frac{7}{10}$



12. Yukarıdaki sayı doğrusunda A noktasına gelen kesir aşağıdakilerden hangisidir?

A) $\frac{9}{4}$

B) $\frac{3}{4}$

C) $\frac{4}{3}$

D) $\frac{3}{7}$

13. Aşağıdaki kesirlerden hangisi en büyüktür?

A) $\frac{1}{2}$

B) $\frac{7}{8}$

C) $\frac{4}{5}$

D) $\frac{21}{22}$

14. $\frac{1}{4}$, $\frac{3}{8}$, $\frac{1}{2}$ Kesirlerinin büyükten küçüğe doğru sıralanışı aşağıdakilerden hangisidir?

A) $\frac{1}{4} > \frac{1}{2} > \frac{3}{8}$

C) $\frac{3}{8} > \frac{1}{4} > \frac{1}{2}$

B) $\frac{1}{2} > \frac{3}{8} > \frac{1}{4}$

D) $\frac{1}{4} > \frac{1}{2} > \frac{3}{8}$

15. $\frac{2}{3}$, $1\frac{4}{5}$, $\frac{8}{4}$, $\frac{3}{15}$, $\frac{6}{9}$ Yandaki kesirlerden kaç tanesi basit kesirdir?

A) 1

B) 2

C) 3

D) 4

16. Paydası 8 olan bileşik kesrin payı en az kaç olur?

A) 7

B) 8

C) 9

D) 10

17. $\frac{4}{7}$, $\frac{4}{8}$, $\frac{5}{7}$, $\frac{3}{2}$ Büyükten küçüğe doğru sıralanışı aşağıdakilerden hangisidir?

A) $\frac{4}{8} > \frac{5}{7} > \frac{4}{7} > \frac{3}{2}$

C) $\frac{5}{7} > \frac{3}{2} > \frac{4}{7} > \frac{4}{7}$

B) $\frac{3}{2} > \frac{5}{7} > \frac{4}{7} > \frac{4}{8}$

D) $\frac{4}{7} > \frac{4}{8} > \frac{3}{2} > \frac{5}{8}$

18. Aşağıdakilerden hangisi yanlıştır?

A) $\frac{3}{4} > \frac{1}{2}$

B) $\frac{8}{7} > \frac{5}{6}$

C) $\frac{4}{7} > \frac{1}{8}$

D) $\frac{6}{10} < \frac{1}{5}$

19. “ $\frac{3}{7}$, $\frac{8}{7}$, $\frac{5}{7}$, $\frac{6}{7}$ ” Yandaki kesirlerin doğru sıralanışı aşağıdakilerden hangisidir?

A) $\frac{3}{7} < \frac{5}{7} < \frac{6}{7} < \frac{8}{7}$

B) $\frac{3}{7} < \frac{8}{7} < \frac{5}{7} < \frac{6}{7}$

C) $\frac{6}{7} > \frac{5}{7} > \frac{3}{7} > \frac{8}{7}$

D) $\frac{8}{7} > \frac{5}{7} > \frac{3}{7} > \frac{6}{7}$

20. “ $\frac{12}{15}$, $\frac{12}{10}$, $\frac{12}{9}$, $\frac{12}{7}$ ” Yandaki kesirlerin doğru sıralanışı aşağıdakilerden hangisidir?

A) $\frac{12}{15} < \frac{12}{9} < \frac{12}{10} < \frac{12}{7}$

C) $\frac{12}{7} > \frac{12}{9} > \frac{12}{10} > \frac{12}{15}$

B) $\frac{12}{7} > \frac{12}{15} > \frac{12}{9} > \frac{12}{10}$

D) $\frac{12}{15} < \frac{12}{10} < \frac{12}{7} < \frac{12}{9}$