


 Ayşegül 37 kg	 Ahmet 24 kg	 Baybars 46 kg	 Ayla 19 kg
--	--	---	---



Aşağıdaki soruları yukarıdaki bilgiye göre cevaplayınız.

1

Ayşegül ile Ayla'nın kiloları toplamı kaçtır?

--

4

Ayşegül ile Ayla'nın kiloları farkına 54 eklersek sonuç kaç olur?

--

2

Baybars , Ahmet'ten kaç kilogram daha ağırdır?

--

5

Baybars ile Ahmet'in kilolarının onlar basamağındaki rakamların basamak değerleri toplamı kaçtır?

--

3

Ahmet'e kaç eklenirse Baybars ile Ayşegül'ün kiloları toplamına eşit olur?

--

6

Baybars ile Ayla'nın kiloları farkı 99'dan kaç eksiktir?

--



