










Tabloya göre soruları cevaplayalım. Çetele tablosunu çizelim.

HAVA DURUMU	HAVA DURUMLARINA GÖRE YAĞMURLU GÜNLER
	
	
	
	
	

Bulutlu olan kaç günde yağmur yağmıştır?

.....

Yağmurlu günler toplamı kaçtır?

.....

Rüzgarlı zamanlarda yağın yağmurlu gün sayısının 7 katı kaçtır ?

.....






Güneşli zamanlarda yağmur yağmış mıdır?

.....

Tabloda kaç farklı hava durumu gösterilmiştir?

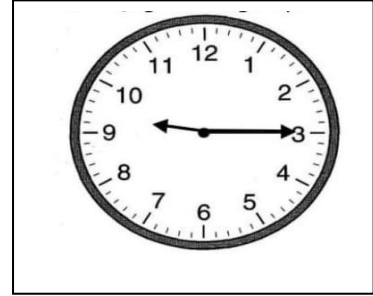
.....

ÇETELE TABLOSU

HAVA DURUMU	HAVA DURUMLARINA GÖRE YAĞMURLU GÜNLER
	
	
	
	
	

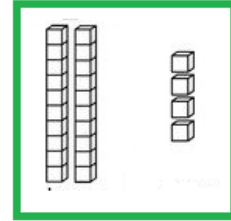
Aynı rakamla yazılabilen iki basamaklı sayılardan 5.sırada olan hangisidir?

- A) 55 B) 66 C) 77



Gösterilen zamanın 15 dakika öncesi kaçtır?

- A) 10.00 B) 9.00 C) 8.00



Yukarıdaki onluk bloklarla gösterilen sayı kendisi ile toplanırsa kaç bulunur?

- A) 44 B) 46 C) 48

9×4	12	5×4
24	6×2	7×4
20	36	8×3

Tablodaki işlem ve sonuçları boyandığında hangisi kalır?

- A) 9×4 B) 7×4 C) 8×3

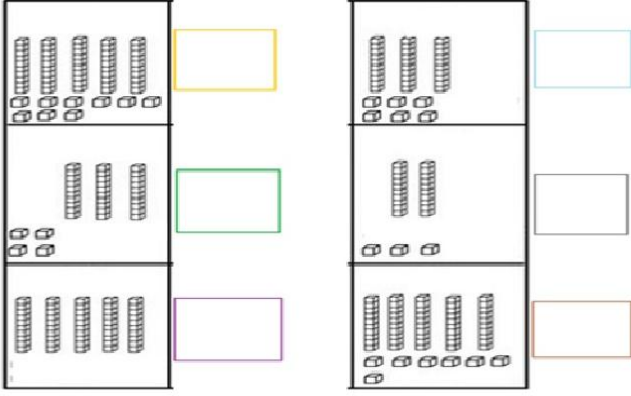
Boşluklara gelecek sayılardan hangisi en küçüktür?

A) $\underline{\quad} + 7 = 15$

B) $18 - \underline{\quad} = 6$

C) $3 + \underline{\quad} = 12$

Onluk bloklarla gösterilen sayıları yazalım.



İşlem sonuçlarını yazalım.

Matematik Tekrar 35

$9 \times 5 =$

$10 \times 4 =$

$39 + 11 + 20 =$

$23 + 29 =$

$25 : 5 =$

$60 - 17 =$

$95 - 58 =$

$57 + 19 =$

$21 : 3 =$

$14 : 2 =$

$71 - 24 =$

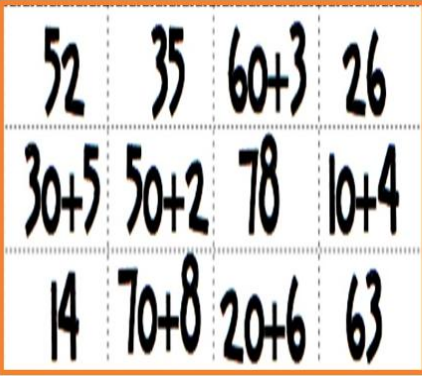
$16 + 26 + 36 =$

$8 \times 2 =$

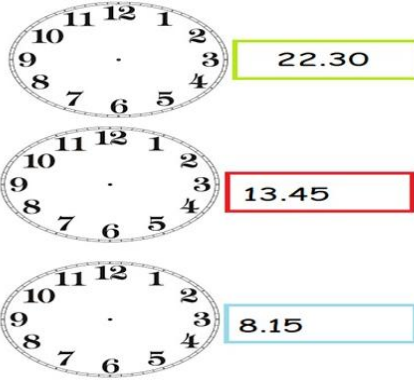
$36 : 4 =$

$55 - 32 =$

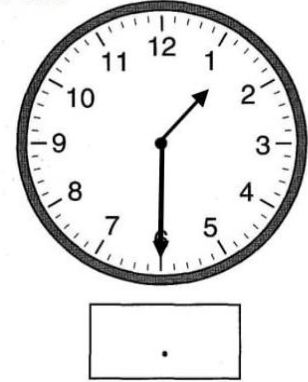
Sayılarla çözümlenişlerini aynı renge boyyalım.



Verilen zamanları gösterelim.



Verilen zamanın 15 dakika sonrasını gösterelim.



Yanda verilen mayıs ayı takvime göre soruları cevaplayalım.

1. Mayıs ayı hangi günle başlayıp ,hangi günle biter?

.....

2. On dokuz Mayıs hangi gündür?

.....

3. Hangi tarihler cuma gününe denk gelir?

.....

4. Hafta sonuna denk gelen tarihler hangileridir?

.....

MAYIS 2020						
Pazartesi	Salı	Çarşamba	Perşembe	Cuma	Cumartesi	Pazar
				1	2	3
4	5	6	7	8	9	10
11	12	13	14	15	16	17
18	19	20	21	22	23	24
25	26	27	28	29	30	31