

# ÖDEV

# SETİ

## 2. Sınıflar



### 9-13 Kasım 2020




# BÜYÜK - KÜÇÜK İLİŞKİSİ



Merhaba çocuklar. Ben Timsah Tomi. Sürekli acıkıyorum. O yüzden nerede fazla yemek (büyük sayı) görürsem hepsini yiyorum.

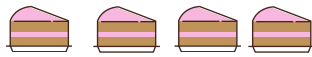


$$3 < 4$$



$$6 > 4$$

Timsah Tomi'nin yemek vakti geldi. Haydi aşağıdaki yemekleri sayalım ve Tomi'nin hangilerini yutacağına karar verip, Tomi'nin ağzını çizelim.





Aşağıdaki sayılardan büyük ve küçük sayıları bulalım.  
Timsah Tomi'nin hangisini yutacağına karar verip,  
ağzını çizelim.

2	<input type="checkbox"/>	8		44	<input type="checkbox"/>	75
72	<input type="checkbox"/>	82		10	<input type="checkbox"/>	10
94	<input type="checkbox"/>	49		67	<input type="checkbox"/>	88
18	<input type="checkbox"/>	12		77	<input type="checkbox"/>	77
80	<input type="checkbox"/>	80		53	<input type="checkbox"/>	35
53	<input type="checkbox"/>	48		33	<input type="checkbox"/>	33
10	<input type="checkbox"/>	1		7	<input type="checkbox"/>	70
36	<input type="checkbox"/>	63		11	<input type="checkbox"/>	11
57	<input type="checkbox"/>	75		56	<input type="checkbox"/>	33
23	<input type="checkbox"/>	32		67	<input type="checkbox"/>	76
99	<input type="checkbox"/>	79		85	<input type="checkbox"/>	84
24	<input type="checkbox"/>	42		13	<input type="checkbox"/>	31



Her sırada verilen sayılardan küçük olan sayıyı yuvarlak içine alınız.

24

42

13

31

56

33

7

70

44

75

72

82



Her sırada verilen sayılardan küçük olan sayıyı yuvarlak içine alınız.

56

33

72

82

24

42

44

75

13

31

7

70



Aşağıda boş bırakılan yerlere az / çok kelimelerinden uygun olanı yazınız.

15, 16'dan.....**azdır**.....

77, 76'dan.....

94, 82'den.....

17, 71'den.....

66, 70'den.....

35, 55'den.....

22, 33'den.....

42, 24'den.....

# SIRALAMA



Her sırada verilen sayıları küçükten büyüğe doğru sıralayınız.

\*2

*Ayşe K. Şahmaran*  
18

7

**2, 7, 18**  
.....

\*22

93

15

.....

\*94

86

72

.....

\*40

52

35

.....

\*70

80

100

.....

\*29

66

41

.....



\*Ahmet 6, babası 42, annesi ise 38 yaşındadır. Yaşlarını küçükten büyüğe doğru sıralayınız.

.....

\*Sevim 29, Berk 28, Ayşe ise 27 yaşındadır. Yaşlarını küçükten büyüğe doğru sıralayınız.

.....

\*Mustafa'nın 55, Umut'un 32, Ömer'in ise 44 bilyesi vardır. Bilyelerini küçükten büyüğe doğru sıralayınız.

.....

\*Mehmet 63, Hüseyin 20, Alya 56 kozalak toplamıştır. Kozalak sayılarını küçükten büyüğe doğru sıralayınız.

.....

\*Rüzgar 15, arkadaşı Ali 18, kardeşi Sıla ise 14 yaşındadır. Yaşlarını küçükten büyüğe doğru sıralayınız.

.....

# HECE BİLGİSİ



*Lysse K. Sarımsaklı*  
\*Konuşurken veya okurken ağızımızın bir hareketiyle çıkan ses ya da ses topluluğuna **hece** denir.

\***Ünlü** harflerin her biri birer **hece**dir.

\*Her hecede **bir ünlü harf** bulunur.

\*\*\*Bir kelimedeki **hece sayısı**, o kelimedeki **ünlü harf sayısına eşittir**.

Örnekler:

İs-tan-bul ↓ ↓ ↓ 1 2 3	→ 3 hece	ka-lo-ri-fer ↓ ↓ ↓ ↓ 1 2 3 4	→ 4 hece
bir ↓ 1	→ 1 hece	sak-sı ↓ ↓ 1 2	→ 2 hece



# ALİŞTİRMA



Ayşe K.  
Sakıncı

1. Haydi gelin aşağıdaki sözcükleri hecelerine ayıralım ve karşılıklarına kaç heceden oluştuklarını yazalım.

okul=...o-kul...2.....

pencere=.....

apartman=.....

üniforuma=.....

kalem=.....

defter=.....

kitap=.....

silgi=.....

çanta=.....

öğretmen=.....

hademe=.....

tebeşir=.....



2. Aşağıdaki kelimeleri hecelerine ayıralım. Hece sayılarına göre kelimeleri ait oldukları evlere yerleştirelim.



mimar=.....

mühendis=.....

aşçı=.....

arkeolog=.....

biyolog=.....

çiftçi=.....

döşemeci=.....

balerin=.....

öğretmen=.....

garson=.....

kasap=.....

işçi=.....

kimyager=.....

veteriner=.....

2 Heceliler Evi

3 Heceliler Evi

4 Heceliler Evi