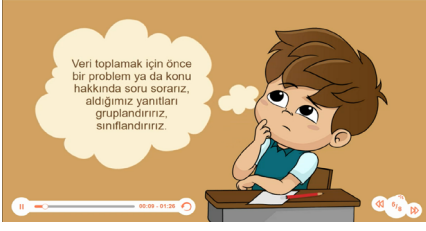




Adı Soyadı :
Numarası :

2. SINIF MATEMATİK VERİ ve DEĞERLENDİRME

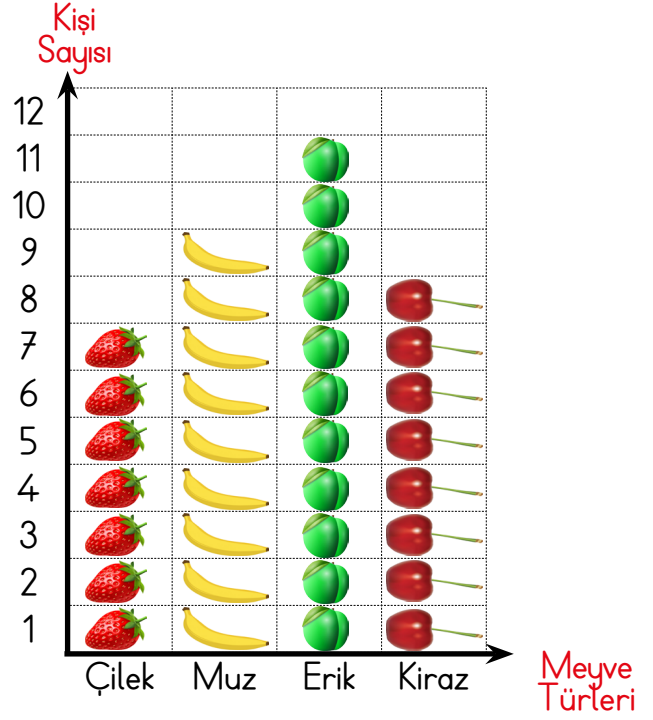
Öncelikle konu anlatımı videosunu
resme tıklayarak izle.



Veri toplamak için önce bir konu hakkında sorar sorar ve aldığımız cevapları gruplandırırız. Sayılarına göre cevapları ağaç şemada, çetele tablosunda, sıklık tablosunda, nesne grafiğinde ve şekil grafiğinde gösterebiliriz.

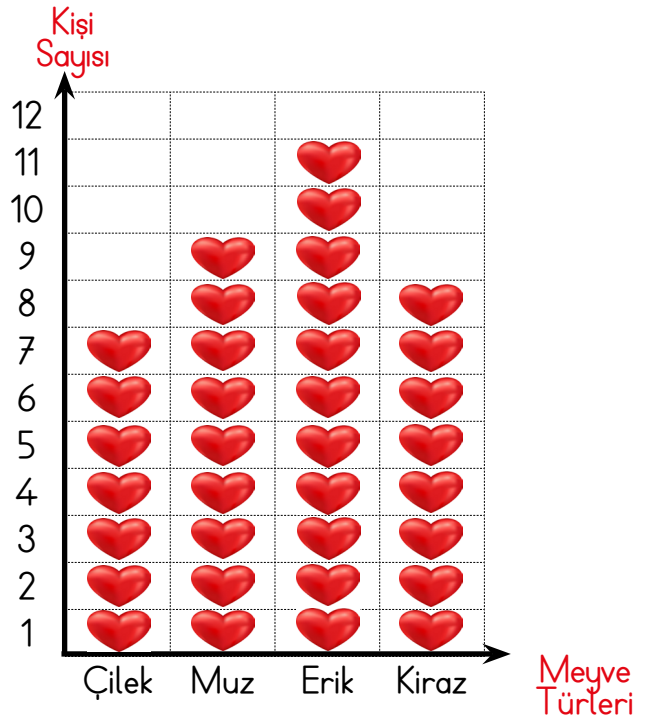
- Her ağaç tablosunun, çetele tablosunun, sıklık tablosunun, nesne grafiğinin ve şekil grafiğinin bir ismi vardır.
- Çetele tablosu, çizgilerle gösterilir. Çetele, çizgi; ikisinin de baş harfi Ç.
- Sıklık tablosu, sayılarla gösterilir. Sıklık, sayı; ikisinin de baş harfi S.
- Her grafiğin altında mutlak o şeklin veya nesnenin kaç taneyi gösterdiği belirtilmek zorundadır.

Elasu 2-A sınıfındaki arkadaşlarına en çok sevdikleri meyveleri sordu. 7 kişi çilek, 9 kişi muz, 11 kişi erik ve 8 kişi kiraz seviyor.



NOT :Her meyve 1 kişiyi göstermektedir.

Sevilen Meyveler Nesne Grafiği



NOT :Her meyve 1 kişiyi göstermektedir.

Sevilen Meyveler Şekil Grafiği

Sevilen Meyveler



Sevilen Meyveler Ağaç Şeması

Meyveler	Kişi Sayısı
Çilek	### II
Muz	### IIII
Erik	### III I
Kiraz	### III

Sevilen Meyveler
Çetele Tablosu

Meyveler	Kişi Sayısı
Çilek	7
Muz	9
Erik	11
Kiraz	8

Sevilen Meyveler
Sıklık Tablosu





Adı Soyadı :
Numarası :

2. SINIF MATEMATİK VERİ ve DEĞERLENDİRME

A) Aşağıda 2-B sınıfındaki öğrencilerin sevdiği oyunlar çetele tablosu ile gösterilmiştir.

Oyun Türleri	Kişi Sayısı
Saklambaç	IIII II
Körebe	IIII IIII
Yakalamaca	IIII
Yerden yüksek	IIII IIII

Çetele tablosuna göre sıklık tablosunu doldurun.

Oyun Türleri	Kişi Sayısı
Saklambaç	
Körebe	
Yakalamaca	
Yerden yüksek	

- 2-B sınıfında en çok sevilen oyunu yazınız.
.....
- 2-B sınıfında en az sevilen oyun hangisidir?
.....
- Körebe yi sevenler, yerden yükseği sevenlerden kaç fazladır?.....
- Yakalamaca oyununu kaç kişi daha sevseydi, saklambaç ile eşit olurdu?
- Bu sınıfta kaç öğrenci vardır?

Hayvan Türleri	Hayvan Sayısı
Kedi	
Köpek	
Balık	
Kuş	

B) Yukarıda bir veterinere gelen hayvanların nesne grafiği görülmektedir. Her nesne 3 hayvanı göstermektedir. Buna göre sıklık tablosunu doldurun.

Hayvan Türleri	Hayvan Sayısı
Kedi	
Köpek	
Balık	
Kuş	

- En az hastalanan hayvan :
- En çok hastalanan hayvan :

Pazartesi	
Salı	
Çarşamba	
Perşembe	
Cuma	

Her şekil 2 bardak

C) Yukarıdaki nesne grafiği Zümra'nın tükettiği süt miktarını göstermektedir. Buna göre soruları cevaplandırınız.

- Zümra en çok günü süt içiyor.
Zümra en az günü süt içiyor.
Zümra ve
günlerinde eşit miktarda süt içiyor.
Zümra, Pazartesi günü bardak süt içmiş.
Zümra, Salı günü bardak süt içmiş.
Zümra, Çarşamba günü bardak süt içmiş.
Zümra, Perşembe günü bardak süt içmiş.
Zümra, Cuma günü bardak süt içmiş.
Zümra, toplam bardak süt içmiş.

Elma	
Çilek	
Kayısı	
Erik	

D) Yukarıdaki nesne grafiği ailemizin ilkbahar mevsiminde tükettiği meyve miktarını göstermektedir. Her nesne 4 kilogramı göstermektedir. Ailemiz en çok meyvesini tüketmiş. Ailemiz en az meyvesini tüketmiş. ve meyveleri eşit miktarda tüketilmiştir.

- Elma kilogram tüketilmiştir.
Çilek kilogram tüketilmiştir.
Kayısı kilogram tüketilmiştir.
Erik kilogram tüketilmiştir.
Erik, çilekten kilogram fazla tüketilmiştir.
Elma, kayısıdan kilogram daha az tüketilmiştir.
Toplam kilogram meyve tüketmişiz.

