



8 Birlik 2 Onluk

Bertu

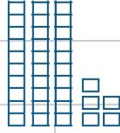
SORU

1 Aşağıdakilerden hangisi Bertu'nun söylediği sayıdır?

- (A) 28 (B) 82 (C) 48

SORU

2 Aşağıdakilerden hangisi görselde gösterilen sayıdır?




- (A) 33 (B) 53 (C) 35

SORU

3 15'den başlayıp ileriye doğru beşer sayan Duru dördüncü saymada hangi sayıyı söyler?

- (A) 25 (B) 30 (C) 35



SORU

4 Yukarıda verilen üçer ritmik sayma treninde K ve L yerine gelecek sayılar hangi seçenekte doğru verilmiştir?

- | | | |
|-----|----------|----------|
| | K | L |
| (A) | 18 | 24 |
| (B) | 18 | 30 |
| (C) | 15 | 24 |



SORU

5 Balonlar üzerindeki sayıların kuralı hangi seçenekte doğru verilmiştir?

- (A) İleriye doğru dörder dörder saymadır.
 (B) Geriye doğru üçer üçer saymadır.
 (C) İleriye doğru ikişer saymadır.



SORU

6 Yukarıda yazılı olan sayılardan kaç tanesi çift doğal sayıdır?

- (A) 2 (B) 3 (C) 4



Birler basamağı 3 olan en büyük iki basamaklı sayı

SORU

7 Ayşe'nin düşündüğü sayı aşağıdakilerden hangisidir?

- (A) 13 (B) 39 (C) 93



SORU

8 Yukarıdaki sayıdan bir önceki ve bir sonraki sayılar hangi seçenekte verilmiştir?

- (A) 44 - 45 (B) 41 - 42 (C) 42 - 44

SORU

9

Aşağıdaki sayılar en yakın onluğa yuvarlanarak eşleştirilmiştir. Hangi seçenekteki eşleme yanlıştır?



- (A) 23 → 20
 (B) 14 → 20
 (C) 85 → 90



SORU

10 Yukarıda verilen sayıların büyükten küçüğe doğru sıralanması aşağıdaki seçeneklerin hangisinde doğru verilmiştir?

- (A) 23 > 38 > 19 > 52 > 65
 (B) 19 > 23 > 38 > 52 > 65
 (C) 65 > 52 > 38 > 23 > 19


SORU Aşağıdakilerden hangisi iki eş parçaya

11 ayrılmaz ?



SORU

12 Aşağıdakilerden hangisi bir düzinedir?



Emre



iki destenin 5 fazlası kadar elmam var.

SORU

13 Aşağıdakilerden hangisi Emre'nin elma sayısıdır?



SORU

14 Aşağıdakilerden sayılardan hangisi en küçüktür?

- A Birler Basamağı: 5
Onlar Basamağı: 8
- B Birler Basamağı: 7
Onlar Basamağı: 3
- C Birler Basamağı: 9
Onlar Basamağı: 2

SORU

15 Hangi seçenekte verilen toplama işleminin sonucu yanlıştır?

- A $38 + 21 = 59$
- B $53 + 35 = 78$
- C $36 + 22 = 58$

SORU Hangi seçenekte verilen toplama işleminin sonucu 75'dir?

16

- A $42+43$ B $34+41$ C $53+12$



8 Onluk + 5 Birlik
- 4 Onluk + 9 Birlik
... Onluk + ... Birlik

SORU Aşağıdakilerden hangisi yukarıdaki çıkarma işleminin sonucudur?

17

- A 4 Onluk + 3 Birlik
- B 3 Onluk + 6 Birlik
- C 5 Onluk + 4 Birlik

SORU 35 ve 42 sayılarının onlar basamağındaki rakamların basamak değerlerinin toplamı kaçtır?

18

- A 30 B 40 C 70



SORU Yukarıdaki bilgiye göre 2-D sınıfında toplam kaç öğrenci var?

19



SORU

20 Yandaki işlemde ★★ yerine hangi sayı gelmelidir?

$$\begin{array}{r} 46 \\ + \quad \star\star \\ \hline 78 \end{array}$$

- A 23 B 36 C 32