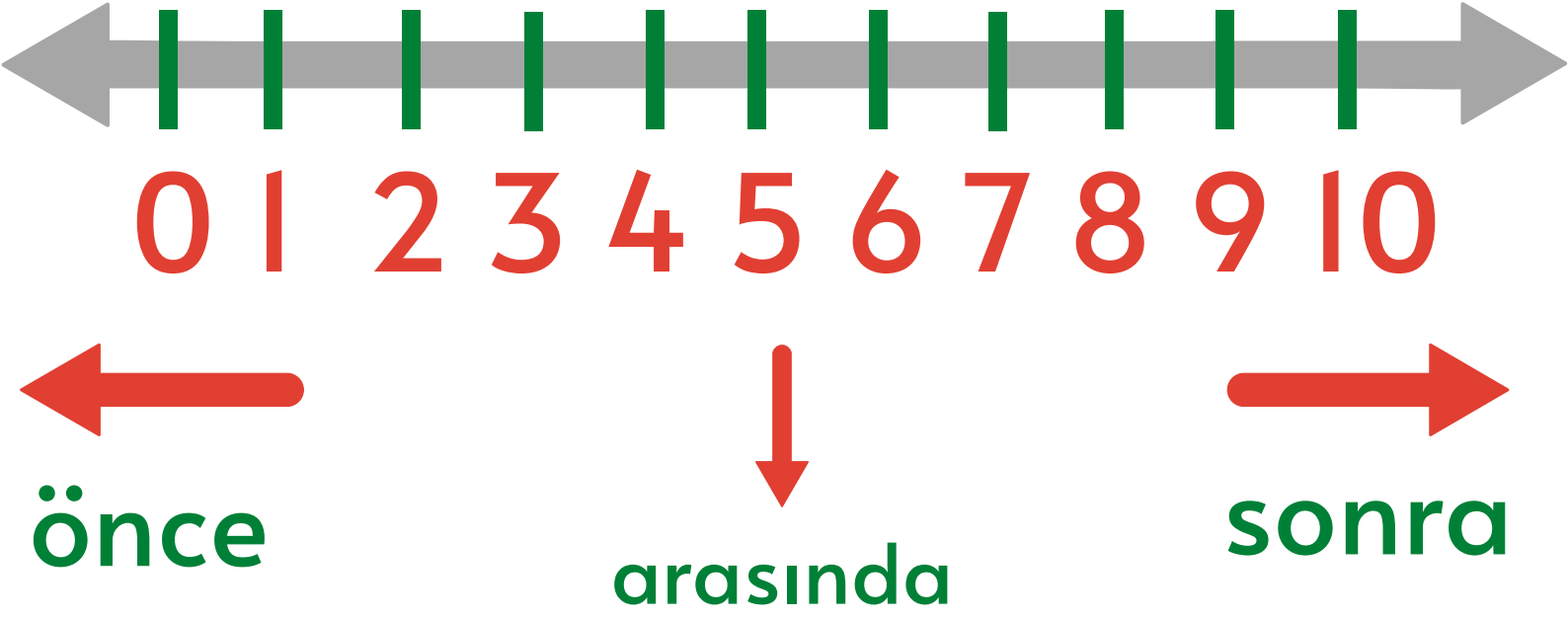




ÖNCE
SONRA
ARASINDA

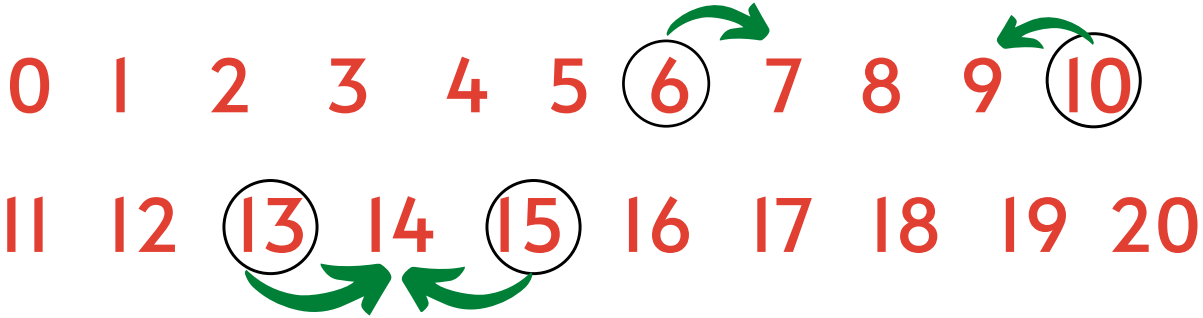


SAYI DOĞRUSU



Sayı doğrusunun **sağ** tarafı **sonraki** sayıyı, **sol** tarafı **önceki** sayıyı, **iki sayının arasında** kalan sayı ise **arasındaki** sayıyı bize gösterir.

Hadi gelin çocuklar aşağıdaki örnekleri birlikte inceleyelim. 😊



Örnekler;

6'dan sonra gelen sayı kaçtır?

*sonra dediği için → sağ tarafa ilerliyoruz.

6 7 cevap: 7

10'dan önce gelen sayı kaçtır?

*önce dediği için ← sol tarafa gidiyoruz.

9 10 cevap: 9

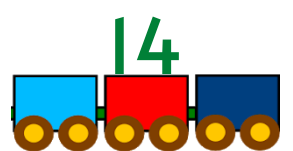










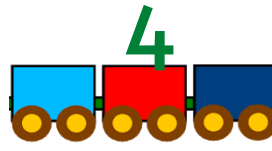






13 ile 15 sayıları arasındaki sayı kaçtır?

*13 ile 15 sayılarının arasına bakıyoruz.

13 14 15 cevap: 14

Şimdi sıra sizde çocuklar. Aşağıdaki soruları kendiniz cevaplıyorsunuz. Soruları yapabilmek için 0'dan 20'ye kadar olan rakamları siz de benim gibi yazın ki soruları daha kolay çözebilesiniz. 😊

Tren vagonlarında verilen sayılardan **bir önce** ve **bir sonra** gelen sayıları yazın.



Otobüs camlarında verilen sayıların **arasındaki** sayıları yazın.

