


## TOPLAMA ÇIKARMA PROBLEMLERİ



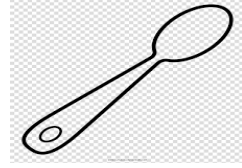
Dedemin 25 odunu var. 5'ini sobada yaktı. Geriye kaç odunu kaldı?

**A) 18**

**B) 20**

**C) 22**

62 tane kaşığım var. İçinden 18 tanesini aldım.




Geriye kaç tane kaşığım kaldı?

**A) 44**

**B) 49**

**C) 40**



Kalemlüğimde 35 tane boyama kalemim var. Boyama yapmak için 12 tanesini kalemlüğimden çıkarttım. Kalemlüğimde kaç boyama kalemim kaldı?

**A) 24**

**B) 23**

**C) 22**



Sevgi'nin 60 tane oyuncak bebeği vardı. Babası ona 12 tane daha oyuncak bebek aldı. Sevgi'nin toplamda kaç oyuncak bebeği oldu?

**A) 71**

**B) 72**

**C) 73**



Evimizin salonunda 23 koltuk var. Eskiciye 12 koltuđu verdik. Salonda geriye ka koltuk kaldı?

**A) 10**

**B) 11**

**C) 12**

35 tane kolyemin 14 tanesi koptu. Geriye ka kolyem kaldı?

**A)21**

**B) 20**

**C) 23**

**66-23:**

ıkarma iřleminin sonucu katır?

**A) 42**


**B) 41**

**C) 43**



Fare 15 tane peynirin 8 tanesini yedi. Geriye kaç peynir kaldı?  
**İşleminin yapımı aşağıdakilerden hangisidir?**

- A)  $15+8$
- B)  $15-8$
- C)  $15:8$



Tavşana 26 tane yemesi için havuç verdim. Sonra 12 tane daha havuç verdim. Tavşana toplamda kaç havuç verdim?

**İşleminin yapımı aşağıdakilerden hangisidir?**

- A)  $26-12$
- B)  $26+12$
- C)  $26:12$