

Adı : .....

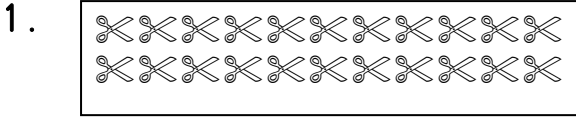
Soyadı: .....

## MATEMATİK

Doğru Sayısı : .....



Yanlış sayısı: .....

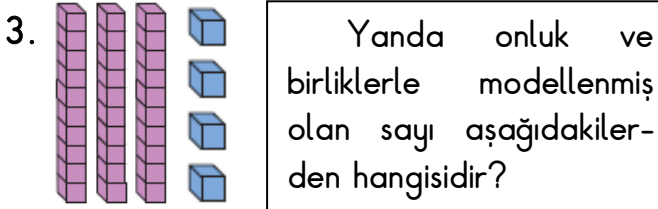


Yukarıdaki makasların sayısı kaçtır ?

- A) 21      B) 22      C) 23

2. Aşağıdakilerde hangisi "yetmiş altı" sayısının rakamlarla yazılışıdır ?

- A) 76      B) 67      C) 75



- A) 43      B) 44      C) 34

4. Aşağıdakilerden hangisi iki basamaklı en küçük sayıdır ?

- A) 9      B) 10      C) 0

5. "83" Sayısının okunuşu aşağıdakilerden hangisidir ?

- A) Seksen iki  
B) Seksen üç  
C) Otuz sekiz

6. 

K	4 onluk + 3 birlik = 43
L	2 onluk + 9 birlik = 29
M	7 onluk + 0 birlik = 77

Yukarıda onluk ve birlikleri verilmiş sayılardan hangisi yanlış yazılmıştır ?


- A) K      B) L      C) M

7. İki basamaklı en büyük sayı aşağıdakilerden hangidir ?

- A) 90      B) 10      C) 99

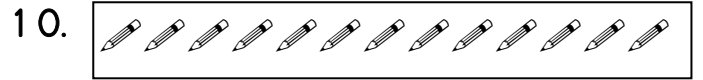
8. 2 Deste kalemde kaç tane kalem vardır?

- A) 21      B) 20      C) 24



Yukarıdaki çiçeklere kaç çiçek eklersek bir düzine olur ?

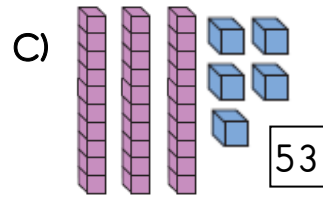
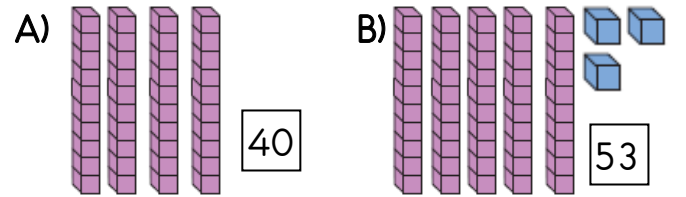
- A) 4      B) 2      C) 5



Yukarıdaki kalemler bir desteden kaç tane fazladır ?

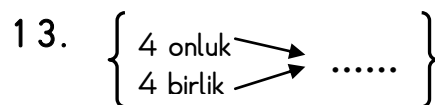
- A) 4      B) 2      C) 3

11. Aşağıda bloklarla modellenen sayılardan hangisi yanlış yazılmıştır ?



12. Aşağıdaki sayılardan hangisi onluk ve birliklerine yanlış ayrılmıştır ?

- A) 69 = 9 onluk + 6 birlik  
B) 30 = 3 onluk + 0 birlik  
C) 51 = 5 onluk + 1 birlik



Yukarıda noktalı yere yazılacak sayı aşağıdakilerden hangisi olmalıdır ?

- A) 40      B) 44      C) 4