

Öğrencinin Adı- Soyadı:

KESİRLER DEĞERLENDİRME TESTİ



1. Aşağıdakilerden hangisi yarımı gösterir?

A.



B.



C.



2. Bir bütünde kaç yarım vardır?

A.1

B. 2

C. 3

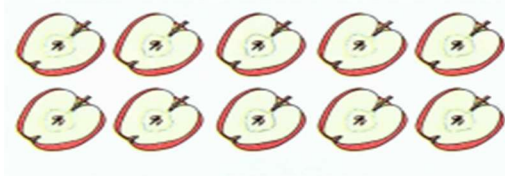
3. 2 yarım kaç bütün eder?

A.1

B. 2

C. 3


4. 10 yarım kaç bütün eder?



A. 10

B. 5

C. 20



5. Yukarıdaki 6 bütün elma kaç yarım elma eder?

A.6

B. 10

C. 12

6. 3 bütün ile 4 yarım limon kaç limon eder?




A. 5

B. 7

C. 10

7. 10 elmanın yarısı kaç elmadır?



A. 5


B. 20

C. 10

8. Aşağıda verilen şekil ve ifadelere bakarak boşlukları dolduralım.



4 bütün ekmek.....yarım ekmek eder.



5 bütün domatesyarım domates eder.

9. Tabaktaki portakallar için ne söyleyebiliriz?



A. 1 tam, 4 yarım portakal

B. 2 tam, 4 bütün portakal

C. 2 tam, 4 yarım portakal

10. 2 yarım karpuz ile 4 yarım karpuz toplam kaç karpuz eder? Çizerek cevabı bulalım.

A. 6

B. 2

C. 3



11. Yukarıdaki çilekler için söylenenlerden hangisi yanlıştır?

A. 14 yarım çilek eder.

B. 7 yarım çilek eder.

C. Her bir çilekte 2 yarım çilek vardır.