











PARALARIMIZ

1. Aşağıdaki paraları değerleri ile eşleştiriniz.

	1 kr.	5 kr.	
	10 kr.	25 kr.	
	50 kr.	1 TL	
	5 TL	10 TL	
	20 TL	50 TL	

2. 10 Türk lirasının altındaki kutucuğu boyayınız.

		
<input type="radio"/>	<input type="radio"/>	<input type="radio"/>

3. Kağıt paraların arka yüzleri ile ön yüzlerini eşleştiriniz.

4.



Resimdeki oyuncak paranın fiyatına karşılık gelecek kadar parayı, aşağıda verilen paralar arasından seçip işaretleyiniz.



5. Selin'in 30 Türk lirası var. Selin parası ile aşağıdaki oyuncaklardan hangisini alamaz?



20₺



18₺

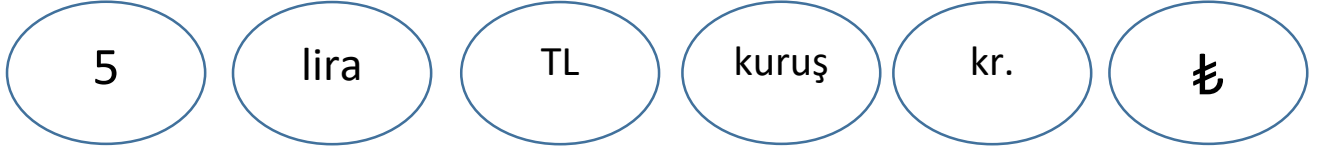


40₺

6. Aşağıda verilen madeni paraların adını yazınız.



7.Aşağıdaki boşlukları uygun kelimelerle dolduralım.



- ➔ Değeri küçük olan paralarımızı, değeri büyük olan paralarımızı ile ifade ederiz.
- ➔ Kuruşu, Türk lirasınıolarak kısaltırız.₺
- ➔ Türk lirasını sembolüyle gösteririz.
- ➔ Kâğıt paralardan değeri en küçük olan Türk lirasıdır.

8.Kumbaramda kaç ₺ biriktiğini tahtaya yazar mısın?

