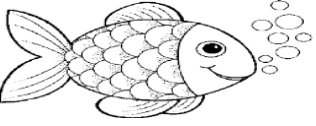
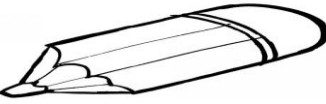



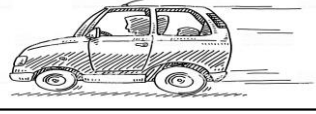









 ahmetinceogretmen

	hecelere ayırılım	ilk heceden yeni kelime	ilk heceden yeni kelime
	ba - lık	balon	barış
	.....	.....	.....
	.....	.....	.....
	.....	.....	.....
	.....	.....	.....
	.....	.....	.....
	.....	.....	.....
	.....	.....	.....
	.....	.....	.....
	.....	.....	.....

# BENİM ADIM PROBLEMEN

Sizler için hazırladığım bu problemleri defterine yazıp  
cevaplamaya başlamalısın...  
Her doğru cevabında sana bir yıldız vereceğim.



**SORU 1** - En küçük iki basamaklı sayıyı 2'ye  
bölürsek bölüm kaç çıkar?

**SORU 2** - Ayhan 12 yaşındadır. Babası  
Ayhan'dan 26 yaş büyüktür. İkisinin yaşları  
toplamı kaçtır?

**SORU 3** - İki düzine elmayı dört çocuğa eşit  
olarak paylaşmak isteyen Canan her birine  
kaç tane elma vermelidir?

**SORU 4** - Bölünen 32, bölen 4 ise bölüm  
kaçtır?

**SORU 5** - 8 tavuğun ayaklarının ve  
kafalarının toplamı kaçtır?

**SORU 6** - Bir fincan 5 yemek kaşığı ile  
doluyorsa üç fincan kaç yemek kaşığı ile  
dolar?

**SORU 7** - Kukuli 45 sayfalık hikayeyi 5  
günde bitirmek istiyor. Buna göre günde kaç  
sayfa okuması gerekir.

**SORU 8** - Emine'nin 44 lirası var. Tanesi 3  
lira olan balonlardan 5 tane alırsa geriye ne  
kadar parası kalır?



# KAFAMDA GARİP SORULAR



ahmetinceogretmen

**Sence en iyi arabayı hangi hayvan kullanabilir?**

.....

.....

.....

**Dünyada en çok neyi değiştirmek isterdin?**

.....

.....

.....

**Ayakkabımız olmasaydı dışarıda nasıl yürüyebilirdik?**

.....

.....

.....



**Uzaylı bir hayvanın olsaydı nasıl olurdu?**