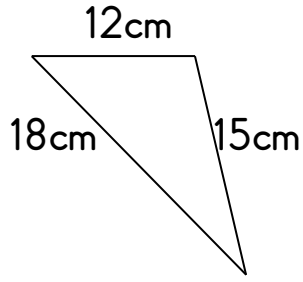
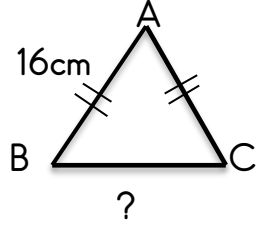


## Çevre - 4

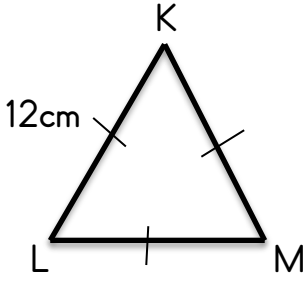
1 Yandaki üçgenin çevresi kaç cm'dir?



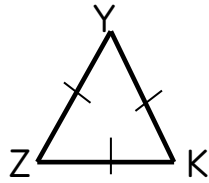
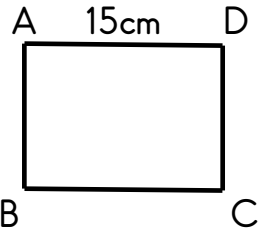
2 Çevresi 42cm olan yandaki ikiz kenar üçgenin verilmeyen kenar uzunluğu kaç cm'dir?



3 Aşağıdaki eşkenar üçgenin çevresi kaç cm'dir?



4 ABCD karesi ile YZK eşkenar üçgenin çevre uzunlukları birbirine eşittir.




Buna göre üçgenin bir kenarının uzunluğu kaç cm'dir?

5 Kısa kenarı 14 cm , uzun kenarı 18 cm olan dikdörtgenin çevresi kaç cm'dir?

6 Kısa kenar uzunluğu 14 cm olan bir dikdörtgenin çevresi 78 cm olduğuna göre uzun kenar uzunluğu kaç cm'dir?

7 Çevresi 9 m olan dikdörtgen şeklindeki halının uzun kenarı 250 cm'dir. Bu halının kısa kenar uzunluğu kaç cm'dir?

8



Yukardaki dikdörtgen 4 eş kareden oluşmuştur. Karenin birinin çevresi 32 cm olduğuna göre şeklin çevresi kaç cm'dir?