

SADECE 8 TL

BÜYÜK BOY

FUFUK İLE OKUDUĞUMU ANLIYORUM



2.SINIF
UFUK KOCA
www.ufukkoca.com



FUFUK İLE OKUDUĞUMU ANLIYORUM

www.ufukkoca.com

SİPARİŞ

0 552 252 83 85

Dolu Dolu

64 SAYFA

METİN İLE İLGİLİ
5 N 1 K
DOĞRU YANLIŞ
TEST
SORULARI

TOPLAM
345 soru

EĞLENCİLİ
OKUMA ANLAMA
ETKİNLİKLERİ

Fiyat : 8 TL

Tamamı Renkli Sayfalar

20 Adet ve üzeri alımlarda

KARGO ÜCRETSİZ.

20 Adet altında alımlarda

kargo ücreti sadece 4 TL.

Sipariş Whatsap : 0 552 252 83 85

MERHABA BEN FUFUK

"Ufuk öğretmenim çok güzel hikayeler yazdı."

Ben biraz yaramaz olduğum için başımdan bir çok olay geçti. Ufuk öğretmenim de bu olayları çok sevimli bir şekilde bu kitaba yazdı. Yaramaz olabilirim ama herkes beni çok sever. Bakalım sen de beni sevecek misin?

İÇİNDEKİLER

FUFUK TATİLDE	4
FUFUK BAĞÇEDE	8
FUFUK UZAYDA	12
FUFUK SINIFTA	16
FUFUK ALIŞVERİŞTE	20
FUFUK OTOBÜSTE	24
FUFUK YARIŞMADA	28
FUFUK SOĞAKTA	32
FUFUK BİLGİSAYARDA	36
FUFUK BAYRAMDA	40
FUFUK ŞANLIURFADA	44
FUFUK TRABZON'DA	48
FUFUK KONYADA	52
FUFUK BURSA'DA	56
FUFUK ANTALYA'DA	60
SİZİN YÜRÜMÜNÜZ	64

FUFUK BİLGİSAYARDA

Fufuk video oynamayı çok sever. Çeşitli eğlenceli videoları internete yükler. İnternette herkes Fufuku izler. Fufuku birçok kişi takip etmeye başlar. Fufuk, internette çok ünlü olur. Annesi Fufuk'un bilgisayar başında çok vakit geçirmesine üzülür. Ama denleri de çok iy olduğu için ona kasmak istemez.

Bir gün annesi Fufuku yanına çağırır.

- Fufuk internet oynamayı ne olurdun?
- Ben ünlü olmasamdan anne.
- İyi! Fufuk onu sormadın. Sen ne yapıyorsun mesela?
- Bilmem ki anne hep internet olduğu için bunu düşünmedim. Ama şimdi düşünüyem. Mesela dışarıda arkadaşlarla oyun oynardım.
- Evet Fufuk bak ne güzel fikir. Neden böyle yapıyorsun?
- Anne zaten video çektiğin arkadaşlarımla oyun oynuyorum. İki tane hep onlarla vakit geçiriyorum. Onur'da bizi videoya çekiyor.

Fufuk bilgisayarında çok vakit geçirir.

Fufuk arkadaşlarıyla oyun oynamaz.

Annesi Fufuk'un videolarına çok güldü.

Pikniğe gitme fikrini Fufuk'un annesi açıklar.

Fufuk, her sabah yataktaki kitap okur.

İnternette Fufuku kim izler ?

Fufuk, çektiği videoları internete yükler ?

Fufuk, nerede çok ünlü olur ?

Kim Fufuku videoya çeker ?

Fufuk, yatmadan önce mutlaka ne yapar ?

Fufuku hiç kimsa takip etmez.

Fufuk, bilgisayar başında çok vakit geçirir.

Fufuk arkadaşlarıyla oyun oynamaz.

Annesi Fufuk'un videolarına çok güldü.

Pikniğe gitme fikrini Fufuk'un annesi açıklar.

Fufuk, her sabah yataktaki kitap okur.

Fufuk'un yurtdışı annesinin yaşadığı ilk soruyu nasıl cevap verirsin?

Fufuk ne yapmayı çok sever ?

Fufuk çektiği videoları nereye yükler ?

Kim Fufuk'un bilgisayar başında çok vakit geçirmesine üzülür ?

Annesi Fufuk'un videolarını izlerken neden ağza vurur ?

Hanelisi piknik yapmaya için hazırlık yapmaz mı ?

Fufuk yatmadan önce ne yapar ?

Fufuk okuduğu kitapta haneli olayları deftere yazmaz ?

Haneli kelimesinin eş anlamlı hikayede yoktur ?

Hikayede geçen çok az isimleri bulup kalem ile uyararak yine alalım.

Hikayede en çok kullanılan noktalama işaretini bulup ismini defterimize yazalım.



DOĞAL SAYILAR



7. En Yakın Onluğa Yuvarlama

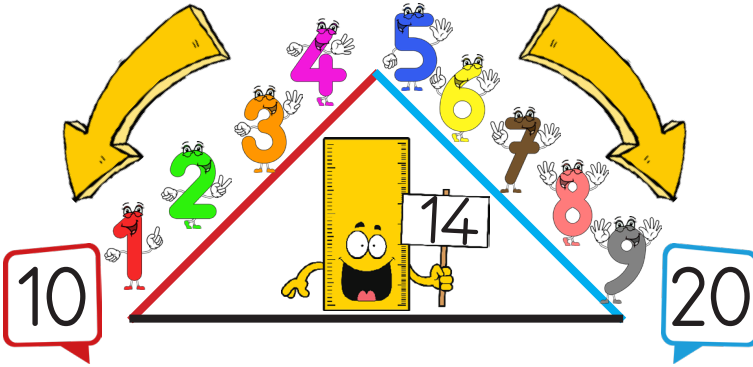
★ BİLGİ ★

Onluğa Yuvarlama : İki basamaklı doğal sayıların, kendisine en yakın onluğa yuvarlanmasına denir.

14 Sayısı 10 ile 20 arasındadır.

Birler basamağı 1, 2, 3, 4 ise **önceki** onluğa yuvarlanır.










Birler basamağı 5, 6, 7, 8, 9 ise **sonraki** onluğa yuvarlanır.




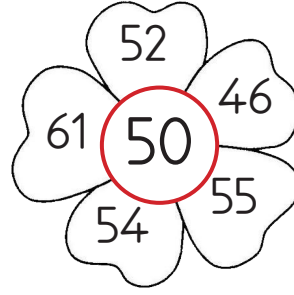
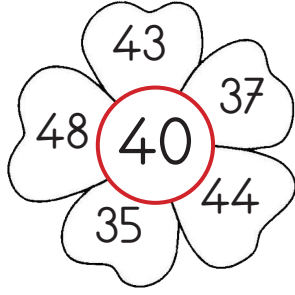

www.ufukkoca.com

ETKİNLİK

1 Aşağıda verilen doğal sayıları örnekteki gibi en yakın onluklarını bulunuz. Hangi onluğa yuvarlanacaksa o onluğı boyayınız.



2 Aşağıda verilen çiçeklerin ortasındaki onluğa yuvarlanan sayıların bulunduğu yaprakları boyayınız.




3 En yakın onluk 20 olan sayıları cetvelde bulup yuvarlak içine alalım.




4 Aşağıda verilen kurala göre balonları boyayınız.




En yakın onluğu 30 olan balonları boya.



En yakın onluğu 50 olan balonları boya.



En yakın onluğu 60 olan balonları boya.



En yakın onluğu 70 olan balonları boya.



5 Aşağıda verilen ifadeler doğru ise başındaki kutucuğa "D" harfi, yanlış ise başındaki kutucuğa "Y" harfi yazınız.



37, 39, 42 ve 43 sayılarının en yakın onluğu kırktır.

54, 56, 61 ve 64 sayılarının en yakın onluğu ellidir.

Yetmiş onluğuna yuvarlanan sayılar 9 tanedir.

SORU

1

En yakın onluğu 20 olan 3 tane sayı yazınız.

Cevap :

SORU

5

En yakın onluğu 30 olan 7 tane sayı yazınız.

Cevap :

SORU

2

En yakın onluğu 40 olan 3 tane sayı yazınız.

Cevap :

SORU

6

En yakın onluğu 60 olan 7 tane sayı yazınız.

Cevap :

SORU

3

En yakın onluğu 50 olan 6 tane sayı yazınız.

Cevap :

SORU

7

En yakın onluğu 60 olan 9 tane sayı yazınız.

Cevap :

SORU

4

En yakın onluğu 80 olan 6 tane sayı yazınız.

Cevap :

SORU

8

En yakın onluğu 90 olan 9 tane sayı yazınız.

Cevap :

1 36 sayısı hangi hayvanın gösterdiği onluğa yuvarlanır?



2  45, 49, 52, 54

Fufuk'un saydığı sayıların hepsi hangi onluğa yuvarlanır?



3  55 → 50

 62 → 60

 77 → 80

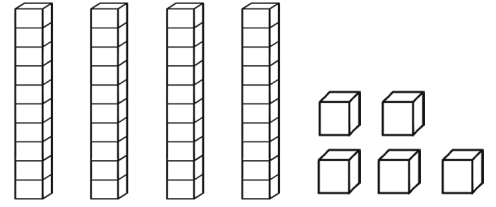
Yukarıdaki çocuklardan hangisi en yakın onluğa yanlış yuvalamıştır?



4 Aşağıdaki sayılardan hangisi 90 onluğuna yuvarlanmaz?



5




Yukarıda modeller ile gösterilen sayının en yakın onluğuna hangisidir?

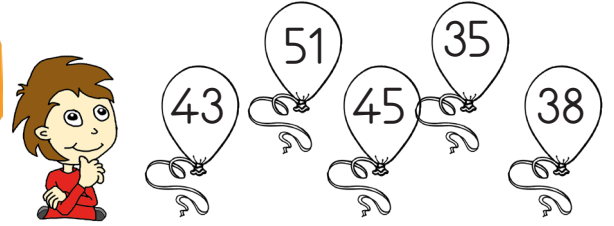


6

Hangi çiçeğin yaprağındaki sayıların hepsi 80 onluğuna yuvarlanır?



7



Fufuk en yakın onluğuna 40 olan sayıların bulunduğu balonları boyamak istiyor. Buna göre Fufuk kaç balon boyar?



Adı :

Soyadı :

Sınıfı : / No :

CEVAPLAR

1	A	B	C	6	A	B	C
2	A	B	C	7	A	B	C
3	A	B	C	8	A	B	C
4	A	B	C	9	A	B	C
5	A	B	C	10	A	B	C