




1. **1.** “Eda, yarın otobüsle Sinop’a gidecek.” cümlesine göre aşağıdakilerden hangisinin cevabı **yoktur**?
- A) kim
B) niçin
C) ne zaman
2. **2.** “Öğretmen, bu akşam öğrencilere çok ödev vermiş.” cümlesine göre aşağıdakilerden hangisinin cevabı **vardır**?
- A) ne
B) niçin
C) nerede
3. **3.** “Paketin içinde vardı.” cümlesini en uygun şekilde tamamlayan kelime hangisidir?
- A) masaya
B) dolabın
C) pasta
4. **4.** Aşağıdaki kelimelerden hangisinin **ünlü (sesli) harf** sayısı daha fazladır?
- A) buzdolabı
B) mühendis
C) hemşire
5. **5.** “**Doktor**, hastaları sırayla muayene ediyordu.” Cümlesinde altı çizili sözcüğün yerine hangisini kullanırsak **anlam değişmez**?
- A) hemşire
B) sünnetçi
C) hekim
6. **6.** Aşağıdaki seçeneklerden hangisi **tekil isimlerden oluşmuştur**?
- A) kalp, mide, ciğerler, gözler
B) böbrek, burun, beyin, ağız
C) kulaklar, karaciğer, dişler, dil
7. **7.** Aşağıdaki cümlelerin hangisinde **özel isim** kullanılmıştır?
- A) Bizim köye de kar yağmaya başladı.
B) Bu güzel kuş kimin acaba?
C) Dedesi, Çanakkale’de şehit olmuştu.
8. **8.** Hangi cümlede **anlatım yanlışlığı** vardır?
- A) Babası, ödevlerine yardım etmeye fırsat bulamaz.
B) Teyzem, dün kardeşimle beraber Erzurum’a gidecek.
C) Dağların başında yine mi duman var?
9. **9.** Aşağıdaki kapları sıvı alma durumuna göre **çoktan aza** doğru sıralarsak hangisi doğru olur?
- 

1



2




3
- A) 3 – 1 – 2
B) 2 – 1 – 3
C) 3 – 2 – 1

10. **10.** Aşağıdaki besinlerden hangisi bardak ile ölçülebilir?



A)



B)



C)

11. **11.** Beşer beşer ritmik sayarken de ikişer ikişer ritmik sayarken de hangi sayıyı söyleriz?
A) 20 B) 25 C) 34

12. **12.** Aşağıdaki şekillerden hangisi simetri doğrusuyla iki eş parçaya ayrılabilir?



A)



B)



C)

13. **13.** Hangi seçenekteki toplama işleminin sonucu doğrudur?

A)	55	B)	83	C)	20
	+		+		+
	24		14		59
	-----		-----		-----
	79		99		69

14. **14.** Ece, bu hafta 6 hikâye kitabı okudu. Ablası ise Ece'den 3 tane fazla kitap okudu. Buna göre ikisinin okuduğu toplam kitap sayısını bulunuz?
A) 10 B) 12 C) 15

15. **15.** Ferhat, Kerem ve Leyla okula minibüsle geliyorlar. Üçü minibüsün uzunluğu hakkında tahminde bulunuyorlar. Acaba hangisinin tahmini daha doğrudur?

- A) Ferhat = 8 m.
B) Kerem = 3 m.
C) Leyla = 1 m. 50 cm.

16. **16.** Oturduğumuz sıranın uzunluğu yaklaşık ne kadardır?

- A) 3 m. 10 cm.
B) 2 m. 50 cm.
C) 1 m. 20 cm.

17. **17.**



Yandaki saat, 3 saat öncesinde kaç gösteriyordu?

- A) saat: 7.00 B) saat: 12.00 C) saat: 9.30

18. **18.** "Şiddetli yağışlar derelerin ve ırmakların taşmasına neden olur. Buna denir." İfadesine göre, noktalı yere hangisi yazılmalıdır?

- A) deprem B) heyelan C) sel

19. **19.** Aşağıdakilerden hangisi konuşarak iletişim yapmamızı sağlar?



A)



B)



C)

20. **20.** Aşağıdaki ifadelerden hangisi doğru değildir?
 A) Sağlığımızı koruyabilmek için vücut temizliğine önem vermeliyiz.
 B) Sağlığımızı koruyabilmek için yaşımıza uygun spor yapmalıyız.
 C) Sağlığımızı koruyabilmek için aynı türden yiyeceklerle beslenmeliyiz.

21. **21.** Yüzümüzü Güneş'in doğduğu yöne dönersek **sağ kolumuz** hangi yönü gösterir?
 A) güney
 B) doğu
 C) batı


22. **22.** Aşağıda görülen resimdeki yuvada hangi hayvan yaşamaktadır?



- A) köstebek
 B) leylek
 C) koyun

23. **23.** Sağlığımız için yararlı olan besinler hangileridir?
 A) süt, peynir, yumurta, et, sebze
 B) cips, hamburger, patates, kola
 C) çikolata, şeker, yağlı kızartmalar

24. **24.** Aşağıdaki resimlere göre hangisi doğrudur?

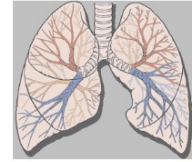


- A) Tuğba, Orhan'ın sağındadır.
 B) Orhan, Seda'nın sağındadır.
 C) Seda, Orhan'ın sağındadır.

25. **25.** Solunum yapmamızı sağlayan ve kanımızı temizleyen organ hangisidir?



A)

kalp
C) mide

B) akciğer