


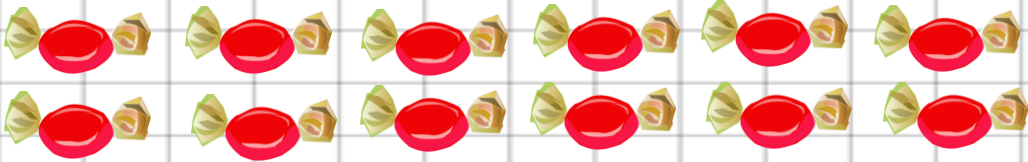
## DESTE VE DÜZİNE

Aynı türden 10 nesnenin bir araya gelip oluşturduğu topluluğa **1 deste** denir.



**1 deste** lale

Aynı türden 12 nesnenin bir araya gelip oluşturduğu topluluğa **1 düzine** denir.



**1 düzine** şeker

Aşağıdaki kutucuklardaki nesnelere sayalım. **1 deste** mi yoksa **1 düzine** mi olduklarını işaretleyelim.




1 deste

1 düzine



1 deste

1 düzine



1 deste

1 düzine




1 deste

1 düzine


Aşağıdaki kutucuklardaki nesnelere sayalım. 1 deste mi yoksa 1 düzine mi olduklarını işaretleyelim.




1 düzine  1 deste



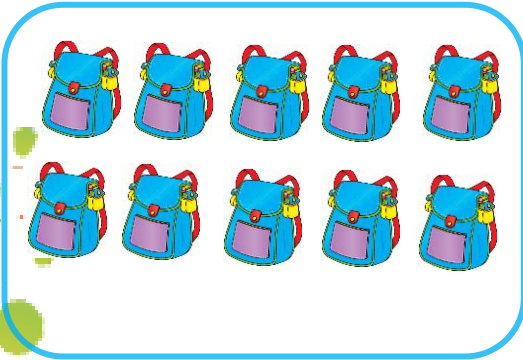
1 düzine  1 deste




1 düzine  1 deste



1 düzine  1 deste



1 düzine  1 deste



1 düzine  1 deste