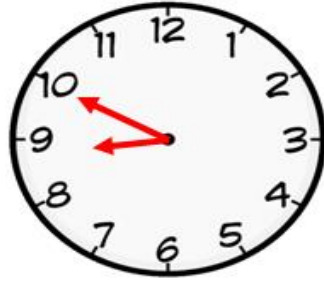
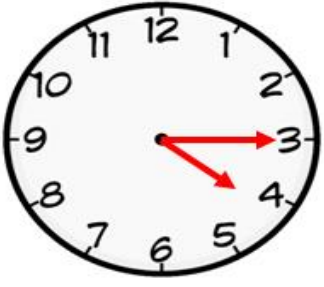


Aşağıda verilen analog saatlerin öğleden önce ve öğleden sonra gösterdikleri zamanı yazınız.



Öğleden önce

 : 

Öğleden önce

 : 

Öğleden sonra

 : 

Öğleden sonra

 : 


Öğleden önce

 : 

Öğleden önce

 : 

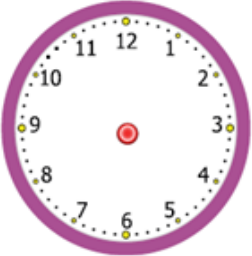
Öğleden sonra

 : 

Öğleden sonra

 : 

Dijital saatleri analog saatte gösteriniz.



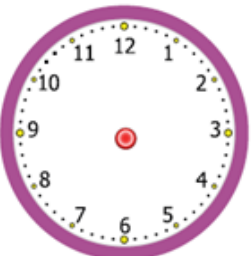
12:45



6:35



18:10



22:05



14:55



20:20

Aşağıda okunuşları verilen saatleri dijital saatlerde gösteriniz.

"Beşe beş var"


 : 

"On sekize çeyrek var"


 : 


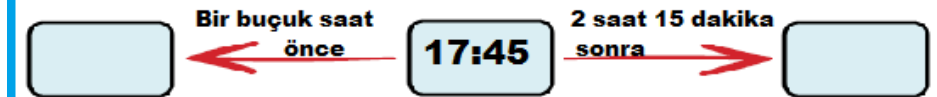
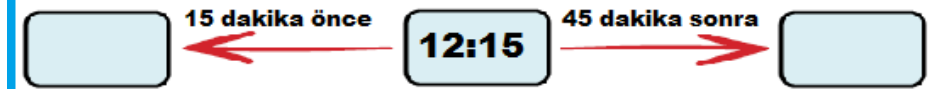
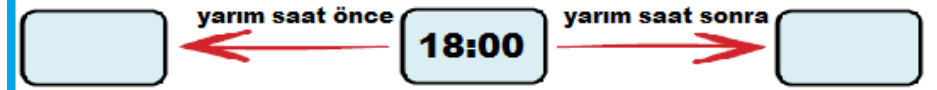
"Yediye yirmi beş var"


 : 

"On bire on bir var"


 : 

Ortak saatlere göre istenilen zamanları gösteriniz.



RECEP ALPTEKİN

Aşağıdaki boşlukları doldurunuz.

- saat → .....dakikadır.
- saat → .....tane yarım saatten oluşur.
- saat → .....tane çeyrek saatten oluşur.
- saniye → .....saniyedir.
- gün → .....saattir.
- hafta → .....gündür.
- ay → .....gündür.
- ay → .....haftadır.
- yıl → .....gündür.
- yıl → .....aydır.
- yıl → .....haftadır.
- yıl → .....mevsimdir.

Aşağıdaki boşlukları doldurunuz.

- 5 gün, ..... saattir.
- 72 saat, .....gündür.
- 1 gün 10 saat, .....saattir.
- 5 hafta, .....gündür.
- 63 gün, ..... haftadır.
- 3 ay, ..... gündür
- 3 ay, ..... haftadır.
- 2 yıl, .....haftadır.
- 4 ay 2 hafta, .....gündür.
- 3 yıl, ..... aydır.
- 2 buçuk yıl, .....aydır.
- 30 ay, ..... yıl..... aydır.
- 85 gün, .....hafta.....gündür.
- Sonbahar mevsiminin son ayı.....
- İlkbahar mevsiminin ilk ayı.....

45 Dakika önce saat 11:30 idi. Bir buçuk saat sonra saat kaç olur?

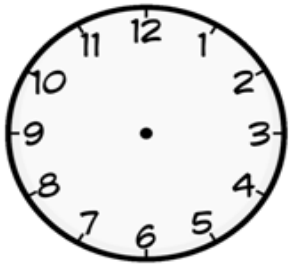
Çözüm :

Akşam 20: 30 'da İzmirden kalkan uçak 75 dakika sonra Adana'ya iniş yapmıştır. Uçak Adana'ya saat kaçta iniş yapmıştır?

Çözüm :

Leyla bir soruyu 2 dakikada çözmektedir. 75 soruluk bir sınavı aşağıda gösterilen saatte bitirdiğine göre ; Leyla sınavı saat kaçta başlamıştır? Sınavı başladığı saati saat modelinde gösteriniz?


Başlangıç



Bitiş



Çözüm :

 Yandaki araç 15 dakikada 30 kilometre yol gitmektedir. Bu araç 2 saatte kaç kilometre yol gider?

Çözüm :

Her hafta sonu basketbol kursuna giden bir öğrenci bir yılda kaç defa kursa gitmiş olur?

Çözüm :

Yusuf'un babası nisan ayında Mersin'den İstanbul'a çalışmak için gitmiştir. Yusuf'un babası Mersin'e kış ayında dönmüştür. Buna göre babası **en fazla** kaç ay çalışmıştır?

Çözüm :

Elisa sinemaya gitmiştir. 16:45'te başlayan filminden saat 19:30 'da çıkmıştır. Filmde 15 dakika ara verildiğine göre ; film kaç dakika sürmüştür?

Çözüm :

RECEP ALPTEKİN

Alper → Günde kaç saat uyuyorsun?

Recep → Günümün " üçte birini" uyuyarak geçiriyorum?

Alper → Peki. Kaç saat okulda zaman geçiriyorsun?

Recep → Bir günümün  $\frac{1}{4}$ 'ini okulda geçiriyorum.

Recep geriye kalan zamanında diğer işlerine ayırmaktadır. Buna göre Recep diğer işlerine kaç saat ayırmaktadır?

Çözüm :



Yukarıda verilen saatler sıralama olmaksızın biri 14 dakika, diğeri 3 dakika ve üçüncüsü de 20 dakika geri ya da ileridir.

Buna göre **doğru zaman** aşağıdakilerden hangisidir?

A) 16: 20

B) 16: 25

C) 16:15

Çözüm :